

宁夏回族自治区教育厅中小学教材审查委员会审定

新编

学习之友

宁夏教育厅教学研究室 编



●北师大版

数学 一年级（下册）



黄河出版传媒集团
宁夏人民教育出版社



“新冠”病毒防控歌

新病毒，肺里藏，传染性强传播广。
小学生，不恐慌，科学防护真正棒。
常消毒，勤洗手，可怕病毒无处藏。
吃熟食，食蔬果，营养丰富免疫强。
少出门，不聚集，不给病毒留余地。
若出门，戴口罩，正确戴法是关键。
战疫情，冲一线，白衣天使是榜样。
小学生，也帮忙，多做运动保健康。
防疫战，靠大家，守法团结听党话。
待疫情，消灭净，重回校园同欢庆。



宁夏回族自治区教育厅中小学教材审查委员会审定

新编

学习之友

宁夏教育厅教学研究室 编



●北师大版

数学 一年级（下册）



黄河出版传媒集团
宁夏人民教育出版社

《学习之友》编写委员会

主 编 岳维鹏
副 主 编 黄建忠 马 兰 姜俐冰 杨占军 白忠明 慕 英 王俊生 葛建华(执行)
编 委 岳维鹏 黄建忠 马 兰 姜俐冰 杨占军 白忠明 慕 英 王俊生 葛建华
安 奇 吕晓雅 杨威虎 马桂萍 武 琪 马学梅 王俊昌 金 慧 姚利萍
孙雁秋 马 卉 武卫民 王 春 张春燕 仇千记 曹天祥 张世虎

本 册 主 编 武卫民

本册编写者 张宝民 马青云 马 媛 杨 健 胡月琴

图书在版编目(CIP)数据

学习之友. 一年级数学. 下册: 北师大版 / 宁夏教育厅教学研究室编. -- 银川: 宁夏人民教育出版社, 2017.12(2020.1 重印)

ISBN 978-7-5544-2408-7

I. ①学… II. ①宁… III. ①小学数学课—习题集
IV. ①G624

中国版本图书馆CIP数据核字(2017)第299095号

学习之友 一年级数学(下册) 北师大版

宁夏教育厅教学研究室 编

责任编辑 孙 莹

责任校对 吴 阳

封面设计 杭永鸿

责任印制 殷 戈



黄河出版传媒集团 出版发行
宁夏人民教育出版社

地 址 宁夏银川市北京东路139号出版大厦(750001)

网 址 <http://www.yrpubm.com>

网上书店 <http://www.hh-book.com>

电子信箱 jiaoyushe@yrpubm.com

邮购电话 0951-6024704

经 销 宁夏教育书刊发行有限公司

印刷装订 宁夏雅昌彩色印务有限公司

印刷委托书号 (宁)0016085

开本 880 mm×1230 mm 1/16

印张 5.25 字数 118千字

印数 4800册(2020年春季)

版次 2017年12月第1版

印次 2020年1月第3次印刷

书号 ISBN 978-7-5544-2408-7

定价 6.83元

版权所有 侵权必究

如发现印、装质量问题,影响阅读,请拨打投诉电话:0951-5014284

致小读者

亲爱的同学们：

新的学期来到了,这本全新的《学习之友》终于和大家见面了,希望通过《学习之友》使我们成为真正的好朋友。

这套《学习之友》是根据《数学课程标准(2011版)》,由众多资深教研员和优秀教师精心编写而成的,与数学课本同步的配套教学辅助材料。主要内容为基础练习、拓展练习和综合与应用构成,具有很强的综合性和趣味性。为了使同学们能够轻松、愉快地学习,老师们特地把每个练习的题量控制在一页。同时,同学们可以有选择地做一些自己喜欢做的题,并不要求每题必做;为了使同学们及时掌握自己的学习水平,在每个单元结束及学期末安排了一些学习水平自我检测。为了编写这本《学习之友》,老师们考虑了许多,希望同学们能够喜欢。

我们希望同学们通过《学习之友》,能够及时了解自己的学习状况,了解课本之外的数学世界,会用数学的眼光观察社会,会用数学的思考方法解决身边的问题。最后,愿《学习之友》伴随同学们快乐成长。

衷心地希望大家提出宝贵意见。

编者

目录

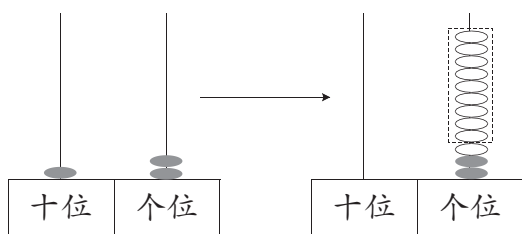
Contents

一 加与减(一)	01
二 观察物体	13
三 生活中的数	15
四 有趣的图形	22
期中梳理	26
五 加与减(二)	30
数学好玩	39
六 加与减(三)	41
期末检测	53
单元能力训练(一)	57
单元能力训练(二)	61
单元能力训练(三)	65
单元能力训练(四)	69
单元能力训练(五)	73
单元能力训练(六)	77

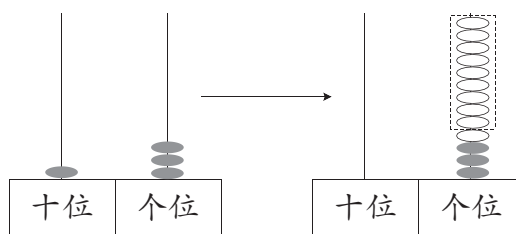
— 加与减(一)

买铅笔(1)

1. 做一做, 填一填。



$$\square \bigcirc \square = \square$$



$$\square \bigcirc \square = \square$$

2. 圈一圈, 算一算。



$$13 - 9 = \square \text{ (个)}$$



$$16 - 9 = \square \text{ (个)}$$

3. ◆◆◆◆◇◇◇◇

$$9 + 6 = \square$$

◆◆◆◆◆◇◇

$$15 - 9 = \square$$

4. $11 - 9 =$

$17 - 9 =$

$15 - 9 =$

$16 - 9 =$

$18 - 9 =$

$13 - 9 =$

$12 - 9 =$

$14 - 9 =$

5. 解决问题。



公交车上有 17 个人, 到站了, 有 9 个人下车。



这时车上还有几个人?

$$\square \bigcirc \square = \square \text{ ()}$$

答: 这时车上还有 _____ 个人。



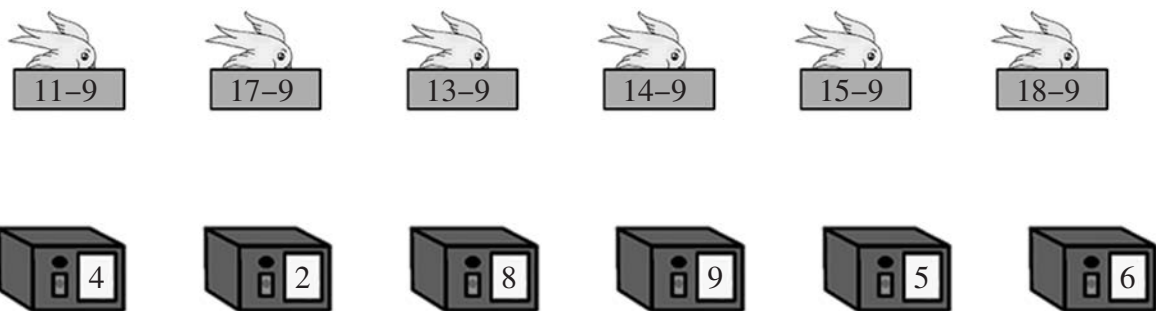
买铅笔(2)

1. $9+7=$ $9+3=$ $9+5=$ $9+9=$
 $16-9=$ $12-9=$ $14-9=$ $18-9=$

2. 用你喜欢的方法计算。

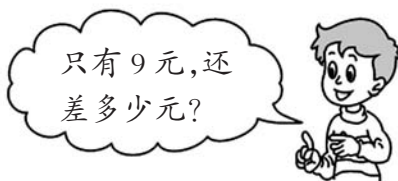
$11-9=$ $17-9=$ $15-9=$ $16-9=$
 $18-9=$ $13-9=$ $12-9=$ $14-9=$

3. 连一连。



4. 想一想,算一算。

(1)



\bigcirc = (元)

答:还差_____元。

(2) 小明拍了多少下?



\bigcirc = (下)

答:小明拍了_____下。

捉迷藏

1. 圈一圈,算一算。




$15-8= \square$



$14-8= \square$

2. 画一画,填一填。



$13-8= \square$

3. 算一算。



$11-8=$



$15-8=$



$12-8=$



$14-8=$



$13-8=$



$16-8=$




$17-8=$



$18-8=$

4. 解决问题。



? 个



16 个

$\square \bigcirc \square = \square ()$



? 个



15 个

$\square \bigcirc \square = \square ()$

5. 摘苹果。

$11-8$

$13-8$

$17-8$

$16-8$

$14-8$

$12-8$

$10-8$

$15-8$

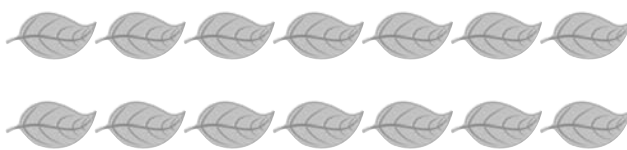


快乐的小鸭(1)

1. 圈一圈,算一算。

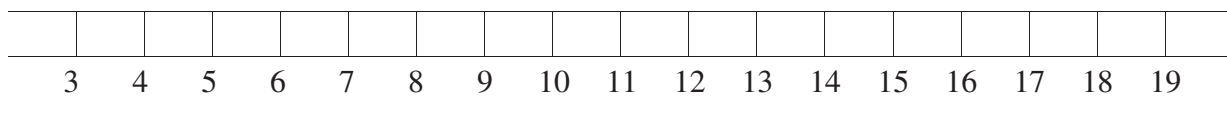


$$12-7 = \square$$



$$14-6 = \square$$

2. 画一画,填一填。



$$15-7 = \square$$

3.



$$7+8 = \square$$

$$15-7 = \square$$



$$\square + \square = \square \quad (\quad)$$

$$\square - \square = \square \quad (\quad)$$

4. 看谁算得又对又快。

$14-6 =$

$12-7 =$

$11-6 =$

$15-6 =$

$14-7 =$

$12-6 =$

5. 解决问题。

(1) 一共有14个。



$$\square \bigcirc \square = \square \quad (\text{个})$$

答: 树上有 _____ 个苹果。

(2) 一共有13条手帕。

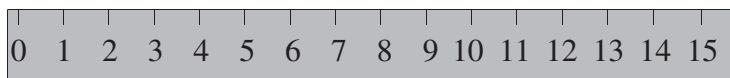


$$\square \bigcirc \square = \square \quad (\text{条})$$

答: 盆里有 _____ 条手帕。

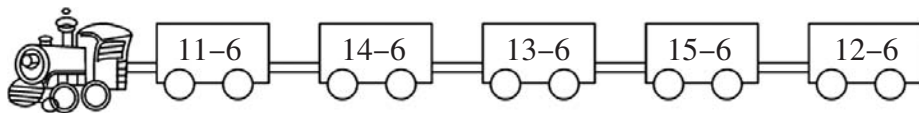
快乐的小鸭(2)

1. 画一画, 填一填。



$14-6=$

2. 连一连。



$16-7=$

$14-6=$

$13-6=$

$15-6=$

$12-6=$

$11-7=$

$11-6=$


$14-7=$

4. 一共有16个桃子。



$\square \bigcirc \square = \square$ (个)

5. 鸭妈妈带了11只 出来玩, 小岛后面还有几只?




$\square \bigcirc \square = \square$ (只)

答: 小岛后面还有 _____ 只。



开会啦


1. 每只小兔1个萝卜,还差几个萝卜?



用○表示小兔 ○ ○ ○ ○ ○ ○ ○ ○ ○ ○ ○ ○
用△表示萝卜 △ △ △ △ △ △ △ △ △ △

$\square \bigcirc \square = \square$ (个) 还差 \square 个。

2.



(1) 每个小朋友分1个苹果,还缺多少个苹果?

$\square \bigcirc \square = \square$ (个)

(2) 再提出一个数学问题,并解答。

问题: _____

$\square \bigcirc \square = \square$ (个)

3. 口算。

$3+9=$	$12-7=$	$17-9=$	$7+8=$	$16-8=$
$15-7=$	$14-9=$	$11-7=$	$11-6=$	$9+7=$
$12-6=$	$17-8=$	$13-7=$	$18-9=$	$13-9=$

4. 在○里填上“+”或“-”。

$17 \bigcirc 9 = 8$	$7 \bigcirc 8 = 15$	$9 \bigcirc 9 = 0$	$6 \bigcirc 6 = 12$
$7 \bigcirc 6 = 13$	$16 \bigcirc 7 = 9$	$11 \bigcirc 7 = 4$	$12 \bigcirc 2 = 10$
$14 \bigcirc 7 = 7$	$15 \bigcirc 6 = 9$	$11 \bigcirc 8 = 3$	$13 \bigcirc 5 = 18$



跳伞表演(1)

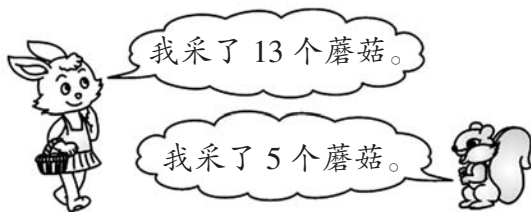
1. (1)谁摘得多? 多几个?



$$\square \bigcirc \square = \square \text{ (个)}$$

答: _____ 摘得多。多 _____ 个。



(2)谁采得多? 多几个?



$$\square \bigcirc \square = \square \text{ (个)}$$

答: _____ 采得多。多 _____ 个。

2. 比 少几只?



$$\square \bigcirc \square = \square \text{ (只)}$$

3. 看谁算得又对又快。

$11-2 =$

$11-3 =$

$13-4 =$

$14-5 =$

$12-4 =$

$12-5 =$

$13-5 =$

$11-4 =$

$12-3 =$

$11-5 =$

$12-2 =$

$15-5 =$

4. 把括号里正确的得数圈出来。

$13-5 = (8 \ 9 \ 7)$

$13-4 = (9 \ 8 \ 7)$

$12-5 = (6 \ 8 \ 7)$

$11-4 = (9 \ 8 \ 7)$

$11-3 = (7 \ 8 \ 9)$

$11-2 = (7 \ 8 \ 9)$


$12-4 = (7 \ 8 \ 9)$

$14-5 = (7 \ 8 \ 9)$

5. 欢欢比乐乐多采了多少个松果?


$$\square \bigcirc \square = \square \text{ (个)}$$

答: 欢欢比乐乐多采了 _____ 个松果。




跳伞表演(2)

1. (1) 谁多? 多几只?




$$\square \bigcirc \square = \square \text{ (只)}$$

(2) 谁少? 少几只?



$$\square \bigcirc \square = \square \text{ (只)}$$

2.



	() 个
	() 个
	() 个

比 多几个?

$$\square \bigcirc \square = \square \text{ (个)}$$

比 少几个?

$$\square \bigcirc \square = \square \text{ (个)}$$

3. 算一算, 连一连。

11-5

9

13-5

11-4

8

11-2

12-4

7

12-6

14-5


6

12-5

4. 填一填。



比()小。



19-()=15

比6大()。




7和()合起来是15。



美丽的田园

1.



(1) 填一填。

有 只小鸟, 只小鸡, 只青蛙。

(2) 小鸡比青蛙多几只?

$$\square \bigcirc \square = \square \text{ (只)}$$

(3) 下面列式解决的是什么问题?

$$13 - 5 = \square \text{ (只)}$$

问题: _____

(4) 再提出一个数学问题, 并试着解答。

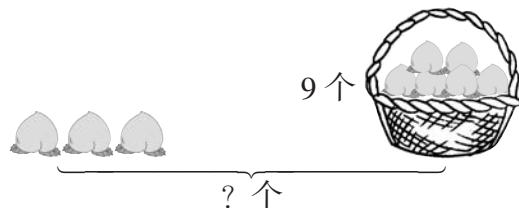
问题: _____

$$\square \bigcirc \square = \square \text{ (只)}$$

2. 看图列式计算。



$$\square \bigcirc \square = \square \text{ (支)}$$

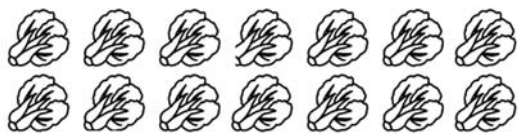


$$\square \bigcirc \square = \square \text{ (个)}$$




练习一(1)

1. 圈一圈,算一算。



$14-6=$



$18-9=$

2. 画一画,填一填。



$13-6=$

3. 看谁都能算对。

$14-9=$

$12-9=$

$11-3=$

$17-8=$

$18-9=$

$16-8=$

$14-3=$

$12-6=$


$14+5=$

$15-6=$

$15-7=$

$16-7=$

4. 连一连。



5. 大家一起来读书。

我读了 16 页。



我读了 8 页。



我读了 9 页。



(1) 小明比小佳多读了几页?

$\square \bigcirc \square = \square$ (页)

(2) 小佳和小语两人一共读了多少页?

$\square \bigcirc \square = \square$ (页)



练习一(2)

1. 写算式。

$\square + \square = \square$
 $\square + \square = \square$
 $\square - \square = \square$
 $\square - \square = \square$

$\square + \square = \square$
 $\square + \square = \square$
 $\square - \square = \square$
 $\square - \square = \square$

2. 数一数, 填一填。


(1) ○有()个, □有()个, △有()个。

(2) △比○多()个。

$\square \bigcirc \square = \square$ (个)

(3) △和□一共有()个。

$\square \bigcirc \square = \square$ (个)



(4) 请你再提出一个数学问题并解答。

问题: _____

$\square \bigcirc \square = \square$ (个)

3. 看谁写得多。

$\square \bigcirc \square = 11$
 $\square \bigcirc \square = 11$
 $\square \bigcirc \square = 11$

$\square \bigcirc \square = 15$
 $\square \bigcirc \square = 15$
 $\square \bigcirc \square = 15$

做个减法表

1. 把下面的减法表补充完整。

10-1	10-2				10-6			10-9
11-2		11-4			11-7		11-9	
12-3			12-6	12-7				
	13-5	13-6						
	14-6			14-9				
15-6								
16-7		16-9						
	17-9							
18-9								

2. 算一算。

$15-6=$

$14-7=$

$16-8=$

$15-9=$

$17-9=$

$12-3=$

$12-6=$

$15-8=$

$16-9=$

$11-9=$

3. 从上面的减法表中找一找, 并把它们写下来。



写出得数是7的算式。

① _____ ② _____ ③ _____ ④ _____

⑤ _____ ⑥ _____ ⑦ _____



写出12减几的算式。

① _____ ② _____ ③ _____ ④ _____

⑤ _____ ⑥ _____ ⑦ _____

4. 妈妈买回12个苹果。



吃了4个苹果。

还剩几个苹果?

$\square \bigcirc \square = \square \text{ (个)}$


答: 还剩 _____ 个苹果。



二 观察物体

看一看(一)

1. 小丽看到的是哪一幅图? (画“√”)



2. 下面的图分别是谁看到的? 连一连。



3. $11-8=$

$17-9=$

$12-3=$

$8+5=$


$13-6=$

$9+6=$


$15-7=$

$12-4=$

4. 这些图分别是谁看到的? 连一连。




5. 下面这些照片分别是谁拍的? 连一连。



看一看(二)

1. 下面的图是谁看到的？连一连。



2. 他们分别看到什么？连一连。



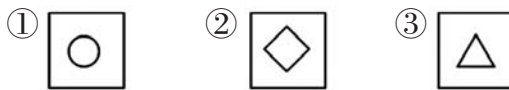
小红
小东
小明

3.



小宇 小丽 小梅

4. 填一填。



小明看到图(), 小鸟看到图(), 小新看到图()。



三 生活中的数

数花生

1. 数一数,写一写。

(1) 一个一个地数,从四十八数到五十二。

_____、_____、_____、_____、_____

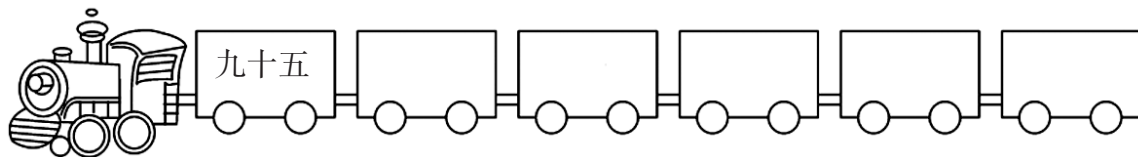
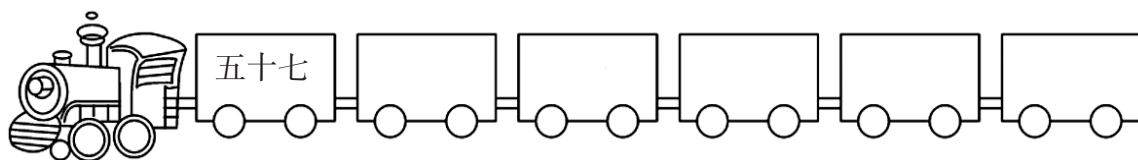
(2) 两个两个地数,从五十六数到六十四。

_____、_____、_____、_____、_____

(3) 五个五个地数,从六十五数到八十五。

_____、_____、_____、_____、_____


2. 在下面各数的后面,连续数出五个数来。



3. 圈一圈,数一数。

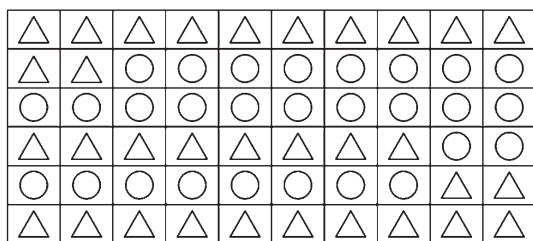


()



()

4.



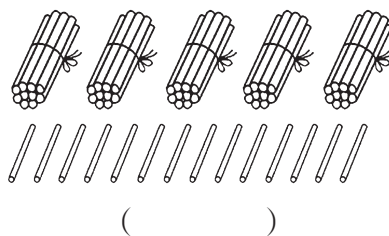
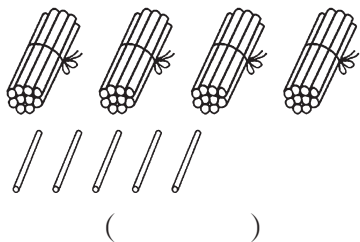
△ 有()个,

○ 有()个。

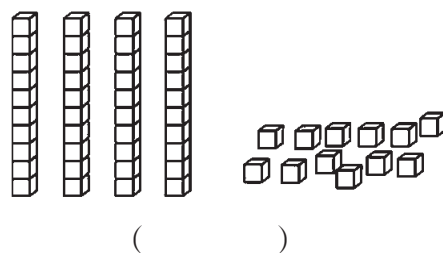
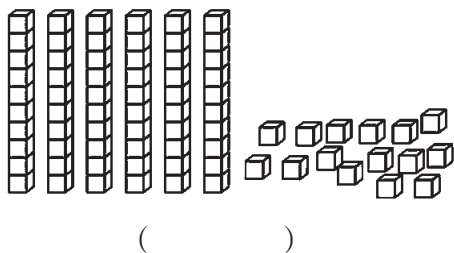


数一数

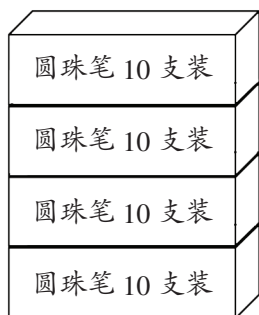
1. 圈一圈,数一数,有多少根小棒?



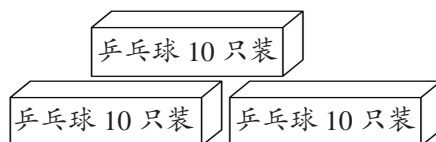
2. 圈一圈,数一数,有多少块小方块?



3. 数一数,填一填。



()个十和()个一
是()。



()个十和()个一
是()。

4. 填一填。

- (1) 10个十是()。
- (2) 九十九个再添一个是()个。
- (3) 八十八个再增加两个是()个。
- (4) 5个十是()。

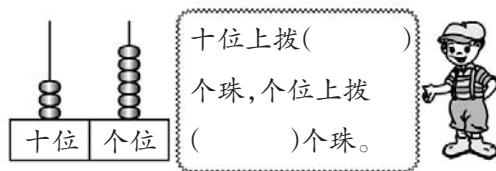
5. 按规律填数。

32	34	36						
			60	65	70			



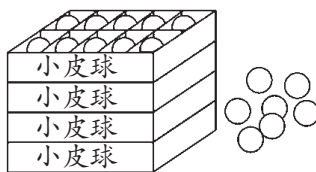
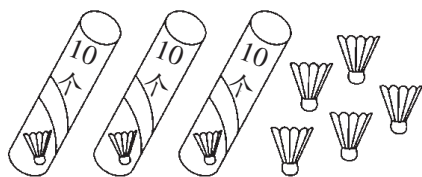
数豆子

1. 做一做,填一填。



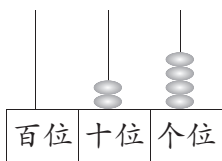
()个十和()个一是36。

2. 填一填。

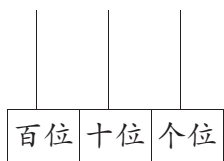


()个十和()个一是()。()个十和()个一是()。

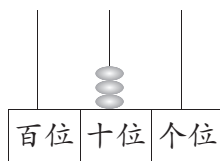
3. 画一画,写一写。



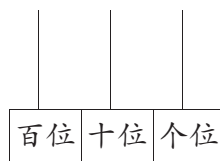
()



52



()



100

4. 填一填。

(1)42里面有()个十和()个一。

(2)55里面有()个十和()个一。

(3)60里面有()个十。

(4)100里面有()个十。

5. 按要求写数字。

(1)一个两位数的个位上是8,十位上是6,这个数是()。

(2)58中的“5”表示()个(),“8”表示()个()。

(3)写出4个十位上是5的数:(),(),(),()。

(4)写出4个十位上是1的数:(),(),(),()。

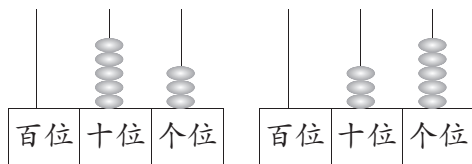
(5)写出2个十位和个位上数字相同的两位数:(),()。

(6)35后面连续3个数是:(),(),()。

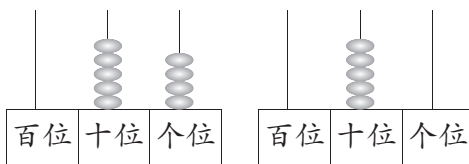


谁的红果多

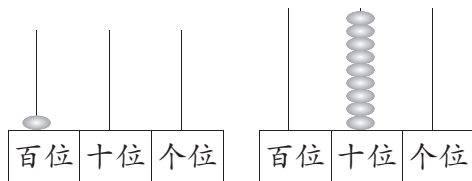
1. 先写数,再比大小。



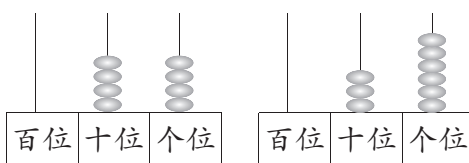
() ○ ()



() ○ ()



() ○ ()



() ○ ()

2. 想一想,填一填。

$37 < \square$

$\square > 68$

$\square < 50$

$95 > \square$

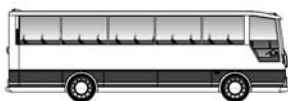
$\square > 42$

$66 > \square$

$31 < \square$

$\square < 72$

3. 请上车。



大于48的请
上这辆车。



小于48的请
上这辆车。




4. 写一写,填一填。

(1) 写出3个个位上是6的数: _____, _____, _____。其中()最大,()最小。


(2) 写出3个十位上是8的数: _____, _____, _____。其中()最大,()最小。

(3) 写出3个个位和十位相同的数: _____, _____, _____。其中()最大,()最小。


5. 用 表示10, 用 表示1, 哪组比40多? 画“√”。




()



()



()



()



小小养殖场

1. 谁学得好?



小佳

我考了 80 分。



小语

我比小佳考得好多了。



小明

我考的分数比小佳少一些。

小明考试成绩下面画“○”，
小语考试成绩下面画“√”。

70	85	98

2. 连一连。



3.



明明

我做对的你差不多。

数学竞赛我做对 50 道题。



丽丽

明明可能做对了多少道题? (画“√”)

95	48	17

4.



我这篮桃子有 46 个。



我这篮桃子可能有多少个?



在你认为合适的答案下面画“√”。

90 个	52 个	25 个

5. 这个礼盒可能是多少钱? 在合适的答案下面画“√”。

不是, 比 80 元少一些。



是 80 元吗?

不是, 比 70 元少一些。



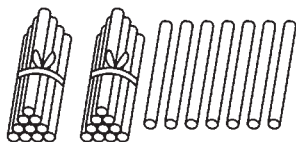
是 70 元吗?

85 元	77 元	65 元

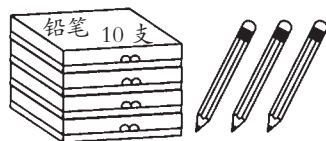


练习二

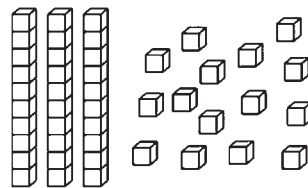
1. 填一填。



()个十和()
个一是()。



()个十和()
个一是()。



()个十和()
个一是()。

2. 找规律, 填数。

(1)	18		22	24		30		
-----	----	--	----	----	--	----	--	--

(2)	100	95		85		75		60
-----	-----	----	--	----	--	----	--	----

3. 一条裤子18元, 一件上衣比一条裤子贵得多, 这件上衣可能是多少元?

18元



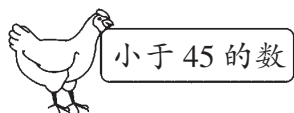
?元



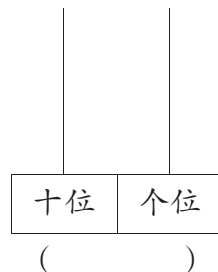
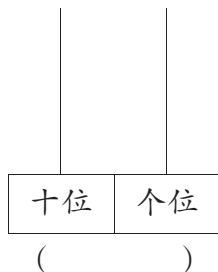
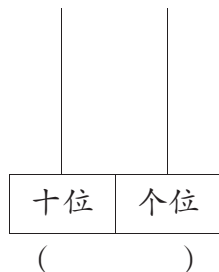
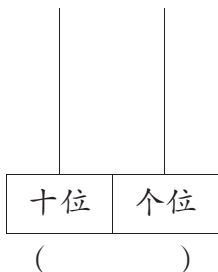
在你认为合适的下面画“√”。

18元	20元	46元

4. 连一连。



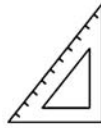

5. 在计数器上拨五个珠子, 可以表示什么数? 画一画, 写一写。



四 有趣的图形

认识图形

1. 连一连。



长方形



三角形



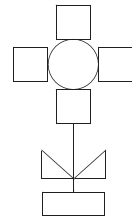
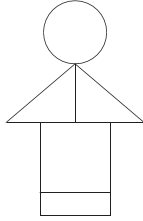

正方形




圆



2. 将○涂成黄色, □涂成红色, △涂成绿色, ◻涂成蓝色。



3. 请在方格纸上画一个长方形、一个正方形、一个三角形。

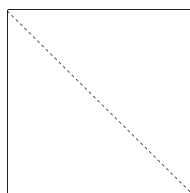


4. 想一想, 请你接着画下去。

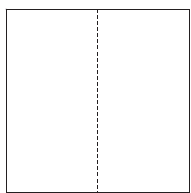


动手做(一)

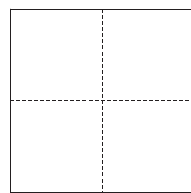
1. 把下面的正方形纸沿虚线剪开,能得到什么图形?



2个()




2个()

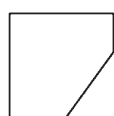


4个()

2. 从右边的图形中,各选出两个图形,拼成左边的图形。



()和()



①



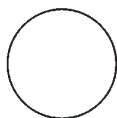
②



③



④



()和()



①



②



③



④

3. 按要求分一分。

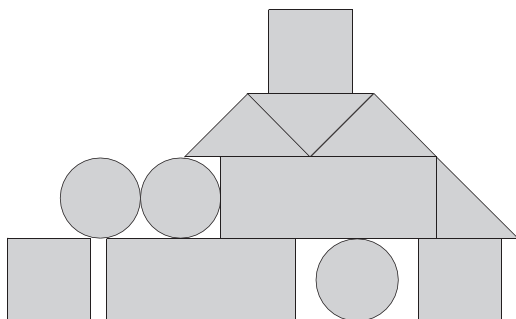


分成 2 个长方形



分成 2 个三角形

4. 数一数,填一填。




()个



()个



()个



()个



动手做(二)

1. 看一看, 填一填。

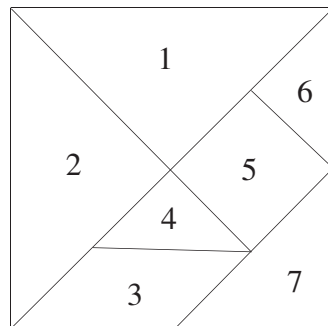
(1) 三角形有 _____ 号图、_____ 号图、_____ 号图、_____ 号图、_____ 号图。

(2) _____ 号图是平行四边形。

(3) 5号图是 _____ 形。

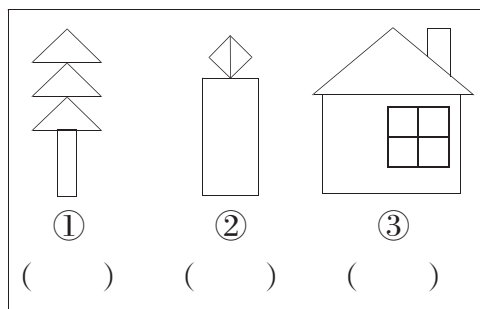
(4) 在七巧板中两个图形大小、形状完全相同的是 _____ 号图和 _____ 号图, 还有 _____ 号图和 _____ 号图。

(5) 七巧板由 _____ 种图形组成。

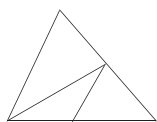


2. 看一看, 每幅图像什么? 动手填一填。

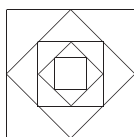
图①中有()个三角形, 图②中有()个三角形, 图③中有()个三角形, 三幅图中一共有()个长方形。




3. 数一数, 填一填。



() 个三角形

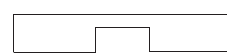

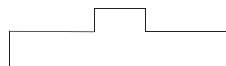


() 个正方形



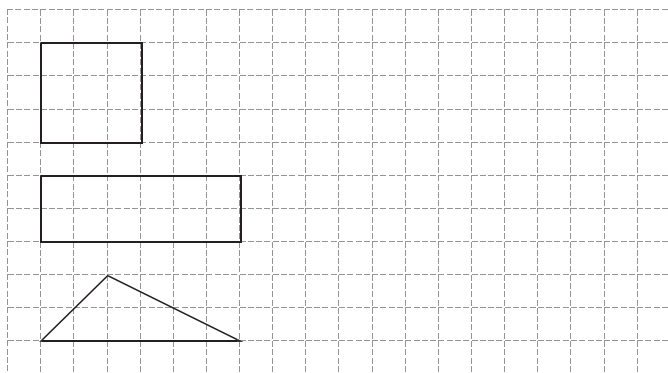
() 个正方形

4. 下面图中哪两个图形可以拼成一个长方形, 请用线连起来。

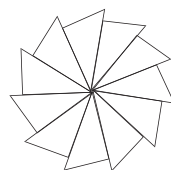
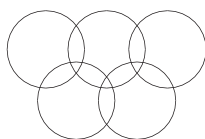
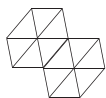



动手做(三)

1. 在方格纸上照样子画一画。



2. 下面的图案分别是由什么图形组成的？连一连。

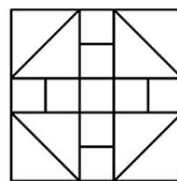
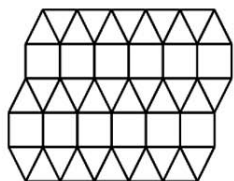
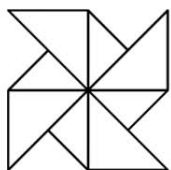


三角形

正方形

圆

3. 下面的图案分别是由哪些图形组成的？



()

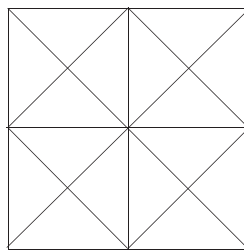
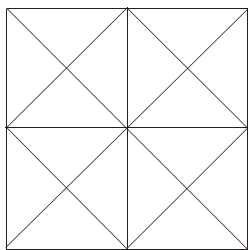
()

()

4. 按要求涂一涂。

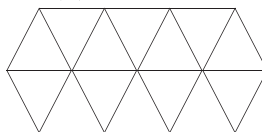
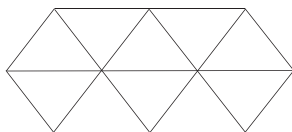
(1) 找出两个 \triangle , 并涂上美丽的颜色。

(2) 找出两个 \square , 并涂上美丽的颜色。



(3) 找出两个 \triangle , 并涂上美丽的颜色。

(4) 找出两个 \square , 并涂上美丽的颜色。



期中梳理

1. 填一填。(每空1分,共20分)

(1)猜一猜。

我比 11 少 6,
我是()。



我比 9 多 4,
我是()。



我比 14 少 6,
我是()。



(2) ○ ○ ○ ○ ○ ○ ○ ○ ○ ○ ○ ○ ○ ○ ○ ○

△ △ △ △

() 比 () 多 () 。

△ △ △ △ △ △ △ △

☆ ☆ ☆ ☆ ☆ ☆ ☆ ☆ ☆ ☆ ☆ ☆ ☆ ☆ ☆ ☆

() 比 () 少 () 。

(3) 在 ○ 里填上 “>” “<” 或 “=”。

$3+14$ ○ $13-4$

$12-6$ ○ $16-8$


$18-2$ ○ $16-5$

10 ○ $16-6$

$14-7$ ○ $13-7$

$6+8$ ○ 13

(4) 小动物们分别看到的是数字几? 填一填。



(5) 刚刚看见的画 “○”, 莹莹看见的画 “△”。



()

()



2. 判断题。(对的在括号里画“√”,错的画“×”。)(每题2分,共8分)

- (1)白球有9个,红球有8个,白球比红球多1个。 ()
- (2)男生比女生多5人,女生比男生少5人。 ()
- (3)小丽有15支铅笔,送给小英6支,还剩8支。 ()
- (4)小明的作业,“优秀”有12次,“良好”有4次,优秀比良好少8次。 ()

3. 算一算。(共28分)

(1)直接写得数。(每题1分,共20分)

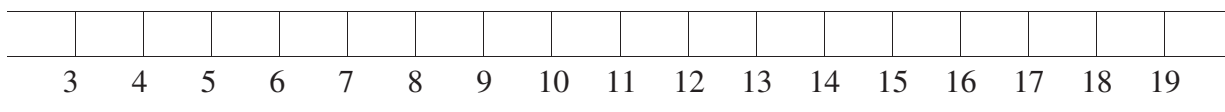
15-8=	16-9=	11-3=	14-7=	12-5=	17-9=	11-2=
12-4=	18-9=	16-7=	11-8=	12-3=	13-6=	9+6=
15-7=	12-4=	9+8=	11+4=	6+7=	13-5=	

(2)在  里填上合适的数。(每题1分,共8分)

 -5=6	 -3=8	 -9=2	 -7=7
9+  =15	 -6=8	 +9=13	8+  =17

4. 动手操作。(共13分)

(1)画一画,填一填。(2分)



14-7=

(2)他们分别看到的是什么? 连一连。(3分)



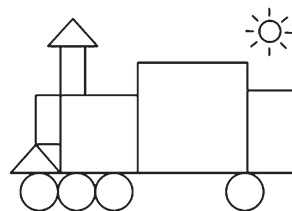
小红

小强

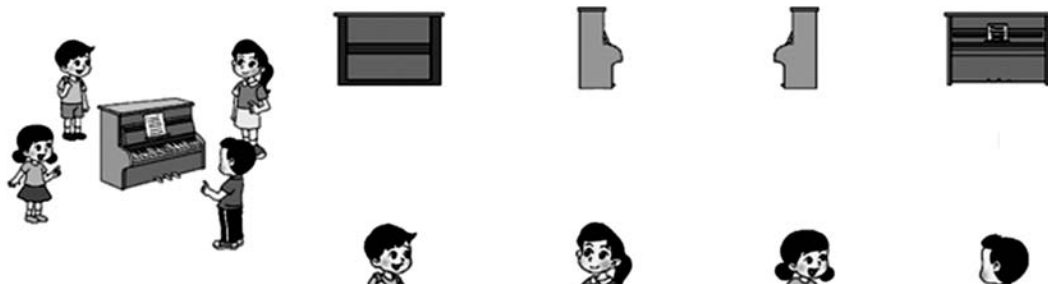
小京

(3)数一数。(4分)


有()个正方形,有()个长方形,
有()个三角形,有()个圆。



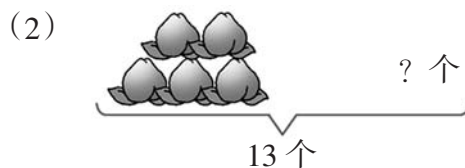
(4)他们分别看到的是哪一面? 连一连。(4分)



5. 看图列式计算。(每题4分,共8分)



$$\square \bigcirc \square = \square \text{ (只)}$$



$$\square \bigcirc \square = \square \text{ (个)}$$

6. 解决问题。(共23分)

(1)小丽要浇14盆花。(4分)



还剩多少盆没有浇?

$$\square \bigcirc \square = \square \text{ (盆)}$$

答:还剩_____盆没有浇。

(2)现在车上还有多少人?(3分)



$$\square \bigcirc \square = \square \text{ (人)}$$

答:现在车上还有_____人。



(3)(6分)



①小兰比小丽多踢几下?

②小亮比小兰少踢几下?


$$\square \bigcirc \square = \square \text{ (下)}$$

$$\square \bigcirc \square = \square \text{ (下)}$$

答:小兰比小丽多踢_____下。

答:小亮比小兰少踢_____下。

(4)小动物运动会。(10分)



①有()只兔子在跑步,有()只小羊在跳绳,有()只袋鼠在跳远,

有()只鸭子在游泳。(4分)

②鸭子比袋鼠多几只?(3分)

$$\square \bigcirc \square = \square \text{ (只)}$$

答:鸭子比袋鼠多_____只。

③下面算式解决的是什么问题?(3分)

$$11-4=\square \text{ (只)}$$



五 加与减(二)

小兔请客

1. 看图先列算式,再填写各部分名称。

每捆 10 根。

再加 2 捆。

□ ○ □ = □ (根)

∴ ∴ ∴

() () ()

每捆 10 根。

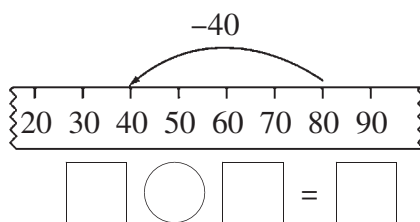
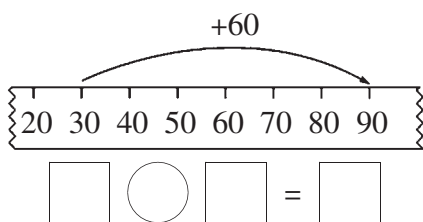
拿走 2 捆。

□ ○ □ = □ (根)

∴ ∴ ∴

() () ()

2. 看一看,填一填。



3. 小鸭吃鱼。(得数写在算式后面)

60-30= 40+50= 30+60= 80-40=

90-60= 50+30= 40+40= 100-30=

4. 连一连。

50+20

90-20

40+10

100-50

50-20



20+10

50-30

60+10

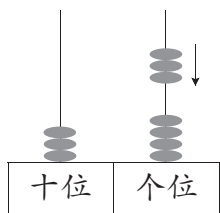
80-10

90-70

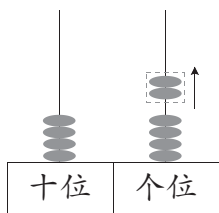


采松果

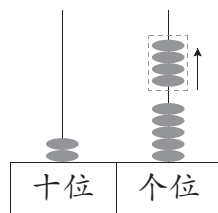
1. 拨一拨,算一算。



$$\square \bigcirc \square = \square$$



$$\square \bigcirc \square = \square$$



$$\square \bigcirc \square = \square$$

2. 算一算。

$88-5 =$

$27-7 =$

$38-7 =$

$45-2 =$

$23-2 =$

$32+5 =$


$23+6 =$

$66+2 =$

$55+4 =$

$27-5 =$

3. 解决问题。



(1) 两只兔子一天一共采了多少朵蘑菇?

(2) 灰兔子比白兔子一天多采多少朵蘑菇?

$$\square \bigcirc \square = \square \text{ (朵)}$$

$$\square \bigcirc \square = \square \text{ (朵)}$$

答: 两只兔子一天一共采了 _____ 朵蘑菇。

答: 灰兔子比白兔子一天多采 _____ 朵蘑菇。

4. 交换加数算一算。

$32+3 =$

$74+5 =$

$7+20 =$

$46+3 =$

$3+32 =$

$5+74 =$

$20+7 =$

$3+46 =$

你能像上面那样写出两组算式吗?

$$\square \bigcirc \square = \square$$

$$\square \bigcirc \square = \square$$


$$\square \bigcirc \square = \square$$

$$\square \bigcirc \square = \square$$



青蛙吃虫子

1.



(1) 两只猫一共抓了多少只?

$$\square \bigcirc \square = \square \quad (\quad)$$

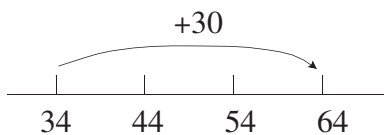
答: 两只猫一共抓了 _____ 只。

(2) 小灰猫比小白猫少抓多少只?

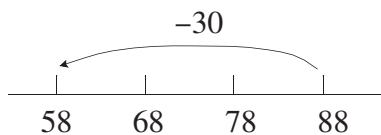
$$\square \bigcirc \square = \square \quad (\quad)$$

答: 小灰猫比小白猫少抓 _____ 只。

2. 看一看, 填一填。



$$\square \bigcirc \square = \square$$



$$\square \bigcirc \square = \square$$

3. 算一算。

$56 - 50 =$

$96 - 90 =$

$62 + 20 =$

$34 + 50 =$

$27 - 10 =$

$72 + 20 =$

$84 - 80 =$

$37 + 30 =$

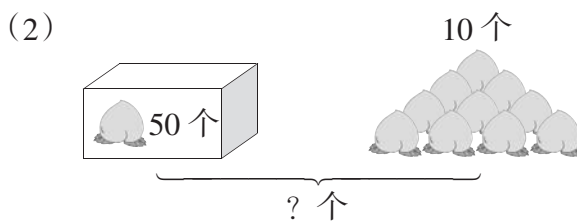
$79 - 30 =$

$11 + 70 =$

4. 看图列式计算。




$$\square \bigcirc \square = \square \quad (\text{颗})$$



$$\square \bigcirc \square = \square \quad (\text{个})$$

5. 每个小朋友 1 个苹果, 还差多少个苹果?



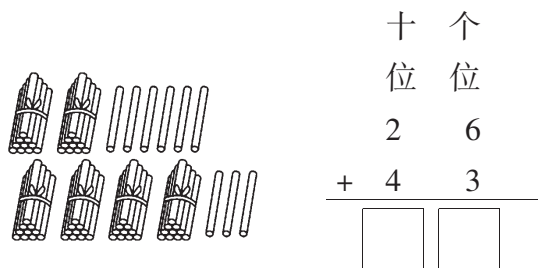
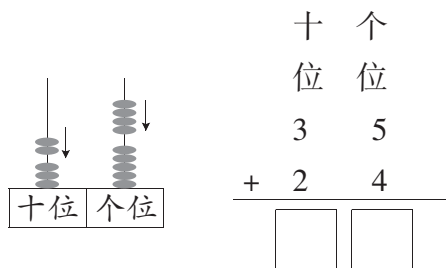
$$\square \bigcirc \square = \square \quad (\quad)$$

答: 还差 _____ 个苹果。



拔萝卜

1. 看图填空。



□ ○ □ = □

□ ○ □ = □

2. 妙妙和沙沙一共捡了多少个松果?




□ ○ □ = □ ()

答: 妙妙和沙沙一共捡了 _____ 个松果。

3. 用竖式计算。

65+23=	42+57=	25+44=	76+12=	46+3=
--------	--------	--------	--------	-------

4. 它们一共钓了多少条鱼?



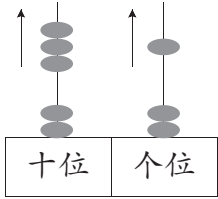
□ ○ □ = □ ()

答: 它们一共钓了 _____ 条鱼。

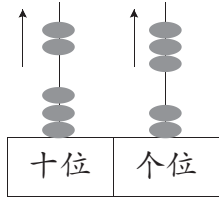


收玉米

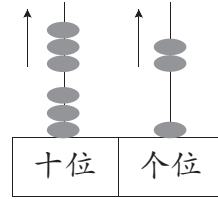
1. 看图填空。



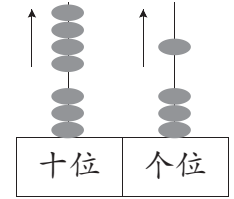
$53 - 31 = \square$



$55 - \square = \square$



$\square - 32 = \square$



$\square - \square = \square$

2. 用竖式计算。

$$\begin{array}{r} 68 - 11 = \\ \hline \end{array}$$

$$\begin{array}{r} 95 - 35 = \\ \hline \end{array}$$

$$\begin{array}{r} 78 - 6 = \\ \hline \end{array}$$

$$\begin{array}{r} 43 - 41 = \\ \hline \end{array}$$

$$\begin{array}{r} 59 - 45 = \\ \hline \end{array}$$

3. 森林医生。

$$\begin{array}{r} 89 \\ - 19 \\ \hline 7 \end{array}$$

()

改正:

$$\begin{array}{r} 49 \\ - 27 \\ \hline 62 \end{array}$$

()

改正:

$$\begin{array}{r} 58 \\ - 36 \\ \hline 82 \end{array}$$

()

改正:


$$\begin{array}{r} 88 \\ - 35 \\ \hline 55 \end{array}$$

()

改正:

4. 小兔子还有多少个萝卜?

我拔了 36 个萝卜，
送给弟弟 14 个。



$\square \bigcirc \square = \square \text{ ()}$

答: 小兔子还有 _____ 个萝卜。



回收废品(1)

1. 看图提出两个数学问题,并解答。

问题1: _____

$$\square \bigcirc \square = \square \quad (\quad)$$

问题2: _____

$$\square \bigcirc \square = \square \quad (\quad)$$



2. 画一画,算一算。

(1) ☆ 比 △ 少4个。



(2) △ 比 ○ 多6个。



3.

我吃了 32 只害虫。



我比你多吃了 15 只。



大青蛙吃了多少只害虫?

$$\square \bigcirc \square = \square \quad (\text{只})$$

鸭比鸡少了 27 只。



鸡有 38 只。



鸭有多少只?

$$\square \bigcirc \square = \square \quad (\text{只})$$

鸡和鸭一共有多少只?


$$\square \bigcirc \square = \square \quad (\text{只})$$

4.

原来有 14 只小鸟。



又飞来了 25 只。



(1) 现在一共有多少只?

$$\square \bigcirc \square = \square \quad (\text{只})$$

(2) 飞来的比原来的多多少只?

$$\square \bigcirc \square = \square \quad (\text{只})$$



回收废品(2)

1. 用竖式计算。

$87-42=$

$25+33=$

$52+27=$

$65-34=$

2. 猜猜我是几?



$\square \bigcirc \square = \square$



$\square \bigcirc \square = \square$

3. (1)



大猴摘了多少个桃子?

$\square \bigcirc \square = \square \quad (\quad)$

答:大猴摘了_____个桃子。

(2)



小西看了多少页?

$\square \bigcirc \square = \square \quad (\quad)$

答:小西看了_____页。

4. 看图提出一个数学问题,并解答。

问题:_____

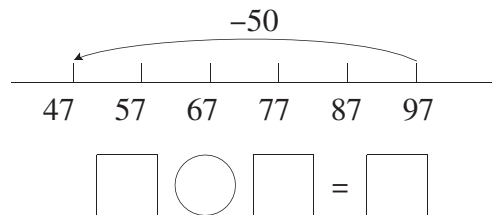
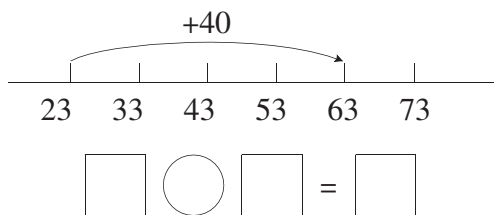
$\square \bigcirc \square = \square \quad (\quad)$

答:_____



练习三(1)

1. 看一看, 填一填。



2. 算一算。

23+36 =	72-21 =	24+60 =	50+19 =	17+40 =
80-50 =	87-80 =	90-20 =	90-22 =	64+5 =

3. 用竖式计算。

39-27 =	58+30 =	98-37 =	6+93 =	45+21 =	89-29 =
---------	---------	---------	--------	---------	---------

4. 在○里填上“>”“<”或“=”。

89-60 ○ 89-6	90-40 ○ 30+20	62+25 ○ 81+7
66-4 ○ 76-14	42+50 ○ 42+5	66+12 ○ 62+16

5.



我跑了46米。

我跑了33米。



(1) 小白兔比小灰兔少跑了多少米?

□ ○ □ = □ (米)

答: 小白兔比小灰兔少跑了_____米。

(2) 两只小兔子一共跑了多少米?

□ ○ □ = □ (米)

答: 两只小兔子一共跑了_____米。



练习三(2)

1. 下面的计算对吗? 把错的改过来。

$\begin{array}{r} 56 \\ - 32 \\ \hline 28 \\ () \end{array}$		$\begin{array}{r} 87 \\ - 5 \\ \hline 37 \\ () \end{array}$		$\begin{array}{r} 55 \\ - 30 \\ \hline 85 \\ () \end{array}$
---	--	--	--	---

2. (1) 买一本故事书和一个文具盒一共要多少元?

$$\square \bigcirc \square = \square \text{ ()}$$

答: 买一本故事书和一个文具盒一共要 _____ 元。



20 元



15 元

(2) 我有35元, 买一个书包还差多少元?

$$\square \bigcirc \square = \square \text{ ()}$$

答: 买一个书包还差 _____ 元。



38 元



12 元

(3) 再提出一个数学问题, 并解答。

问题: _____

$$\square \bigcirc \square = \square \text{ ()}$$

3.



(1) 青椒比西红柿多多少个?

$$\square \bigcirc \square = \square \text{ (个)}$$

答: 青椒比西红柿多 _____ 个。

(2) 卷心菜比西红柿少多少个?

$$\square \bigcirc \square = \square \text{ (个)}$$

答: 卷心菜比西红柿少 _____ 个。

4. 遮住的可能是什么数?

$$\begin{array}{r} 4 \quad \text{☁} \\ - \quad \text{☁} \quad 3 \\ \hline \quad \quad 6 \end{array}$$

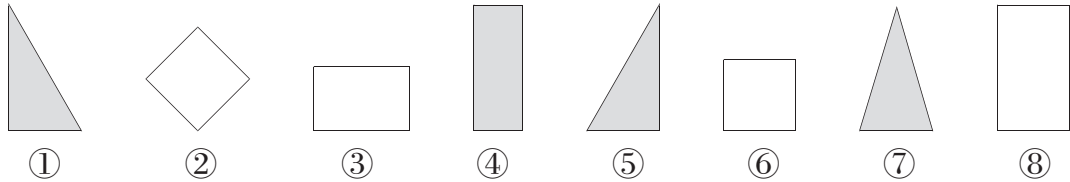
$$\begin{array}{r} \quad \quad 8 \quad \text{☁} \\ + \quad \quad \quad 3 \\ \hline \quad \text{☁} \quad \text{☁} \end{array}$$

$$\begin{array}{r} \quad \text{☁} \quad \text{☁} \\ - \quad 3 \quad \text{☁} \\ \hline \quad 6 \quad 2 \end{array}$$



分扣子

1. 分一分, 填一填。(填序号)



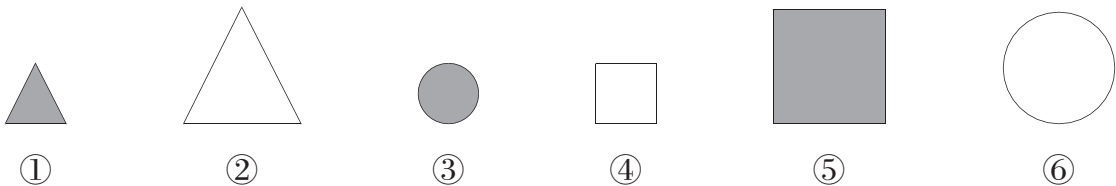
(1) 按颜色分:

灰色	白色

(2) 按图形的形状分:

三角形	长方形	正方形

2. 请按照不同的标准将下面的图形分类。(填序号)



(1) 按形状分()类:

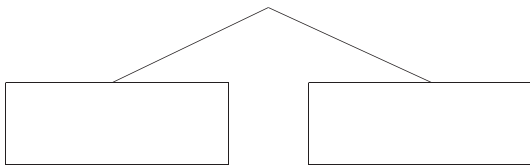
(2) 按颜色分()类:

(3) 按大小分()类:

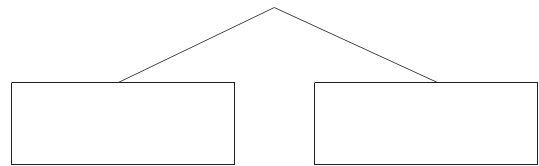
3. 你会将下面的算式分类吗? 试试看。(填序号)

① $9-1=8$ ② $6+3=9$ ③ $7+1=8$ ④ $16-7=9$ ⑤ $11-3=8$ ⑥ $5+4=9$

分两类(按得数分)



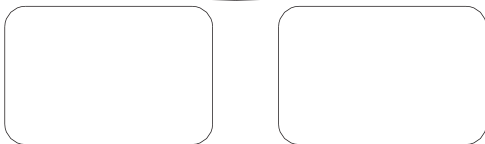
分两类(按加、减法分)




4. 把下面的卡片分类。

8 17 9 20 11 2 46 5

按单数、双数分。



按一位数、两位数分。



填数游戏

1. 仔细观察,认真填。

- (1)每个空格里只能填1、2、3中的一个。
 (2)每一横行、每一竖行的数字都不能重复。

1		
	2	
	1	3

2. 填一填。

1	4			3
5	3		2	4
4		5	3	1
2	1			5
3	5	4		2

- (1)每个空格里只能填1、2、3、4、5中的一个。
 (2)每一横行、每一竖行的数字都不能重复。

3. 填一填。

☆		◎	△	
○	☆	□	◎	
△	○		□	◎
◎	△	○		
	◎	△		☆

- (1)每个空格里只能填□、◎、△、○、☆中的一个。
 (2)每一横行、每一竖行的图形都不能重复。

4. 小猫吃鱼。



21	23	25	31	38	39	40	45
22	21	23	25	28	29	31	33
23	24	25	39	38	37	36	34
25	26	26	27	28	40	41	42
26	32	31	30	29	30	41	42
27	33	36	40	30	39	40	43
28	34	35	36	37	38	41	44
29	30	36	38	39	40	44	45

小猫按从21到45的顺序走,才能吃到鱼。请画出小猫的行走路线。



5. 填一填。

21	24		
23	22		24
22	21	24	
		22	

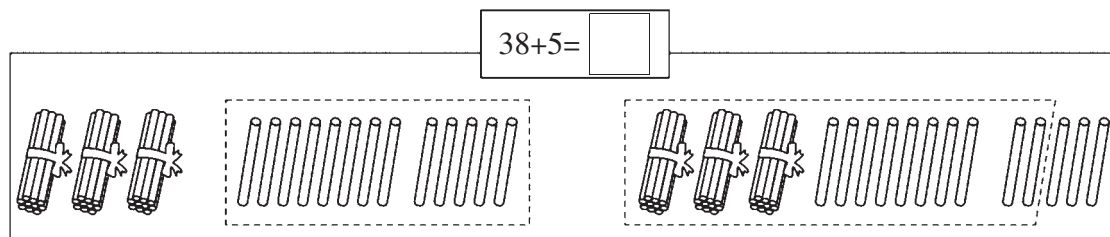
- (1)每个空格里只能填21、22、23、24中的一个。
 (2)每一横行、每一竖行的数字都不能重复。



六 加与减(三)

图书馆(1)

1. 摆一摆,填一填。




$8+5=\square$

$30+\square=\square$


$38+2=\square$

$\square+3=\square$

2. 圈一圈,算一算。



$25+6=\square$



$38+7=\square$

3. 用竖式计算。

$48+8=$

$5+66=$

$7+58=$

$77+5=$

$16+8=$

4. 算一算。

$63+7=$

$75+9=$

$29+4=$

$56+7=$

$49+9=$

$8+66=$

$45+5=$

$7+78=$

$27+7=$


$3+58=$

5. (1) 小明家一共养了多少只鸡?



我们家养了 25 只
母鸡, 9 只公鸡。

小明



$\square \bigcirc \square = \square \quad (\quad)$

答: 小明家一共养了 _____ 只鸡。

(2) 李伯伯一共要搬多少盆?

我搬了 9 盆,
还要搬 46 盆。



$\square \bigcirc \square = \square \quad (\quad)$

答: 李伯伯一共要搬 _____ 盆。



图书馆(2)

1. 男孩收集了多少个?

我比你多收集 5 个。

我收集了 19 个。



$$\square \bigcirc \square = \square \quad (\quad)$$

答: 男孩收集了 _____ 个。

2. 画一画, 算一算。

45 46 47 48 49 50 51 52 53

$$46+7 = \square$$

26 27 28 29 30 31 32 33

$$27+6 = \square$$

3. 森林医生。

$$\begin{array}{r} 55+8=53 \\ 5 \quad 5 \\ + \quad 8 \\ \hline 5 \quad 3 \end{array}$$

()

$$\begin{array}{r} 7+18=88 \\ 7 \\ + \quad 1 \quad 8 \\ \hline 8 \quad 8 \end{array}$$

()

4. 在○里填上“>”“<”或“=”。

$$34+8 \bigcirc 42$$

$$5+45 \bigcirc 60$$

$$92 \bigcirc 74+8$$

$$35 \bigcirc 35+9$$

$$4+86 \bigcirc 90+0$$

$$20+78 \bigcirc 85+6$$

$$53+9 \bigcirc 7+55$$

$$38+21 \bigcirc 4+46$$

5. 这一排有多少人?

我左边有 8 人,
右边有 16 人。



答: 这一排有 _____ 人。



摘苹果(1)

1. 估一估。



书包 68 元



笔袋 13 元

大约()元。



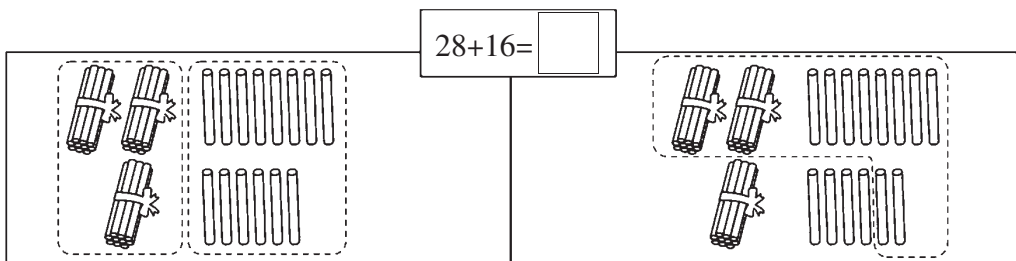
42 只



17 只

大约()只。

2. 摆一摆,算一算。



$20+10=\square$

$8+6=\square$

$28+2=\square$

$\square+14=\square$

$\square+\square=\square$

3. 用竖式计算。

$44+28=$

$27+18=$

$15+36=$

$46+28=$

4.

我拔了 6 根萝卜。



我拔了 26 根萝卜。



两只小兔一共拔了多少根萝卜?

$\square \bigcirc \square = \square \quad (\quad)$

答:两只小兔一共拔了_____根萝卜。

5.

我有 24 张卡片。



熊大

我比熊大多 17 张。



熊二

熊二有多少张卡片?

$\square \bigcirc \square = \square \quad (\quad)$

答:熊二有_____张卡片。



摘苹果(2)

1. 选择题,在正确答案后面的□里画“√”。

(1)得数比40大的算式。

19+3

25+16

17+17

18+15

(2)36元正好可以买哪两件物品?



20元

17元

19元

9元

(3)一年级(1)班有男生27人,女生29人。有60本作业本,每人分一本,够分吗?

够

不够

(4)淘气有18张邮票,张丽比淘气多9张,张丽有多少张?

9张

27张

37张

19张

2. 用竖式算一算。

28+29=

49+12=

63+27=

45+29=

19+29=

3. 森林医生。

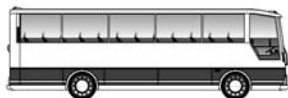
$$\begin{array}{r} 28 \\ + 23 \\ \hline 45 \end{array}$$

()

$$\begin{array}{r} 46 \\ + 34 \\ \hline 70 \end{array}$$

()

4. 共有90人去参观博物馆,坐哪两辆车比较合适? 用算式表示出来。



能坐 58 人



能坐 34 人



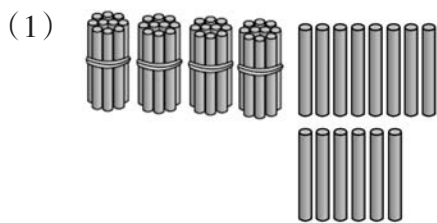
能坐 18 人

○ = ()

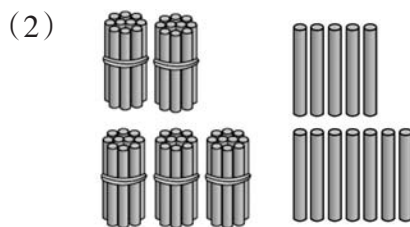


练习四(1)

1. 圈一圈,算一算。



$$48+6= \square$$










$$25+37= \square$$

2. 画一画,算一算。



$$44+8= \square$$

3. 算一算,连一连。



4. 解决问题。



15 元



38 元



16 元



34 元

(1) 买一个火腿肠和一只烤鸡,一共需要多少元?

$$\square \bigcirc \square = \square \quad (\quad)$$

答:一共需要_____元。

(2) 50元钱可以买什么?

$$\square \bigcirc \square = \square \quad (\quad)$$

答:可以买_____和_____。



练习四(2)

1. 在○里填上“>”“<”或“=”。

$25+17 \bigcirc 25+7$

$37+38 \bigcirc 38+37$

$27+12 \bigcirc 42+7$

$23+9 \bigcirc 40$

$55 \bigcirc 46+8$

$42+42 \bigcirc 82$

2. 用竖式计算。

$72+8=$



$28+56=$

$59+41=$

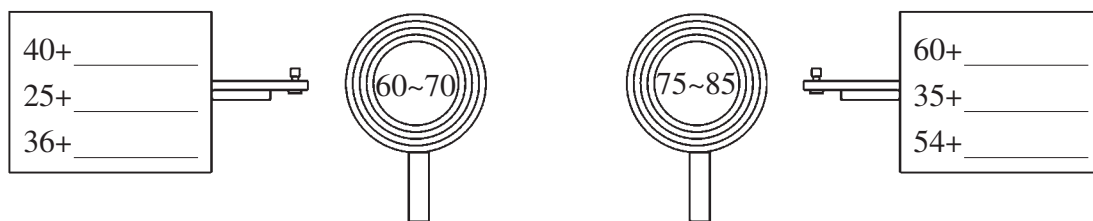
$13+78=$

$8+59=$

3. 森林医生。



4. 填什么数,才能打中?



5. 一年级(1)班的图书柜里有一批图书,借走49本,还剩下9本,图书柜里原来有多少本图书?

$\square \bigcirc \square = \square \quad (\quad)$

答:图书柜里原来有_____本图书。



阅览室(1)

1. 用小棒摆一摆,算一算。

$81-5=$

$45-9=$

$52-6=$

$35-7=$

$76-8=$

2. 想一想,算一算。

$10-8=$

$14-7=$

$26-6=$

$90-1=$

$30-8=$

$34-7=$

$26-7=$

$90-2=$

$50-8=$

$44-7=$

$26-8=$

$90-3=$

3. 算一算,画一画。

$$\begin{array}{r}
 52-9= \\
 \begin{array}{|c|c|}
 \hline
 & \\
 \hline
 \end{array} \\
 \begin{array}{|c|c|}
 \hline
 \text{十位} & \text{个位} \\
 \hline
 \end{array}
 \end{array}$$

$$\begin{array}{r}
 33-7= \\
 \begin{array}{|c|c|}
 \hline
 & \\
 \hline
 \end{array} \\
 \begin{array}{|c|c|}
 \hline
 \text{十位} & \text{个位} \\
 \hline
 \end{array}
 \end{array}$$

$$\begin{array}{r}
 40-6= \\
 \begin{array}{|c|c|}
 \hline
 & \\
 \hline
 \end{array} \\
 \begin{array}{|c|c|}
 \hline
 \text{十位} & \text{个位} \\
 \hline
 \end{array}
 \end{array}$$

4. 用竖式计算。

$47-8=$

$54-7=$

$30-9=$

$72-8=$

$32-9=$

$72-9=$

$31-7=$

$46-9=$

$52-6=$

$25-8=$

5. 判断。(对的画“√”,错的画“×”,并改正。)

$$\begin{array}{r}
 63 \\
 - 9 \\
 \hline
 64 \\
 (\quad)
 \end{array}$$

$$\begin{array}{r}
 75 \\
 - 9 \\
 \hline
 64 \\
 (\quad)
 \end{array}$$



$$\begin{array}{r}
 94 \\
 - 3 \\
 \hline
 64 \\
 (\quad)
 \end{array}$$

$$\begin{array}{r}
 72 \\
 - 6 \\
 \hline
 64 \\
 (\quad)
 \end{array}$$



阅览室(2)

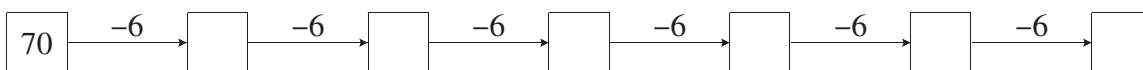
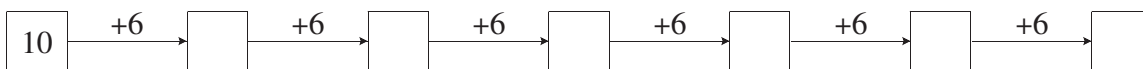
1. 森林医生。



2. 直接写得数。

$32-8=$	$73-5=$	$40-2=$	$54-5=$	$63-6=$
$47-8=$	$35-7=$	$90-9=$	$48-9=$	$71-8=$
$84-8=$	$70-3=$	$92-4=$	$36-8=$	$57-9=$

3. 连续加减6。



4. 小猴摘桃子。(连一连)



5.

我吃了35只害虫。



小青

我吃了8只害虫。



小绿

我吃了9只害虫。



小瓜

(1) 小青比小绿多吃多少只害虫?

$\square \bigcirc \square = \square$ ()

答: 小青比小绿多吃_____只害虫。

(2) 小瓜比小青少吃多少只害虫?

$\square \bigcirc \square = \square$ ()

答: 小瓜比小青少吃_____只害虫。



跳绳(1)

1. 先用小棒摆一摆,再算一算。

$55-18=$

$72-29=$

$70-49=$

$64-52=$

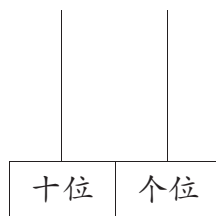
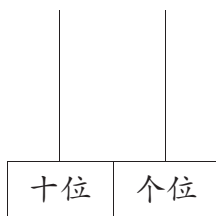
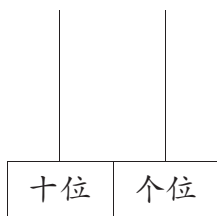
$81-18=$

2. 算一算,在计数器上画珠子。

$42-19=$

$43-25=$

$60-38=$



3. 用竖式计算。

$73-37=$

$54-26=$

$90-58=$

$63-25=$

$100-26=$

4. 判断。(对的画“√”,错的画“×”,并改正)

$50-26=34$

$$\begin{array}{r} 50 \\ - 26 \\ \hline 34 \end{array}$$

()

$100-64=44$

$$\begin{array}{r} 100 \\ - 64 \\ \hline 44 \end{array}$$

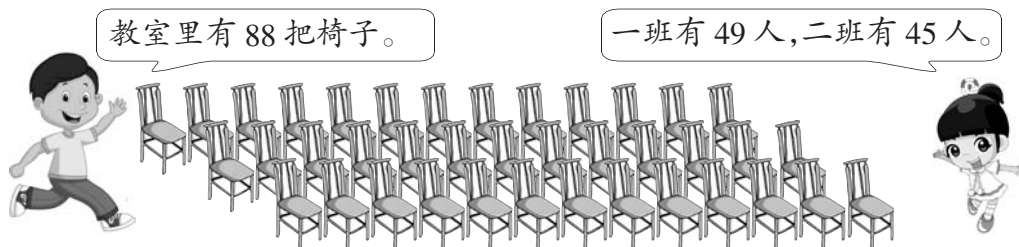
()

$92-19=73$

$$\begin{array}{r} 92 \\ - 19 \\ \hline 73 \end{array}$$

()

5. 解决问题。



(1)一共来了多少人?

$\square \bigcirc \square = \square \quad (\quad)$

答:一共来了_____人。

(2)还差多少把椅子?

$\square \bigcirc \square = \square \quad (\quad)$

答:还差_____把椅子。



跳绳(2)

1. 用竖式计算。

$$\begin{array}{r} 81 \\ - 77 \\ \hline \end{array}$$

()

$$\begin{array}{r} 94 \\ - 49 \\ \hline \end{array}$$

()

$$\begin{array}{r} 72 \\ - 56 \\ \hline \end{array}$$

()

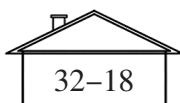
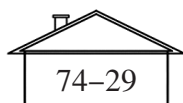
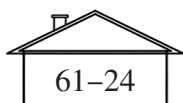
$$\begin{array}{r} 53 \\ - 50 \\ \hline \end{array}$$

()

$$\begin{array}{r} 76 \\ - 18 \\ \hline \end{array}$$

()

2. 连一连。



3. 森林医生。



$$\begin{array}{r} 46 \\ - 29 \\ \hline 23 \end{array}$$

()

改正:

$$\begin{array}{r} 84 \\ - 5 \\ \hline 34 \end{array}$$

()

改正:

4. 解决问题。

(1) 一双 的价格比一双 多多少元?

48元

$$\square \bigcirc \square = \square \text{ ()}$$

答: 一双 的价格比一双 多 _____ 元。

(2) 买一双 , 付了 100 元, 应找回多少元?

56元

$$\square \bigcirc \square = \square \text{ ()}$$

答: 应找回 _____ 元。

5. 桃子和苹果共56个, _____, 苹果有多少个? (先补充条件再解答)

$$\square \bigcirc \square = \square \text{ ()}$$

答: 苹果有 _____ 个。



练习五(1)

1. 直接写得数。

$32-8=$

$81-4=$

$63-12=$

$56-17=$

$40-19=$

$83-50=$

$80-21=$

$26-13=$

$46-9=$

$77-60=$

$69-22=$

$24-5=$

$45-23=$

$67-8=$

$89-23=$

2. 用竖式计算。

$41-28=$


$100-86=$

$63-9=$

$80-57=$



$82-5=$

3. 森林医生。




$43-27=26$
 $\begin{array}{r} 43 \\ -27 \\ \hline 26 \end{array}$

()






$48+32=70$
 $\begin{array}{r} 48 \\ +32 \\ \hline 70 \end{array}$


()





4. 找朋友。


 $35+27$


 $46-8$


 $32-3$


 $60-23$


 $8+39$


 37



 47


 38


 29


 62

5. 猜一猜我是谁。



我是()。



我是()。



我是()。



我是()。



练习五(2)

1. 在○里填上“>”“<”或“=”。

$26+14 \bigcirc 26+41$

$60-25 \bigcirc 60-52$




$8+43 \bigcirc 43+8$

$68-19 \bigcirc 68+19$

$73+6 \bigcirc 72+6$

$100-26 \bigcirc 100-62$

2. 得数排排队。



() < () < () < () < ()

3. 车上还有多少人?



$\square \bigcirc \square = \square \text{ ()}$

答:车上还有_____人。

车上有31人,到站后有5人下车。

4. (1)上衣比裙子贵多少元?

$\square \bigcirc \square = \square \text{ ()}$

答:上衣比裙子贵_____元。



19元



46元



27元

(2)裙子比短裤便宜多少元?

$\square \bigcirc \square = \square \text{ ()}$

答:裙子比短裤便宜_____元。

(3)妈妈拿50元买一条裙子,找回多少元?

$\square \bigcirc \square = \square \text{ ()}$

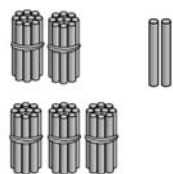
答:找回_____元。



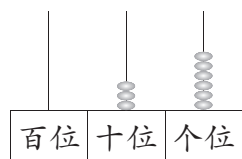
期末检测

1. 填一填。(每空1分,共26分)

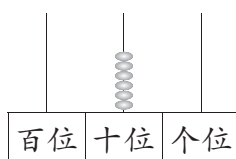
(1)看图写数。



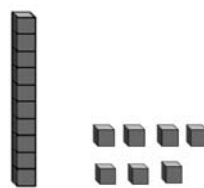
()



()



()



()

(2)

	39			42	43
--	----	--	--	----	----

	85	80			65
--	----	----	--	--	----

(3)100里面有()个十,100里面有()个一,67里面有()十和()个一。

(4)一个两位数个位上是9,十位上是7,这个两位数是(),和它相邻的两个数是()和()。

(5)比71少1的数是(),比71多1的数是()。

(6)用

3	6	9
---	---	---

 任选两张摆两位数最大是(),最小是()。

(7)笑笑1分钟可能拍了多少下?(在下面的表格里画“√”)

淘气1分钟拍了78下,笑笑1分钟拍得比淘气少一些。

70下	80下	50下

(8)被减数是73,减数是25,差是()。

(9)5角钱的硬币是()形,红领巾是()形。

(10) 小女孩看到的数字是()。

2. 判断题。(对的在括号里画“√”,错的画“×”)(每题1分,共5分)

(1)七巧板是由7种不同的图形组成的。 ()

(2)五十八写作508。 ()



(3) $100-27=83$ ()

(4) 个位上的5和十位上的5表示的意义是一样的。 ()

(5) 计算减法时, 个位不够减就向十位借1当作十来减。 ()

3. 选择题。(把正确答案的序号填在括号里)(每题2分, 共10分)

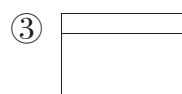
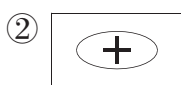


(1) 跳绳比赛中, 小丽跳了61下, 小欢和小丽跳得差不多, 小欢可能跳了()下。

①35

②59

③75

(2) 右图中小猴看到的是()。



(3) 和90接近的数是()。

① 89

②94

③99

(4) 得数比50小的是()。

① $42+8$

② $34+30$

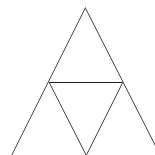
③ $52-3$

(5) 右边的图形中一共有()个 \triangle 。

①4

②5

③6



4. 算一算。(共25分)

(1) 直接写得数。(每题1分, 共15分)

$8+6=$

$12+5=$

$15+7=$

$18-6=$

$17-9=$

$30-20=$

$98-70=$

$90+10=$

$20+30=$

$45+20=$

$51+8=$

$85-4=$

$39+7=$

$76-8=$

$100-60=$

(2) 用竖式计算。(每题2分, 共10分)

$65+9=$

$37+23=$

$72-37=$


$100-18=$

$46+54=$








5. 数一数,连一连。(共14分)

(1)他们分别拍到的是哪一面? 连一连。(连对一条线2分,共6分)



(2)数一数,填一填。(每空2分,共8分)

			
()个	()个	()个	()个




6. 解决问题。(每题4分,共20分)

(1)一共有多少棵?



桃树 45 棵。



苹果树 37 棵。

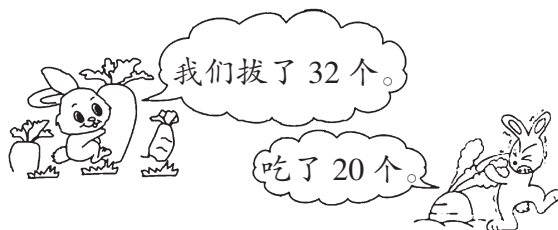
$$\square \bigcirc \square = \square \text{ (棵)}$$

答:一共有_____棵。

(2)还剩下多少个?

$$\square \bigcirc \square = \square \text{ (个)}$$

答:还剩下_____个。



(3)月月跳了多少下?



$$\square \bigcirc \square = \square \text{ (下)}$$

答:月月跳了_____下。

(4)



28 元



46 元



36 元

①  比  少多少元?

$$\square \bigcirc \square = \square \text{ (元)}$$

答:  比  少_____元。

②小明买一辆玩具汽车,付了50元,找回多少元?

$$\square \bigcirc \square = \square \text{ (元)}$$

答:找回_____元。



单元能力训练(一)

题号	1	2	3	4	5	6	7	总分
得分								

1. 算一算。(每题1分,共12分)

$13-7=$

$14-9=$

$11-5=$

$13-6=$

$12-8=$

$5+8=$

$17-9=$

$15-7=$

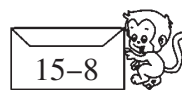


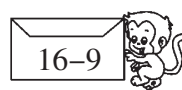



$11-3=$

$16-8=$

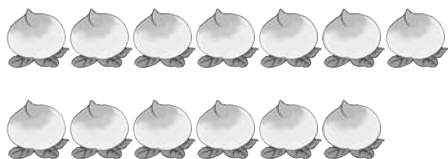
$12-5=$

$17-8=$

2. 小猴送信。(连一连)(每题1分,共8分)



3. 圈一圈,算一算。(8分)



$13-5=$



$11-3=$



$14-8=$



$12-4=$



4. 画一画,算一算。(4分)

$17-8=$

0	1	2	3	4	5	6	7	8	9	10	11	12	13	14	15	16	17	18	19	20
---	---	---	---	---	---	---	---	---	---	----	----	----	----	----	----	----	----	----	----	----

$12-7=$

0	1	2	3	4	5	6	7	8	9	10	11	12	13	14	15	16	17	18	19	20
---	---	---	---	---	---	---	---	---	---	----	----	----	----	----	----	----	----	----	----	----

5. 我会填。(共24分)

(1) 在○里填上“+”或“-”。(6分)

$14 \bigcirc 9=5$

$8 \bigcirc 7=15$

$13 \bigcirc 6=7$

$11 \bigcirc 2=9$

$7 \bigcirc 5=12$

$5 \bigcirc 9=14$

(2) □里应填几?(6分)

$4+ \square =12$

$13- \square =5$

$7+ \square =12$

$15- \square =8$

$6+ \square =12$

$11- \square =5$

(3) 在○里填上“>”“<”或“=”。(6分)

$14-7 \bigcirc 7$

$15-9 \bigcirc 5$

$11-3 \bigcirc 7$

$16-9 \bigcirc 5$

$17-8 \bigcirc 9$

$12-4 \bigcirc 8$

(4) 写出下面的算式。(6分)

$14-7=$

{	<input type="text"/>	-	<input type="text"/>
	<input type="text"/>	-	<input type="text"/>
	<input type="text"/>	-	<input type="text"/>

$11-2=$

{	<input type="text"/>	-	<input type="text"/>
	<input type="text"/>	-	<input type="text"/>
	<input type="text"/>	-	<input type="text"/>

6. 看图列式计算。(16分)



$\square \bigcirc \square = \square$ (只)


(2) ? 棵



一共有 11 棵白菜。

$$\square \bigcirc \square = \square \text{ (棵)}$$


(3)



一共有 12 只。

$$\square \bigcirc \square = \square \text{ (只)}$$

(4)




一共有 15 颗。

$$\square \bigcirc \square = \square \text{ (颗)}$$

7. 解决问题。(共28分)

(1)



$$\square \bigcirc \square = \square \text{ (个)}$$

答: 还剩 _____ 个。



(2)有15根木头。



小象运走了多少根木头?

$$\square \bigcirc \square = \square \text{ (根)}$$

答:小象运走了_____根木头。

(3)



①小方比小红多看了几本书?

$$\square \bigcirc \square = \square \text{ (本)}$$

答:小方比小红多看了_____本书。

②小明比小方少看了几本书?

$$\square \bigcirc \square = \square \text{ (本)}$$


答:小明比小方少看了_____本书。




单元能力训练(二)

题号	1	2	3	4	总分
得分					


1. 我会填。(每空3分,共27分)

(1)  从前面看,有()个点,从侧面看有()个点。

(2)  从()面看有3个点,从()面看有1个点。

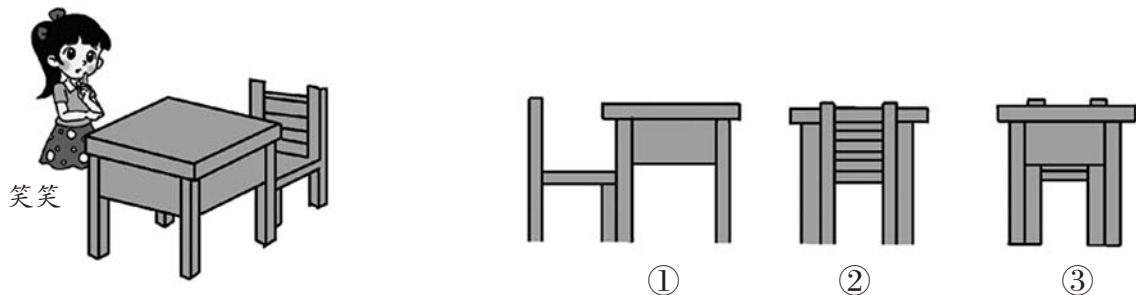
(3)  女孩看到的是图(),男孩看到的是图()。

(4)小亮、小军和小丽分别站在轿车的右面、后面和前面观察。这三幅图是谁看到的,写在括号里。



2. 选一选。(把正确答案的序号填在括号里)(共18分)

(1)笑笑看到的是图()。



(2)下面图()是从山脚下看到的。



①



②

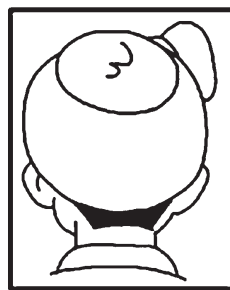


③

(3)下面图()是从后面拍的。

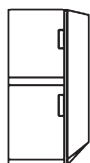


①




②


(4)从侧面看到的是()。



①



②



③



(5)下面图中从背面看到的是()。

①




②



③



(6)  这是妮妮从()看到的大卡车。


①正面

②侧面

③后面

3. 下面的图分别是谁看到的? 连一连。(共28分)


(1)



(2)



小鸟 小松鼠 小狗



(3)



(4)



小丽



小文

小明




4. 下面各图分别是谁看到的, 请把他们的名字填在括号里。(共27分)

(1)



() () ()

(2)



() () ()

(3)



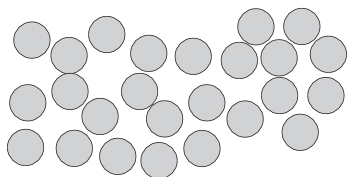
() () ()



单元能力训练(三)

题号	1	2	3	4	5	6	7	总分
得分								

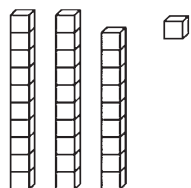
1. 圈一圈,数一数,填一填。(共7分)



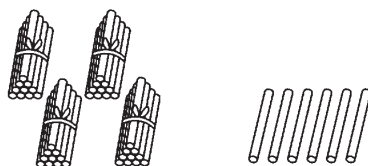
()个



()瓶



29添上1是(),它里面
有()个十。



()个十和()
个一是()。

2. 我会填。(每空1分,共22分)

- (1) 50里面有()个十,3个十是()。
- (2) 43里面有()个十和()个一。
- (3) 3个十和2个一合起来是(),7个一和2个十合起来是()。
- (4) 35的个位是(),表示()个(),十位是(),表示()个()。
- (5) 个位和十位的数都是7,这个数是()。
- (6) 个位上是4,十位上是8,这个数是()。
- (7) 与40相邻的两个数分别是()和()。

(8)

42				38
----	--	--	--	----

20				28
----	--	--	--	----


3. 判断。(对的在括号里画“√”,错误的画“×”)(每题2分,共10分)

- (1) 69和71中间的数是68。 ()
- (2) 25和52中,“5”表示的意义相同。 ()
- (3) 4个十和6个一组成的数是46。 ()
- (4) 10个十与10个一同样多。 ()
- (5) 46后面的一个数是45,前面的一个数是47。 ()




4. 连一连。(每题6分,共12分)

(1)



(2)



5. 比较大小。(共20分)

(1) 在○里填上“>”“<”或“=”,在□里填上合适的数。(8分)

63 ○ 29

61 ○ 64

55 ○ 49

5个十 ○ 8个一

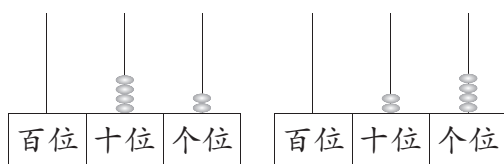
66 < □

□ > 90

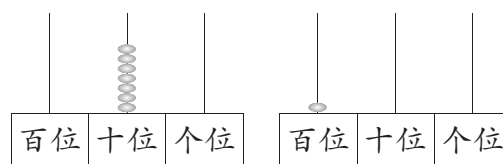
□ < 87

56 > □

(2) 写出下面的数并比较大小。(6分)



() ○ ()



() ○ ()

(3) 把下面的数字卡片按从大到小的顺序排列。(6分)




() > () > () > () > () > ()



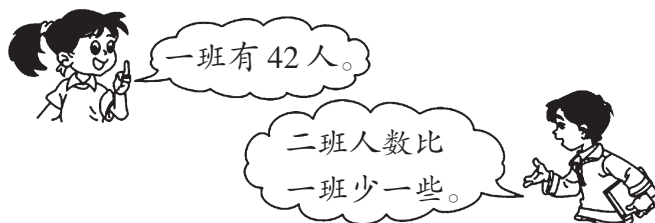
6. 在合适的答案下面画“√”。(每题2分,共10分)

(1)



30本	15本	50本

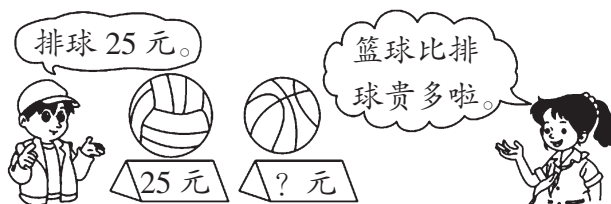
(2)



二班可能有多少人?

16人	50人	40人

(3)



篮球的标价可能是多少元钱?

25元	30元	58元

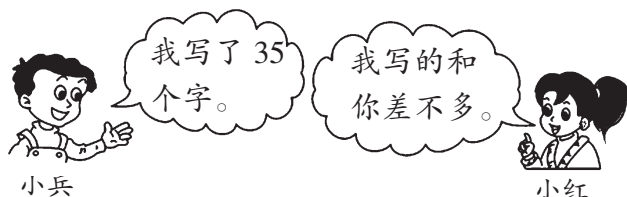
(4)



小芳的妈妈今年可能多少岁?

32岁	36岁	55岁

(5)



小红可能写了多少个字?

32个	22个	87个



7. 按要求完成下面各题。(共19分)

1	2	3	4	5	6	7	8	9	10
11	12	13	14	15	16	17	18	19	20
21	22	23	24	25	26	27	28	29	30
31	32	33	34	35	36	37	38	39	40
41	42	43	44	45	46	47	48	49	50
51	52	53	54	55	56	57	58	59	60
61	62	63	64	65	66	67	68	69	70
71	72	73	74	75	76	77	78	79	80
81	82	83	84	85	86	87	88	89	90
91	92	93	94	95	96	97	98	99	100

(1) 把个位上是8的数涂上颜色。(4分)

(2) 把十位上是6的数圈起来。(4分)

(3) 根据上表填数。(11分)

	40

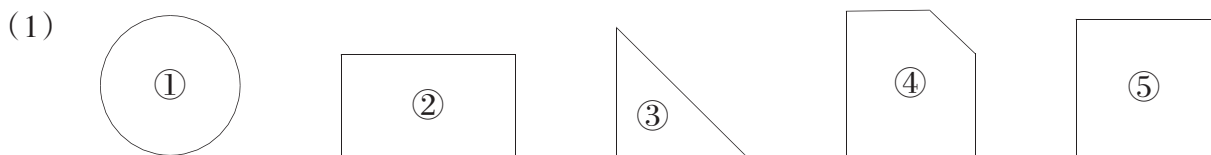
	76	



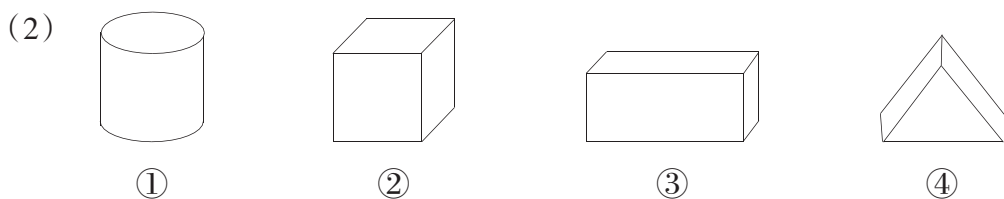
单元能力训练(四)

题号	1	2	3	4	5	6	7	总分
得分								

1. 填一填。(每空1分,共24分)



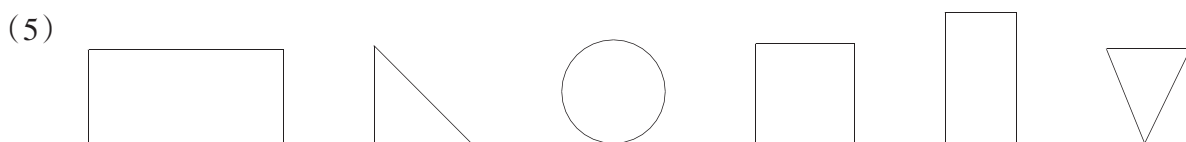
上面图()是长方形,图()是正方形,图()是三角形,图()是圆。



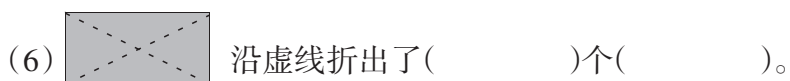
用上面的物体()可以画长方形,用物体()可以画正方形,用物体()可以画三角形,用物体()可以画圆。

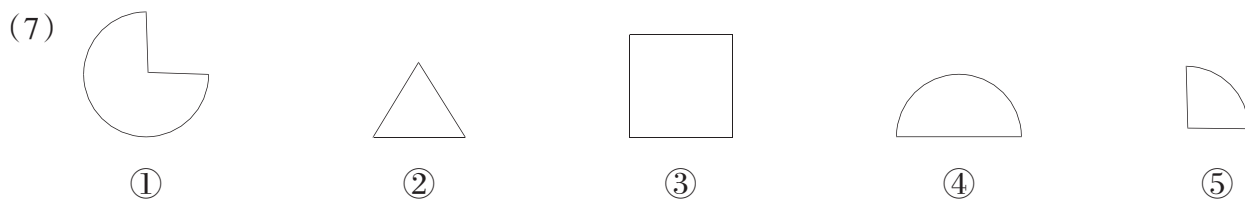
(3)最少用()根相同的小棒能摆成一个长方形,最少用()根相同的小棒能摆成一个正方形,最少用()根相同的小棒能摆成一个三角形。

(4)两个同样的正方形可以拼成一个()。



在上面的图形中,从左数第()个和第()个是长方形,从右数第()个是正方形。

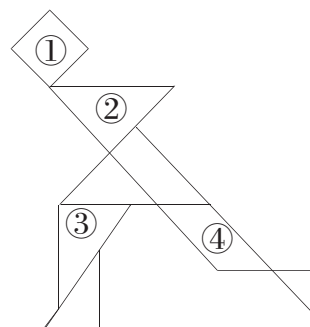
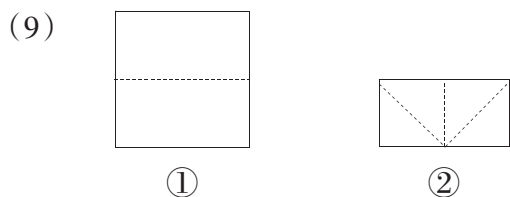




图中()和()能拼成圆。







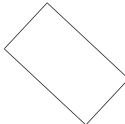
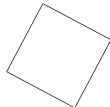

(8)右图中图①是()形,图②是()形。

图中一共有()个三角形。



图①沿虚线剪开得到2个()形,图②沿虚线剪开得到4个()形。

2. 送图形回家。(填序号)(每个1分,共10分)

			长方形	正方形
①	②	③		
				
④	⑤	⑥		
			三角形	圆
⑧	⑨	⑩		

3. 选一选,把正确答案的序号填在括号里。(每题2分,共10分)

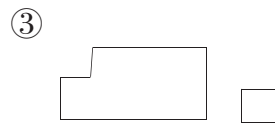
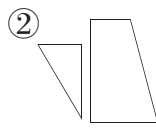
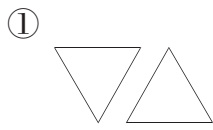
(1)用两个□能拼成一个()。

- ①正方形 ②长方形 ③三角形

(2)不是用2个相同的三角形拼成的图形是()。

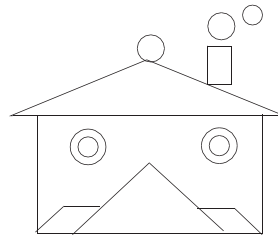


(3)下面图形中,第()组能拼成一个长方形。




(4)右图中没有()。

- ①长方形
- ②正方形
- ③三角形

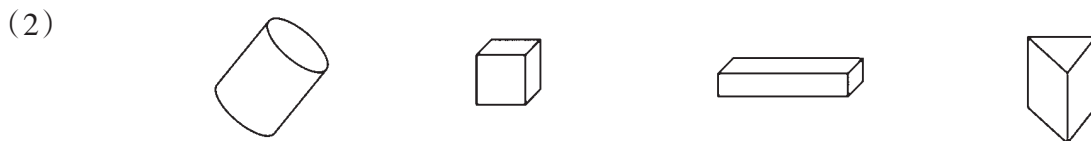
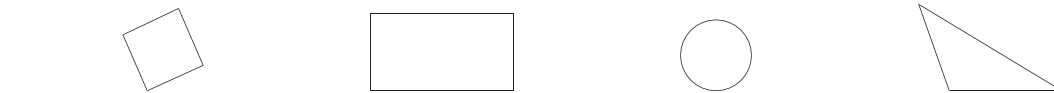


(5)右图中有()个圆。

- ①5
- ②10
- ③12




4. 连一连。(共12分)

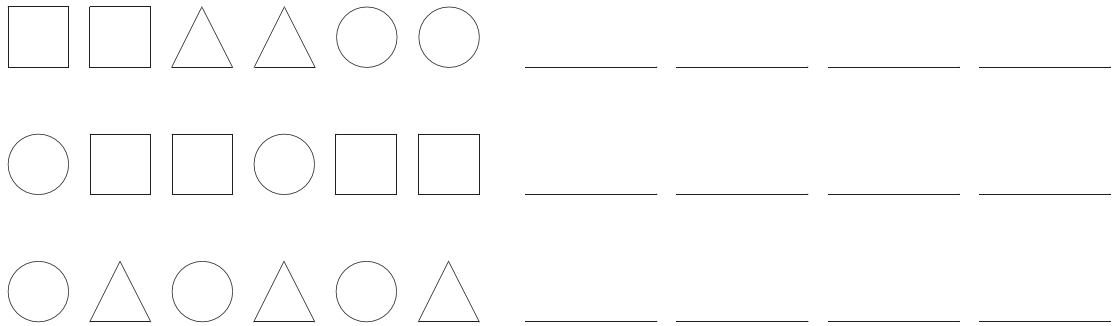


5. 画一画。(共22分)

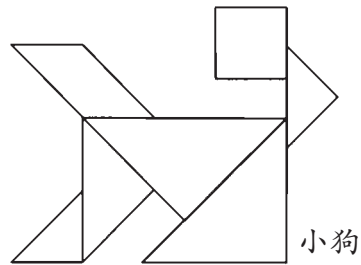
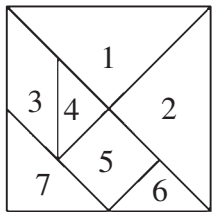
(1)把下面的长方形分别用不同的方法分成相同的两部分。(6分)



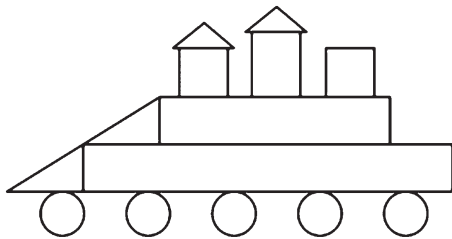
(2)想一想,接着画下去。(16分)



6. 左边是七巧板,右边是用七巧板拼成的小狗图案,请你给图案中每一块标上它在图中相应的序号。(7分)



7. 数一数,填一填。(15分)



这幅图像(),一共有()个正方形,有()个长方形,有()个三角形,有()个圆。

单元能力训练(五)

题号	1	2	3	4	5	6	7	8	总分
得分									

1. 直接写得数。(共16分)

27-4=	5+53=	6+22=	72-40=
54+3=	62-2=	87-40=	55+30=
44+20=	51+7=	4+53=	30+37=
74-50=	68-34=	2+65=	54-13=

2. 我会填。(共15分)

- (1) 一个加数是32,另一个加数是15,和是()。
- (2) 被减数是57,减数是5,差是()。
- (3) 8个一加上5个十是(),64减去2个十是()。
- (4) 40+22=62中,62叫做(),87-80=7中,7叫做()。
- (5) 最大的两位数与最小的两位数的差是()。
- (6) 比68少13的数是(),比45多30的数是()。
- (7) 在○里填上“>”“<”或“=”。

$24+43 \bigcirc 68$

$65-12 \bigcirc 56-12$


$90-30 \bigcirc 40+20$

$65+32 \bigcirc 35$

$47-20 \bigcirc 29-2$

$55-3 \bigcirc 55-23$

3. 连一连。(8分)



4. 用竖式计算。(每题2分,共16分)

$34+23=$

$56-43=$

$7+21=$

$43+25=$




$59-6=$

$3+56=$


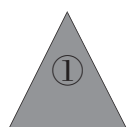
$75-32=$

$26+52=$

5. 森林医生。(每题3分,共9分)



6. 按要求分一分。(6分)



--	--

有阴影 没阴影

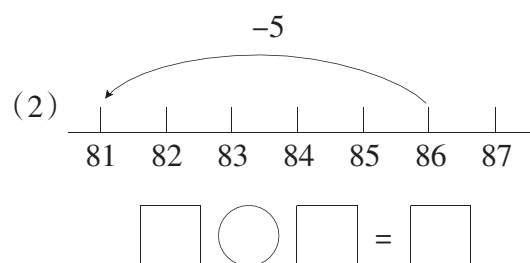
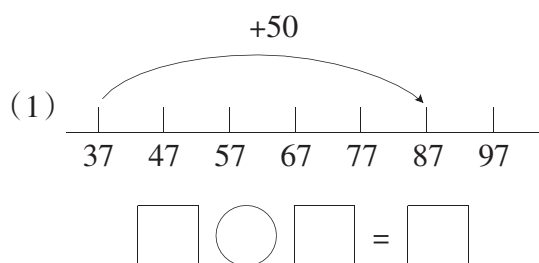
--	--

大图形 小图形


--	--	--

正方形 圆形 三角形

7. 看图列式计算。(共8分)

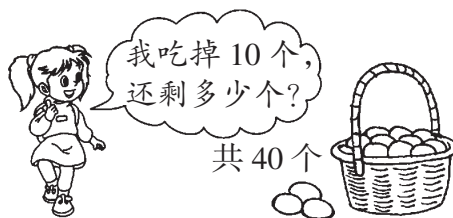


(3)一共有87个。



$$\square \bigcirc \square = \square \text{ (个)}$$

(4)



$$\square \bigcirc \square = \square \text{ (个)}$$

8. 解决问题。(共22分)

(1)车上还有多少个空座位?(4分)


$$\square \bigcirc \square = \square \text{ (个)}$$



答:车上还有_____个空座位。

(2)还剩下多少个?(4分)

$$\square \bigcirc \square = \square \text{ (个)}$$



答:还剩下_____个。

(3)两人一共剪了多少朵?(4分)


$$\square \bigcirc \square = \square \text{ (朵)}$$



答:两人一共剪了_____朵。



(4) 小熊摘了多少个? (4分)



$$\square \bigcirc \square = \square \text{ (个)}$$

答: 小熊摘了 _____ 个。

(5) 小林有 100 元钱, 要买一辆玩具车和一个书包, 可以怎么买? 应付多少元? 请你想出一种买法。(6分)



36 元



46 元



53 元



52 元



42 元



单元能力训练(六)

题号	1	2	3	4	5	6	7	8	总分
得分									

1. 直接写得数。(每题1分,共16分)

56+7=	24+4=	33+8=	49-4=
57-50=	44-30=	35-6=	87-70=
15+9=	36+40=	51-20=	45-30=
77-50=	38+9=	7+37=	44-8=

2. 我会填。(每空1分,共10分)

- (1)被减数是73,减数是25,差是()。
- (2)65比26多(),比65多26的数是()。
- (3)笔算两位数减法,如果个位不够减,从()退1,在个位上加()再减。
- (4)小强看一本85页的书,已经看了19页,接下来应从第()页看起。
- (5)一年级(3)班的同学站成一列纵队跳山羊,小明前面有6人,后面有17人,一年级(3)班一共有()名同学。
- (6)最小的三位数是(),最大的一位数是(),它们的差是()。

3. 圈出正确的答案。(共6分)

- (1) $61-7=$ (68 54 64)
- (2) $44-3=$ (47 31 41)
- (3) $55-8=$ (57 53 47)
- (4) $87+4=$ (76 84 91)
- (5) $76+9=$ (85 46 79)
- (6) $82+8=$ (80 90 84)



4. 列竖式计算。(每题2分,共16分)

$5+29=$

$64-7=$

$53+37=$

$42-19=$

$100-33=$

$39+23=$

$46+54=$

$100-18=$

5. 看谁得第一。(共12分)

Row 1: A penguin character next to a car with number 48. Arrows with +8 connect the cars in the row.

Row 2: A mouse character next to a car with number 80. Arrows with -9 connect the cars in the row.

Row 3: A bear character next to a car with number 82. Arrows with -40 and +6 connect the cars in the row.

Row 4: A squirrel character next to a car with number 44. Arrows with -9, +6, and -5 connect the cars in the row.

6. 森林医生。(8分)

$$\begin{array}{r} 47 \\ + 39 \\ \hline 76 \\ (\quad) \end{array}$$

$$\begin{array}{r} 42 \\ - 9 \\ \hline 43 \\ (\quad) \end{array}$$


$$\begin{array}{r} 26 \\ + 37 \\ \hline 53 \\ (\quad) \end{array}$$

$$\begin{array}{r} 70 \\ - 35 \\ \hline 35 \\ (\quad) \end{array}$$


7. 看图列式计算。(8分)

(1) 还缺多少把椅子?

$$\square \bigcirc \square = \square \text{ (把)}$$



(2) 一共有多少个?



$$\square \bigcirc \square = \square \text{ (个)}$$

8. 解决问题。(共24分)

(1) 花园里有17只蝴蝶和35只蜻蜓。

① 蜻蜓和蝴蝶一共有多少只? (3分)

$$\square \bigcirc \square = \square \text{ (只)}$$

答: 蜻蜓和蝴蝶一共有_____只。

② 蝴蝶比蜻蜓少多少只? (3分)

$$\square \bigcirc \square = \square \text{ (只)}$$

答: 蝴蝶比蜻蜓少_____只。

(2) 26个男生, 18个女生, 能坐下吗? (4分)



准乘 41 人



(3)



①肖明打了多少个字？(4分)

$$\square \bigcirc \square = \square \text{ (个)}$$

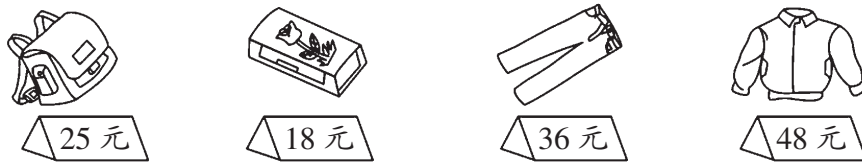
答：肖明打了_____个字。

②孙浩打了多少个字？(4分)

$$\square \bigcirc \square = \square \text{ (个)}$$

答：孙浩打了_____个字。

(4)



①小红有80元钱，可以买哪三样东西？把这三样东西圈起来。(3分)

②小亮买了一个文具盒，售货员找回22元，他给售货员多少元？(3分)

$$\square \bigcirc \square = \square \text{ (元)}$$

答：他给售货员_____元。



防毒禁毒宣传语

- ★ 珍爱生命 拒绝毒品
- ★ 防毒反毒 人人有责
- ★ 禁绝毒品 功在当代 利在千秋
- ★ 远离毒品 亲近美好人生
- ★ 抵制毒品侵害 珍惜美好年华
- ★ 拒绝毒品 健康娱乐
- ★ 认识毒品危害 提高抵御能力
- ★ 贩毒就是谋财害命 吸毒就是自杀身亡
- ★ 无毒邻里称颂 有毒家破人亡
- ★ 毒品尝一口 阎王在招手
- ★ 珍爱生命 远离毒品 争做文明青少年
- ★ 莫沾毒品 莫交毒友
- ★ 敲开毒品的门 挖好自己的坟
- ★ 一次吸毒终生悔 莫拿生命赌明天
- ★ 远离白色粉末 拥抱七彩生活



语文 一年级
语文 二年级
语文 三年级
语文 四年级
语文 五年级
语文 六年级



人教版

数学 一年级
数学 二年级
数学 三年级
数学 四年级
数学 五年级
数学 六年级

英语 三年级
英语 四年级
英语 五年级
英语 六年级

外研版

英语 三年级
英语 四年级
英语 五年级
英语 六年级

北师大版

数学 一年级
数学 二年级
数学 三年级
数学 四年级
数学 五年级
数学 六年级

苏教版

数学 一年级
数学 二年级
数学 三年级
数学 四年级
数学 五年级
数学 六年级

责任编辑：孙莹
封面设计：杭永鸿



定价：6.83元