

宁夏回族自治区教育厅
中小学教材审查委员会审定

新编

学习 之友

《学习之友》编写组 编

xuexi
zhiyou



道德与法治 九年级（全一册）

 黄河出版传媒集团
宁夏人民教育出版社

科学保护自己 远离“新冠”病毒

掌背指侧尖腕臂，七步洗手十五秒。
加强锻炼多休息，喷嚏咳嗽遮口鼻。
肉蛋食物十分熟，细吃慢咽才舒心。
清洁通风要做好，消毒安全需注意。
出门记得戴口罩，一点五米最礼貌。
避免人群拥挤处，安心宅家人人好。

保持良好心态 防控“新冠”病毒

保持健康生活方式，做好个人清洁卫生。
坦然面对情绪变化，理解接纳负面情绪。
科学看待疫情防控，学习情绪调整方法。
开展室内锻炼活动，保持良好身体状态。
密切亲友互动交流，做到隔离但不隔心。
培养新兴趣新爱好，生活变得丰富多彩。
控制电子产品使用，分配时间合理有度。
常与父母沟通交流，力所能及做好家务。
听从学校老师安排，适应居家学习环境。
学习典型人物事迹，给心理增加正能量。



宁夏回族自治区教育厅
中小学教材审查委员会审定

学习 之友


新编

《学习之友》编写组 编

xuexi
zhiyou



道德与法治 九年级（全一册）

 黄河出版传媒集团
宁夏人民教育出版社

《学习之友》编写委员会

主 编 岳维鹏
副 主 编 黄建忠 马 兰 姜俐冰 杨占军 白忠明 慕 英 王俊生 葛建华(执行)
编 委 岳维鹏 黄建忠 马 兰 姜俐冰 杨占军 白忠明 慕 英 王俊生 葛建华
安 奇 吕晓雅 杨威虎 马桂萍 武 琪 马学梅 王俊昌 金 慧 姚利萍
孙雁秋 马 卉 武卫民 王 春 张春燕 仇千记 曹天祥 张世虎

本 册 主 编 武 琪
本 册 编 写 者 蒋福军 姜 葳 荆 红 张迎霞 杨丽莎 武 琪

图书在版编目(CIP)数据

学习之友. 九年级道德与法治: 全一册 / 《学习之友》编写组编. -- 银川: 宁夏人民教育出版社, 2020.1

ISBN 978-7-5544-3753-7

I. ①学… II. ①学… III. ①政治课—初中—习题
IV. ①G634

中国版本图书馆CIP数据核字(2019)第295467号

学习之友 九年级道德与法治(全一册)

《学习之友》编写组 编

责任编辑 吴 阳
责任校对 孙 莹
封面设计 杭永鸿
责任印制 殷 戈



黄河出版传媒集团 出版发行
宁夏人民教育出版社

地 址 宁夏银川市北京东路139号出版大厦(750001)
网 址 <http://www.yrpubm.com>
网上书店 <http://www.hh-book.com>
电子信箱 jiaoyushe@yrpubm.com
邮购电话 0951-6024704
经 销 宁夏教育书刊发行有限公司
印刷装订 天水新华印刷厂
印刷委托书号 (宁)0016155

开本 880 mm×1230 mm 1/16
印张 7 字数 150千字
印数 95619册(2020年春季)
版次 2020年1月第1版
印次 2020年1月第1次印刷
书号 ISBN 978-7-5544-3753-7
定价 8.75元

版权所有 侵权必究

如发现印、装质量问题,影响阅读,请拨打投诉电话:0951-5014284

致同学

亲爱的同学们：

随着新学期的到来,这本《学习之友》与你相约而至。在接下来的学习生活中,希望你能将她作为自己忠实的朋友,伴你经历学习的每一段进程和每一次挑战,助你掌握知识,提高能力,体验学习中的成功与喜悦。

本册《学习之友》按照习近平总书记在给北京1711名师生回信中的重要讲话精神、中共中央办公厅 国务院办公厅印发《关于深化新时代学校思想政治理论课改革创新的若干意见》、中共中央 国务院《关于深化教育教学改革全面提高义务教育质量的意见》和中考目标要求,组织教学一线骨干教师重新编写而成。其显著特点:突出教育新理念,紧扣教材新课标,把握中考新动向,体现教研新成果,坚持科学、权威、新颖、使用的原则,同时结合了九年级学生的学习心理特征和学业发展目标,精选教材内容,精心设计习题,由浅入深、循序渐进,既注重基础知识的有效训练,又关注知识的迁移与联系;既注重学科知识与学生生活和社会生活的有机联系,更关注学生创新能力的培养。努力激发学生的创新热情与科学态度,培养学生分析和解决问题及开展实践活动的新思维、新方法、新能力。坚持对学生的思想性引导,彰显人文性,注重实践性,体现综合性,实现知、情、意、行的统一,使学生的创新意识、创新能力得到发展。

新编九年级《学习之友》的内容分为“心理道德”“法治教育”“认识国情 爱我中华”和“综合测试”四个板块。所编试题具有针对性、综合性、灵活性和开放性,使用时要从自身实际出发,根据课堂练习和自学的不同特点,合理安排练习的内容和总量,既可以根据学习进程,按序列逐一完成训练,也可以根据自己的学习状况,有针对性、有重点地选择训练。以满足不同的复习需要,使不同水平的同学们都能学有所获。

和《学习之友》做朋友吧,她是衔接课堂内外的桥梁,载你从教材出发,走向更广阔的天地;她是学习中的良师益友,助你挑战现在,拾级而上,笑对未来;她是打开知识宝库的一把钥匙,伴你学海拾贝,走向成功。

编者

目录

Contents

第一部分 心理道德	01
第二部分 法治教育	06
第一单元 坚持宪法至上	06
第二单元 理解权利义务	16
第三单元 人民当家作主	27
第四单元 崇尚法治精神	37
第三部分 认识国情 爱我中华	48
第四部分 综合测试	78
综合测试题(一)	78
综合测试题(二)	82
综合测试题(三)	86
综合测试题(四)	90
宁夏回族自治区 2018 年初中毕业暨高中阶段招生	
思想品德试题、评分标准及参考答案	94
宁夏回族自治区 2019 年初中毕业暨高中阶段招生考试	
道德与法治试题、评分标准及参考答案	101

第一部分 心理道德

基础训练

快乐四选一

1. “我上中学时,物质条件较为艰苦,但很多社会实践活动和劳动让我的精神充实。读初一时,我代表学校参加全县爱国主义知识竞赛,获得一等奖,作文大赛也获得第一名,这让我有了成长进步的动力。”小明爸爸的这段话告诉我们()。
A. 中学时代,是人生发展的新阶段,是最美好的年华
B. 中学时代,是人生发展的十字路口
C. 中学时代离职业选择还很遥远
D. 中学时代中的挑战和磨砺将为一生的发展奠定重要基础
2. 梦想登上世界最高峰珠穆朗玛峰,事先不经过无数的准备,没有一颗坚韧不拔的雄心,没有一份永不放弃的执念,光有一腔热血是不可能实现的。这句话给我们的启示是()。
A. 努力是梦想与现实之间的桥梁
B. 只要拥有梦想就一定能够实现
C. 少年的梦想天真无邪不切实际
D. 少年的梦想与中国梦密不可分
3. 记者采访一自考生:“5年筚路蓝缕,终获毕业证书,有何感想?”自考生回答:“几年的不懈坚持,是一种快乐;几年的学习,知识渐长。当年的苦,忘记了不少。”这让我们想起“从来好事天生俭,自古瓜儿苦后甜”那句话。不吃苦哪能得到快乐?快乐是不会从天上直接落在自己身上的。这让我们感悟到()。
A. 学习是一个过程,每时每刻都能从中感受到快乐
B. 学习中只有辛苦,需要凭借坚强的意志付出努力
C. 先苦后甜收获学习成果时,能体验到学习带来的美妙感受
D. 只要不断地努力,就能取得好的成绩和事业成功
4. 针对某校某班学生学习缺乏动力,没有活力,学习目的不明确,缺乏目标、自制力和奋斗精神而厌学的突出问题,老师召开主题班会,如果请你去劝说厌学的同学,你会对他们说()。
①学习,让我们眼前的世界变得更广阔、更精彩
②学习,让我们体验到不同的生活方式,过得充实
③学习,让我们的思维发展,能力和智慧得到提升
④学习,带来了更多选择,让我们将来能找份更高收入的工作,享受到更奢侈的生活
A. ①②③
B. ①②④
C. ②③④
D. ①③④
5. 有的人可能不辨音律,但有着高超的组织才能;有的人也许不解数字之谜,但心灵手巧,长于工艺;有的人可能不好琴棋书画,但酷爱自然,精于园艺;有的人或许记不住许多外语单词,但有动人的歌喉,擅长文艺……这说明做更好的自己需要()。
A. 接纳自己
B. 欣赏自己
C. 扬长避短
D. 改正缺点




6. 小学时班里有歌唱比赛,要求每个人都参加,可是乐乐十分胆小,不敢说话更不敢唱歌,在老师反复鼓励下,她敢开口了,还唱得非常动听。从此,她对唱歌有了极大的兴趣,不断开发自己,后来走上了艺术的道路。乐乐的故事告诉我们,做更好的自己需要()。
- A. 接纳自己的不足
B. 欣赏他人的独特
C. 为他人和社会带来福祉
D. 树立自信,勇敢展示自己并挖掘潜能
7. 目前,很多中学生都有自己的微信号并喜欢在朋友圈里交流,调查中发现,小学生常在朋友圈里分享最喜欢的动漫故事,初中生常在朋友圈里分享学习心得和美食,高中生喜欢探讨人生,常给予朋友心灵的安慰。对此,下列认识正确的是()。
- A. 随着年龄增长,我们的交往范围和朋友圈缩小了
B. 随着年龄增长,我们与朋友交往的内容更丰富了
C. 随着年龄增长,我们逐渐学会处理交友中遇到的问题
D. 在与朋友的交往中,有欢笑甜蜜,也有泪水苦涩
8. 智能手机、互联网的发展,加速了我们天涯若比邻的心愿。通过微信,可以分享好玩的视频、分享身边的故事、分享精彩的图片。但同时,网络上的很多低俗内容也让人大跌眼镜。这说明()。
- ①互联网无所不能,具有强大的吸引力
②网上交往开辟了人际交往的新通道
③网络世界的交往有很多不确定因素
④网上交往能满足我们一切心理需要
- A. ①②
B. ②④
C. ②③
D. ①③
9. “你跋涉了许多路,总是围绕着大山;吃了很多苦,但给孩子们的都是甜。坚守才有希望,这是你的信念。三十六年,绚烂了两代人的童年,花白了你的麻花辫。”这是《感动中国》对感动人物支月英老师的颁奖词。下列说法错误的是()。
- A. 教师是我们知识的传授者和人格的影响者
B. 教师是我们最真挚的朋友,相互间可以称兄道弟,打成一片
C. 教师是太阳底下最光辉最崇高的职业,要培育尊师重教的良好社会风尚
D. “春蚕到死丝方尽,蜡炬成灰泪始干”是教师职业的最好写照
10. 小宁喜欢诗词,多次得到语文老师的表扬,上语文课时特别认真。却嫌英语老师语速太快而不认真听讲,做小动作,被老师批评了一顿。假如你是小宁,你会()。
- A. 立即站起来大声地辩解,要求老师理解自己
B. 诚恳接受批评并道歉,承诺将认真听老师讲课
C. 不做任何辩解,从此彻底不学英语
D. 要求调换班级,因为英语老师的风格不适合自己
11. “殚竭心力终为子,可怜天下父母心。”这句赞颂父母爱子女的诗词,表明了()。
- ①父母对子女的爱是世界上最真挚的爱
②父母爱子女,就要满足子女的要求
③父母对子女的付出是无微不至、不求回报的
④子女是父母活着的全部希望、全部意义之所在
- A. ①③
B. ①②
C. ②③
D. ③④



12. 母亲是我们人生中的第一位老师,她辛辛苦苦地抚养我们长大,默默地奉献着无私的爱,温暖着我的心,教我们如何做人,学会生活。作为子女,我们应该为母亲做些什么?对下面两幅漫画分析正确的是()。

母亲节



- ①孝敬父母就要尊敬父母,热爱父母,回报父母 ②孝敬父母应该落实在具体行动上
③两幅漫画都是孝敬父母的表现 ④孝敬父母要体贴父母的辛劳,分担父母的忧愁
- A. ①②③ B. ①③④ C. ①②④ D. ①③④
13. 课间的时候,莉莉和兰兰在一起聊起生命的话题。莉莉说:“我太婆抗战时去背伤员,身上的水壶被一颗子弹打穿了,水都流光了。如果当时子弹偏离那么一点儿,打中了我太婆,就没有我外婆了,连我的妈妈都不会有,哪里会有我!”由此可以看出()。
- ①生命是大自然的奇迹 ②个体的生命是在无数的偶然性中产生的
③每个人的生命都来之不易 ④生命是属于我们自己的幸运
- A. ①②③④ B. ①②③ C. ②③④ D. ①③④
14. 近年来,我国各地区许多学校都会不定期举行各种逃生演练、紧急疏散等活动。七年级学生小明对此举不以为然:“又没发生地震、火灾,用得着那样瞎闹腾吗?”下列说法中,最能说服小明的是()。
- A. 人的生命是顽强的,也是脆弱的,关爱生命要从日常生活做起
B. 生命的价值在于对他人、社会做出贡献
C. 无论遭遇多大挫折,永不放弃生的希望
D. 通过逃生演练、紧急疏散等活动实现生命的价值
15. 96岁的北京大学教授许渊冲从事文学翻译长达60余年,译作涵盖中、英、法等语种,被誉为“诗译英法唯一人”。他说自己每天都至少翻译一页纸,常常工作到凌晨三四点,有时也会半夜起来,打着手电筒写下想到的内容,生怕天亮后忘记。这充分说明许渊冲()。
- ①不会合理安排工作与休息,是不珍爱生命的表现
②努力工作,去发现和创造自己生命的意义
③工作中太追求完美,影响效率
④创造出比自己有限的生命更长久的、不平凡的社会价值
- A. ①② B. ②③ C. ②④ D. ①④
16. 小宝和好朋友小辉说:“上中学以后,我就是不太愿意和父母谈心,有心事我宁愿向好朋友倾诉。”小辉说:“我也有同感。”小宝和小辉的这些想法反映了青少年()。
- A. 自我意识迅速发展 B. 性意识开始萌动
C. 感觉特别敏锐 D. 思维特别活跃



17. 《青春修炼手册》这首歌曲在中小学生中传唱极广,就像歌中唱的那样:“青春有太多未知的猜测,成长的烦恼算什么。”面对青春期的烦恼,下列做法正确的是()。
- ①多与父母、朋友沟通,积极寻求帮助 ②通过培养兴趣爱好转移注意力
③封闭自我,任其发展 ④通过自我调节,成为自己的“心理保健医生”
- A. ①②④ B. ②③④ C. ①②③ D. ①③④
18. 下列做法符合“行己有耻”要求的是()。
- A. 小明总是以各种借口为自己不完成作业开脱
B. 小静总是爱对周围的同学指指点点,评头论足
C. 小刚为了不受老师批评,每天早晨到学校补作业
D. 小强总是遵循红灯停绿灯行的规则过马路,从不违反
19. 课间,张宾不小心把李斯的作业本碰掉在地上,李斯认为张宾是故意的。一怒之下,打了张宾一拳,结果造成张宾右眼失明。这警示我们()。
- ①要适时运用情绪调控的方法,帮助他人改善情绪
②当愤怒情绪产生时要提醒自己,避免情绪失控
③要学会调节情绪,使自己成为情绪的主人
④青少年的情绪是无法调控的,尤其是在气头上
- A. ①③④ B. ①②④ C. ①②③ D. ②③④
20. “中国好人榜”和全国道德模范评选活动,通过各种方式展现身边好人、道德模范的感人事迹,歌颂道德模范的崇高精神,传递真善美,传播正能量。这说明()。
- ①在情感体验中,我们可以用自己的热情和行动来影响环境
②在与他人的情感交流中,我们可以传递美好的情感,传递生命的正能量
③我们在生活中不断创造美好的情感体验,使周围的世界多一份美好
④救助他人是每个人必须要做的
- A. ①②④ B. ②③④ C. ①②③ D. ①③④
21. 升入初中后,小华被老师任命为学习委员,在小学时从来没有做过任何班干部的她,在担任班干部后工作干劲十足,赢得了老师和同学们的赞誉。对此认识正确的是()。
- A. 要想不断进步,就要努力当班干部
B. 集体生活可以培养我们负责任的态度和能力
C. 升入初中,小华知道学习了
D. 初中的环境更有利于自己的进步与发展
22. 集体建设需要全体成员的共同努力,也需要每个成员的自觉愿望和自主行动。在集体建设的过程中,下列做法值得称赞的是()。
- A. 为获得文明示范班级的荣誉,陈华把垃圾悄悄倒在隔壁班级的卫生区域
B. 李成作为班级卫生委员,安排好班级卫生工作,并及时检查汇报
C. 小雷是少数民族学生,受到同学嘲笑,于是他拒绝参加班里的篮球比赛
D. 丽丽有不懂的问题想问老师,但自己不敢去,便以同桌的名义给老师写信



23. “放进一滴红颜料,可以染红一杯清水”说明的道理是()。
- A. 集体的荣誉与个人活动无关
B. 有时个人的力量是很强大的
C. 红色放到哪里都会变红
D. 一个人做好事会给集体带来荣誉,而做坏事则会给集体抹黑
24. 正值上班高峰期,路上车多人多,驾驶机动车的市民偶遇过马路的学生,便立刻减速停车礼让。学生安全通行后,面向车头,敬了一个标准的少先队队礼。车主表示,在车里看到这一幕,心里暖烘烘的,十分欣慰。由此可见()。
- ①关爱他人必定会损害自身利益 ②关爱传递着美好情感
③关爱是社会和谐稳定的润滑剂和正能量 ④关爱他人往往能赢得他人的尊重
- A. ①②④ B. ②③④ C. ①②③ D. ①③④
25. 近年来,我国数字化、信息化陆军部队初露锋芒,以国产航母为标志的新型海上作战舰艇密集下水,运-20、歼-20 相继列装空军作战部队。庆祝中华人民共和国成立 70 周年阅兵式上,坦克、战车、火炮、导弹、无人机……受阅装备全部为中国制造,40%为首次亮相。这()。
- ①有助于维护国家主权,安全和发展利益 ②说明我国建成世界一流军队目标已实现
③证明中国特色强军之路迈出坚实步伐 ④能够实现中国梦强军梦凝聚强大力量
- A. ①②④ B. ②③④ C. ①②③ D. ①③④
26. “我和我的祖国,一刻也不能分割,无论我走到哪里,都流出一首赞歌……”为庆祝新中国成立 70 周年,“我和我的祖国”快闪活动在全国各地自发举行,人们放声齐唱《我和我的祖国》,用最真诚的歌声,献礼祖国华诞。开展这一活动()。
- ①激发了无数中华儿女的爱国情 ②体现了对促进世界和平的愿望
③包含了对祖国繁荣昌盛的祝福 ④抒发了人们对美好生活的向往
- A. ①②④ B. ②③④ C. ①②③ D. ①③④
27. 合肥工业大学对 46 名硕士研究生予以退学处理,广州大学对 72 名研究生做出退学处理,西南交通大学拟对不合要求的 2012 级博士研究生和 2014 级硕士研究生进行退学处理。清退的原因无外乎学生未在规定年限完成学业。这提醒我们要()。
- ①正确处理角色与责任的关系
②把学习作为一种生活方式,养成主动学习,不断探索的习惯
③调整心态,正确面对学习压力,努力完成学习任务
④早就业,拒升学,以免被清退
- A. ①②③ B. ②③④ C. ①③④ D. ①②④
28. 据统计,我国各类志愿服务组织超过 58 万,加上实名注册志愿者超过 1.1 亿人。关于公民参与志愿服务活动,下列说法正确的有()。
- ①可以吸引众多关注的目光,获得一时的满足感 ②能够促进自身全面发展
③有利于形成良好的社会风气 ④需要从实际出发,讲究实际效果
- A. ①②③ B. ②③④ C. ①③④ D. ①②④



第二部分 法治教育

第一单元 坚持宪法至上

基础训练

一、快乐四选一

1. “党的一切工作必须以最广大人民根本利益为最高标准。我们要坚持把人民群众的小事当作自己的大事,从人民群众关心的事情做起,从让人民群众满意的事情做起,带领人民不断创造美好生活!”这段话体现了()。

- A. 我国是全体公民当家作主的国家 B. 我国人民是国家和社会的主人
C. 尊重和保障人权是社会进步的标志 D. 人民有广泛的政治权利

2. 习近平在首都各界纪念现行宪法公布施行 30 周年大会上发表重要讲话强调:宪法的生命在于实施,宪法的权威也在于实施。要健全权力运行制约和监督体系,有权必有责,用权受监督,失职要问责,违法要追究,保证人民赋予的权力始终用来为人民谋利益。这句话告诉我们()。

- ①权力制约和监督机制的建立与完善有利于预防权力的腐败
②让权力在阳光下运行,可以防止权力滥用,杜绝腐败现象的发生
③规范权力的运行对民主政治建设没有任何意义
④推进法治中国建设必须强化权力运行制约和监督体系的建设

- A. ①④ B. ①② C. ②③ D. ③④

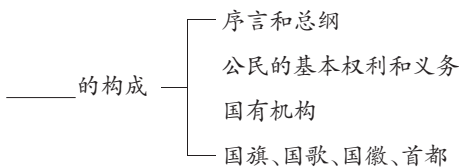
3. 右侧漫画所要表达的思想是()。

- A. 用权须谨慎,利益不可取
B. 用权受监督,有责必有利
C. 有权必有责,获利须尽责
D. 有权必有利,侵权要赔偿



责权利

4. 根据下图中的相关内容推测,横线上应填写的这部法律是()。



- A. 刑法 B. 国旗法 C. 宪法 D. 国家安全法

5. 随着互联网发展,广大网民可以通过人民网、腾讯网、新浪微博等平台反映问题、提出意见,相关政府部门将定向解答、限时回复解决。这一做法()。



- ①保障人民直接行使国家权力 ②有利于保障公民的监督权
③属于社会舆论监督形式 ④有利于推动政府依法行政
- A. ①②③ B. ①②④ C. ①③④ D. ②③④
6. 宪法不仅是抽象的价值和崇高的目标,而且与公民的利益、权利密切相关。实行宪政和法治,需要在具体情况下落实宪法。落实宪法要求我们青少年()。
- ①认真学习宪法 ②积极参与宪法宣传活动
③认同宪法,让宪法真正铭刻于心 ④践行宪法,将宪法原则落实在实际行动中
- A. ①②③ B. ②③④ C. ①②④ D. ①②③④
7. 2018年3月11日,我国宪法迎来了第五次大规模修改,这体现我国在法治建设中做到了()。
- A. 科学立法 B. 严格执法 C. 公正司法 D. 全民守法
8. 银川市第十五届人民代表大会是由()。
- A. 银川市的选民通过直接选举产生 B. 银川市各县(市、区)的人大代表选举产生
C. 银川市各县(市、区)的政府选举产生 D. 银川市的公民通过直接选举产生
9. 2018年3月11日,第十三届全国人大一次会议表决通过的《中华人民共和国宪法修正案》中,增加一节即“第七节监察委员会”。3月20日,大会表决通过了《中华人民共和国监察法》。3月23日,国家监察委员会在北京揭牌。材料表明()。
- ①选举民主是我国社会主义民主政治的特有形式和独特优势
②协商民主是社会主义民主政治的本质特征
③人民代表大会制度是我国根本政治制度
④我国坚持依法治国的基本方略
- A. ①② B. ①③ C. ②④ D. ③④
10. 习近平在党的十九大报告中提出:“强化自上而下的组织监督,改进自下而上的民主监督,发挥同级相互监督作用,加强对党员领导干部的日常管理监督。”下列可以监督权力行使的有()。
- ①公民 ②全国人民代表大会
③最高人民法院 ④全国人民代表大会常务委员会
- A. ①②③ B. ①②④ C. ②③④ D. ①③④
11. 党的十九大报告指出:发展社会主义民主政治就是要体现人民意志,保障人民权益,激发人民创造力,用制度体系保证人民当家作主。下列对保证人民当家作主“制度体系”认识正确的是()。
- A. 民族区域自治制度是符合我国国情的根本政治制度
B. 人民代表大会制度是保障少数民族合法权利的基本制度
C. 中国共产党领导的多党合作和政治协商制度是人民行使权力的根本途径
D. 实行基层群众自治制度,发展基层民主,是社会主义民主政治建设的基础
12. 在我国,人民当家作主从来就不是一句口号、一句空话,而是有着完善的保障人民当家作主的制度体系。“通过充分协商,求同存异,找到最大公约数,画出最大同心圆”描述的是我国的()。
- A. 基层群众自治制度 B. 民族区域自治制度
C. 人民代表大会制度这一根本政治制度 D. 中国共产党领导的多党合作和政治协商制度



13. 宁夏回族自治区十一届人大常委会第三十六次会议在银川召开,自治区原党委书记、人大常委会主任石泰峰主持会议并讲话。会议听取了自治区十二届人大一次会议筹备情况汇报,表决通过了自治区人大常委会有关决定。宁夏回族自治区行使自治权力的自治机关是()。
- ①人民代表大会 ②法院和检察院 ③人民政府 ④村委会和居委会
- A. ①③ B. ①② C. ②③ D. ①④
14. 十二届全国人大五次会议表决通过了以宪法为依据制定的民法总则,这说明()。
- A. 我国法律规定了国家生活中最根本的问题 B. 宪法是其他法律的立法基础和立法根据
- C. 我国宪法是其他法律的具体化 D. 宪法是子法,其他法律是母法
15. 全国法制宣传日期间,某校开展“宪法进课堂”活动,大家围绕“建设法治中国就要维护宪法权威”这一主题展开了讨论。下列观点你赞同的是()。
- ①全面推进依法治国首先是要依宪治国
- ②宪法是国家的根本大法,是其他法律的总和
- ③宪法是一切组织和个人的根本活动准则
- ④宪法具有至高无上的权威,任何违反宪法的行为都要受刑罚处罚
- A. ③④ B. ②④ C. ①③ D. ①②
16. 小林为参加学校组织的宪法进社区宣传教育实践活动,准备了下面的宣讲内容。你认为正确的有()。
- ①依法治国的核心是宪法 ②宪法具有最高的法律效力,是最严厉的法律
- ③宪法是国家的最高法,是治国安邦的总章程 ④宪法是国家的根本大法
- A. ③④ B. ①②③④ C. ①③④ D. ①②④
17. 2019年3月15日,第十三届全国人民代表大会第一次会议十三届全国人大二次会议表决通过了政府工作报告、表决通过了根据宪法制定的《中华人民共和国外商投资法》和其他重要报告。这表明()。
- ①全国人民代表大会是我国最高国家权力机关 ②人民代表大会制度是我国的基本政治制度
- ③人民代表大会制度是我国的根本政治制度 ④人民代表大会制度是人民行使国家权力的机关
- A. ②③ B. ①③ C. ②④ D. ①②
18. 宪法第一条明确规定了我国的国家性质;第二条明确规定了我国社会主义民主的本质。据此,下列说法正确的是()。
- ①我国是人民民主专政的社会主义国家 ②我国是人民当家作主
- ③我国广大人民群众可以直接行使国家权力 ④我国公民从始至终都享有广泛的政治权利
- A. ①② B. ②④ C. ③④ D. ②③
19. 2019年12月3日,国务院在中南海举行宪法宣誓仪式,李克强总理监誓。李克强总理要求大家铭记誓言,依宪履职、为民履职、实干履职、廉洁履职,把人民群众最关切的事情办好。李克强总理之所以要求大家,把人民群众最关切的事情办好,是因为()。
- ①我国是人民民主专政的社会主义国家 ②在我国,国家的一切权力属于人民
- ③所有的中国公民都是国家的主人 ④我国宪法明确了人民当家作主的地位
- A. ①②④ B. ①③④ C. ①②③ D. ②③④



二、亮出我的观点

1. 小丽为家境贫困的同学捐出了自己的压岁钱,是行使对自己财产的处分权。

判断:

理由:

2. 在经济生活中,有了《消费者权益保护法》,伤害消费者合法权益的事件就不会发生。

判断:

理由:

3. 公民的个人私事都属于公民的隐私,都应受到法律的保护。

判断:

理由:

4. 从公民自身发展和对国家的要求来讲,受教育是公民的一项基本义务。

判断:

理由:

5. 维护国家安全是大事,是军人和政府的事,跟我们读书的青少年学生无关。

判断:

理由:

6. 受教育是一项基本人权,是我们成长和发展的基础。

判断:

理由:

7. 法律保护公民的一切财产所有权。

判断:

理由:

8. 人身自由权是公民最基本的权利,是人身权利中最重要、最起码的权利。

判断:

理由:

9. 不做有损他人人格的事,才能真正维护自己的人格尊严。

判断:

理由:

10. 选举权和被选举权是公民行使国家权力、参与国家管理的一项最基本的政治权利。权利与义务是统一的,权利是履行义务的前提,义务是享有权利的基础。

判断:

理由:

综合拓展

一、各抒己见

1. 小王说:宪法是闲法,不是贤法,违法可怕,违宪不可怕。

小王的观点对吗?



我的观点是：

2. 小强是一个学习热情非常高的学生,但他有一个缺点,做事比较粗心,经常会将相关的知识混淆。某日,他将《道德与法治》第四单元的部分观点进行了归纳和整理,但其中有几处错误,请你帮他指出来,并加以更正。①人民代表大会是我国的根本政治制度;②全国人民代表大会是我国的最高权力机关;③在我国,凡是年满 18 周岁的人都享有选举权和被选举权;④有法可依是依法治国的中心环节。

更正：

3. 同学们在学习了“发展人民民主”一课知识后,结合自己了解的实际情况展开了热烈的讨论,畅谈对人民代表大会制度的认识。以下是其中两个同学的观点：

甲：在我国,人民是国家的主人,国家的一切权力属于人民。

乙：在我国,各级人民代表组成全国人民代表大会和地方各级人民代表大会,分别决定全国和各级地方的一切重大事务,国家的一切权力属于人民代表。

我的观点是：

二、漫画分析

1. 观察漫画,回答问题。

(1) 漫画的寓意是什么?



(2) 请你为进一步完善“制度”,减少“越位”现象发生提两条合理化的建议。



2. 材料一:观察漫画。



材料二:党的十九大报告提出“发展社会主义民主政治就是要体现人民意志、保障人民权益、激发人民创造活力,用制度体系保证人民当家作主”。报告首次鲜明提出“健全人民当家作主的制度体系”,为我国社会主义民主政治建设指明了方向和目标。

(1)漫画体现了我国的哪一基本政治制度?它对加快我国的社会主义民主政治建设有什么重要意义?

(2)“人民当家作主的制度体系”主要包括哪些制度?

3. 观察漫画,回答问题。

(1)漫画反映公民在行使哪一项权利?

(2)在我国,公民行使该权利的途径有哪些?

(3)公民在行使该权利时应该注意哪些问题?



三、材料分析

1. 材料一:我国宪法第一条规定,中华人民共和国是工人阶级领导的,以工农联盟为基础的人民民主专政的社会主义国家。宪法还规定了我国的国家根本制度、根本任务等。

材料二:我国《环境保护法》《教育法》等法律,都特别写明“以宪法为根据制定本法”或“根据宪法制定本法”。

材料三:我国现行宪法规定,宪法的修改,由全国人民代表大会常务委员会或者五分之一以上的全国人民代表大会代表提议,并由全国人民代表大会以全体代表三分之二以上的多数通过。



(1)材料一、二、三分别说明了什么?

(2)从材料所说明的问题,可以看出宪法的地位如何?

(3)青少年该如何维护宪法的权威?

2. 材料一:3月15日,在十三届全国人大二次会议第五次全体会议上,习近平全票当选中华人民共和国主席、中华人民共和国中央军事委员会主席,习近平进行了庄严的宪法宣誓。

材料二:2019年12月3日,国务院在中南海举行宪法宣誓仪式。国务院总理监誓。根据《中华人民共和国宪法》和《国务院及其各部门任命的国家工作人员宪法宣誓组织办法》,2019年7月至2019年11月国务院任命的14个部门和单位的16名负责人依法进行宪法宣誓。

(1)运用所学知识说说宪法宣誓内容体现了什么?

(2)实行宪法宣誓制度有什么意义?

(3)为了更好地响应宪法宣誓制度,在平时的学习生活中,我们青少年应该如何积极维护宪法的权威和尊严?

3. 材料一:习近平在党的十九大报告中指出:加强社会保障体系建设。完善统一的城乡居民基本医疗保险制度和大病保险制度;完善失业、工伤保险制度;建立全国统一的社会保险公共服务平台;统筹城乡社会救助体系;完善最低生活保障制度;坚持男女平等基本国策,保障妇女儿童合法权益;完善社会救助、社会福利、慈善事业、优抚安置等制度;健全农村留守儿童和妇女、老年人关爱服务体系;发展残疾人事业,加强残疾康复服务。



材料二:习近平在党的十九大报告中指出:坚决打赢脱贫攻坚战。让贫困人口和贫困地区同全国一道进入全面小康社会是我们党的庄严承诺。要动员全党全国全社会力量,坚持精准扶贫、精准脱贫,坚持中央统筹省负总责市县抓落实的工作机制,强化党政一把手负总责的责任制,坚持大扶贫格局,注重扶贫同扶志、扶智相结合,深入实施东西部扶贫协作,重点攻克深度贫困地区脱贫任务,确保到2020年我国现行标准下农村贫困人口实现脱贫,贫困县全部摘帽,解决区域性整体贫困,做到脱真贫、真脱贫。

(1)材料体现了哪一个宪法原则?它的具体要求是什么?

(2)党的十九大提出的加强社会保障体系建设和坚决打赢脱贫攻坚战体现的我国的国家性质是什么?

1. 2019年12月4日是第六个国家宪法日,也是第十九个全国法制宣传日。为积极贯彻实施“12·4”国家宪法日和法制宣传日活动,某校八年级(1)班的同学们分成小组走出校门,开展了一次社会实践活动。请你和他们一起行动吧!

【参观】第一小组来到当地人民检察院,看到这里正在举行新任命的检察院工作人员向宪法宣誓仪式。我宣誓:“忠于中华人民共和国宪法,维护宪法权威,履行法定职责,忠于祖国、忠于人民,恪尽职守、廉洁奉公,接受人民监督,为建设富强、民主、文明、和谐的社会主义国家努力奋斗!”

(1)新任命的人民检察院工作人员要向宪法宣誓,这是为什么?

【访谈】第二小组来到当地人民政府,他们以小记者的身份采访了分管教育的副县长。副县长对同学们说:“今年以来,我县坚持‘民生至上、教育为先’的理念和‘统筹规划、分步实施、注重内涵、办出特色、全面提高、协调发展’的原则,突出多措并举,全面巩固义务教育基本均衡工作成果,不断推进义务教育优质均衡发展。”

(2)请从“尊重和保障人权的角度”谈谈推进义务教育优质均衡发展的必要性。

【体验】第三小组的学生分头采访了街头的普法宣传志愿者、运用法律手段讨薪的企业员工、举报校园门口售卖三无食品的小学生家长、按照程序查看政府“账单”的网民……



(3)结合以上案例,谈谈怎样监督权力行使?

2. 材料一:“我宣誓:忠于中华人民共和国宪法,维护宪法权威,履行法定职责……”2019年12月4日上午,某省高级人民法院43名法官面向国旗,右手握拳,向宪法郑重宣誓。法官们表示,将牢记承诺,时刻用誓言提醒、警醒自己,进一步增强政治意识、提升履职能力,以实际行动回报党和人民的信任。

材料二:调查结果显示,公众对宪法的了解,并不令人乐观:84.3%的受访者未完整读过宪法,其中33.2%的人从未读过,51.1%的人读过但未读完,完整读完的人数仅占15.7%。

(1)根据材料一谈谈国家机关工作人员向宪法宣誓的重要意义。

(2)材料二中的调查结果说明了什么?

(3)请你就中学生如何增强宪法意识、维护宪法权威出谋划策。

3. 围绕“国家权力属于人民”的宪法原则,八年级学生明明整理了下列信息。

[信息一]我国宪法第一条规定:中华人民共和国是工人阶级领导的,以工农联盟为基础的人民民主专政的社会主义国家。

我国宪法第二条规定:人民行使国家权力的机关是全国人民代表大会和地方各级人民代表大会。人民依照法律规定,通过各种途径和形式,管理国家事务,管理经济和文化事业,管理社会事务。

我国宪法第六条规定:中华人民共和国的社会主义经济制度的基础是生产资料的社会主义公有制,即全民所有制和劳动群众集体所有制。

(1)根据以上信息说明“国家一切权力属于人民”的宪法原则是如何得以实现的?

[信息二]国务院新闻办公室发表了《改革开放40年中国人权事业的发展》白皮书。白皮书指出,中共十九大提出坚决打赢脱贫攻坚战的战略目标,把精准脱贫作为全面建成小康社会必须打好的三大攻坚战之一。



(2)请从人权的角度分析我国为什么要坚决打赢脱贫攻坚战?

[信息三]白皮书还指出,40年来,中国坚持以人民为中心的发展思想,把增进人民福祉、保障人民当家作主、促进人的全面发展作为发展的出发点和落脚点,在改革开放中尊重人权,在改革开放中保障人权,在改革开放中促进人权,成功地走出了一条符合国情的人权发展道路,创造了人类文明发展史人权保障的新经验、新奇迹。

(3)结合这一信息说说我国为什么要尊重人权、保障人权、促进人权?

[信息四]白皮书同时指出,人权没有最好,只有更好。实现更加充分的人权保障,中国还有很长的路要走,仍面临许多困难和挑战。

(4)请举出我国人权面临困难和挑战的两个事例。为让中国人权事业的明天更加美好,请你提几条合理化的建议。

4. 城管执法人员张某、李某、杨某在巡查街道的过程中分别发现小摊贩占道贩卖日用品,不仅影响附近商店的正常营业,还造成交通堵塞和安全隐患。张某同情小摊贩谋生艰难,不予理睬。李某给小摊贩讲道理,说明占道经营的危害性,劝其离开。杨某直接采取暴力手段没收小摊贩的商品。

(1)国家机关工作人员行使权力的依据是什么?

(2)从规范权力运行的角度,对上述三名城管人员的做法予以简要评析。

5. “复婚不准操办酒席”“为提高市民节水意识发文停水”“全县卷烟销售必须达到 25100 箱”……近年来,不时出现的“奇葩文件”既侵害了民众权益,也损害了政府的公信力。行政规范性文件是行政机关开展行政执法活动的重要依据,覆盖行政管理的各个领域,也就是俗称的“红头文件”。为此,国务院办公厅印发



《关于全面推行行政规范性文件合法性审核机制的指导意见》，旨在确保行政规范性文件合法合规。

(1)“奇葩文件”既侵害了民众权益,也损害了政府公信力。这说明了什么?

(2)《指导意见》的出台有什么意义?

(3)行政机关在制定“红头文件”时应注意什么问题?

第二单元 理解权利义务

基础训练

一、快乐四选一

- 近年来,广场舞扰民的现象时有发生。广场舞大妈们不但长期抢占小区空地和街边广场,而且“高音炮”已经严重影响了小区居民的正常生活,而小区居民以泼粪、殴打等方式对抗广场舞大妈们的情况也频频出现。从公民权利和义务关系看,上述问题的出现在于双方不理解()。
①公民的权利和义务具有一致性
②公民不仅要依法行使权利,而且要依法履行义务
③公民在行使自由和权利的时候,不得损害其他公民的合法的自由和权利
④享受权利是履行义务的前提
A. ①②③ B. ②③④ C. ①②④ D. ①③④
- 北京海淀区法院对“葛优躺”表情包的侵权责任纠纷案件做出最终判决,宣判艺龙网公司在官方微博进行公开道歉,并予以 7.5 万余元的经济赔偿。本案中艺龙网公司侵犯了葛优的权利是()。
A. 肖像权 B. 隐私权 C. 姓名权 D. 名誉权
- 2019 年 2 月,人民网连续第 19 年推出“两会热点调查”,此项调查已成为“两会”期间媒体报道评论乃至官方决策的重要数据参考。人民网“两会热点调查”()。
①是公民参与民主生活、行使公民监督权的有效途径
②有利于国家机关和国家工作人员改进工作、提高工作效率
③有助于克服官僚主义,防止滥用权力和杜绝腐败
④有助于提高公民的参与意识,激发公民的参与热情
A. ①③④ B. ②③④ C. ①②③ D. ①②④
- 在 2019 年 2 月某县选举人大代表时,刚满 18 周岁的小庆对自己满意的候选人投了赞成票。小庆是在行使公民的()
A. 批评权 B. 建议权 C. 选举权 D. 控告权



5. 公民“在行使自由和权利的时候,不得损害国家的、社会的、集体的利益和其他公民的合法的自由和权利。”下列违背这项法律规定的行为是()。

- ①警察李某在身受重伤的情况下奋起反抗,将正在持刀抢劫的劫匪击毙
- ②张某因一小事,将同事刘某打成重伤
- ③住校生周某的钱物被寝室的王某偷去后,周某伙同几位同学将王某打伤并夺回被偷钱物
- ④某中学生在电影院里大喊大叫

A. ①②③ B. ②③④ C. ①②④ D. ①③④

6. 下列行为属于初中学生正确行使权利的有()。

- ①小林拒绝父亲让他辍学卖菜的要求,坚持回学校上学
- ②小凡打电话向有关部门举报学校附近有黑色网吧
- ③小明找哥哥教训曾经欺负过自己的同学
- ④小双利用假期去打工

A. ①②③ B. ②③④ C. ①②④ D. ①③④

7. 义务体现了社会对个人、国家对公民的要求。下列属于未成年人依法履行义务的是()。

- A. 定期购买《宁夏日报》
- B. 国家法定节假日出游
- C. 尊重少数民族的风俗习惯
- D. 因观看球赛旷课在家

8. 下列属于侵犯公民名誉权的行为是()。

- A. 假冒他人姓名进行诈骗
- B. 对获得“三好学生”的同学进行讽刺
- C. 打匿名电话捏造事实进行打击报复
- D. 未经本人同意将其照片印在挂历上

9. 下列属于侵犯公民肖像权的行为是()。

- ①以营利为目的,翻印、悬挂、出售公民肖像
- ②某杂志社未经本人许可,将照片刊登在杂志的封面上
- ③用手机偷拍他人并在网上发布
- ④经过本人同意后,用其照片在橱窗里做广告

A. ①②③ B. ②③④ C. ①②④ D. ①③④

10. 范某从商场购买一台电脑,使用不久电路就被烧毁,经专家鉴定,是电脑自身质量问题引起的。你认为范某维权首选的正确方法是()。

- A. 与商场协商解决
- B. 向人民法院提起诉讼
- C. 请求消协帮助解决
- D. 自认倒霉,重新购买

11. 对右侧漫画认识正确的是()。

- A. 体现了公开、公正的选举原则
- B. 有利于维护人民的利益和意愿
- C. 侵犯了公民的选举权和被选举权,不利于民主政治的发展
- D. 体现了民主参与、守法负责的民主意识



12. 下列公民中,拥有从国家和社会获得物质帮助权的有()。

- ①75岁的退休老人王某
- ②先天失明的张某



③厨房被大火烧毁的李某

④在上学的大学生武某

A. ①②

B. ①④

C. ③④

D. ②④

13. 我国《公共图书馆法》规定,公民享有文献信息查询、借阅;阅览室、自习室等公共空间设施场地开放;公益性讲座、阅读推广、培训、展览;国家规定的其他免费服务项目等四类免费服务。这项规定有利于保护公民的()。

A. 社会经济权利

B. 文化教育权利

C. 物质帮助权利

D. 通信自由权利

14. 2018年,全国九年义务教育巩固率达94.2%,但少数农村地区特别是老少边穷地区仍不同程度存在失学辍学现象,实现国家确定的到2020年义务教育巩固率达到95%的目标面临严峻挑战。辍学的学生应该自觉履行受教育义务,因为()。

A. 法律鼓励做的,要积极去做

B. 法律提倡做的,要努力去做

B. 法律要求做的,必须去做

D. 法律禁止做的,不能不做

15. 现今,信息通讯高效便捷,纸质书写逐渐被电脑打字所取代,家书也被邮件、短信、微信、视频通话等高科技通信方式所代替。但生活中偷看别人邮件、短信、微信内容的事件时有发生。这种偷看行为()。

①属于违法行为

②侵犯了公民的隐私权

③侵犯了公民的通信自由和通信秘密受法律保护的权利

④是不道德的行为但并未违法

A. ②③④

B. ①②③

C. ①③④

D. ①②④

16. 近年来,微信“轻松筹”逐渐走进人们的生活,很多人伸出援手,向需要帮助的人捐出了5元、10元、100元不等,这是大家行使了对自己合法财产的()。

A. 占有权

B. 处分权

C. 收益权

D. 使用权

17. 下列行为中,侵犯公民人身自由的是()。

A. 动车站安检人员检查乘客背包

B. 公安机关依法拘留酒驾人员

C. 农民工将欠薪的包工头扣押

D. 医疗部门按规定将传染病患者隔离

18. 监督权是法律赋予我们的权利,积极行使监督权是主人翁意识及责任感的表现。行使监督权,必须采取正确的方法。下列方法错误的是()。

A. 当面向人大代表反映情况

B. 到政府机关静坐示威反映情况

C. 通过新闻媒体公开发表自己的意见

D. 给主管部门写信、打电话、发邮件反映情况

19. 我国是一个统一的多民族的国家,维护民族团结是每个公民的义务。下列说法正确的是()。

①学习、宣传我国的民族政策

②到少数民族地区旅游,学习少数民族文化

③和少数民族同学开玩笑,嘲笑少数民族同学讲话

④尊重少数民族的风俗习惯和宗教信仰

A. ①②③

B. ①②④

C. ②③④

D. ①③④

20. “有钱不可任性”“有权不可任性”是网络流行语。钱即使是个人财产,任性也要合法;可权属于公共权力,是人民赋予的,不可有丝毫的任性。对此理解正确的是()。

A. 公民既是权利的享有者也是义务的承担者

B. 尽量不损害国家、集体和其他公民的权利

C. 法律要求和鼓励做的,一般应该积极去做

D. 某些权利与义务是相互依存、相互结合的



21. 某县的 17 岁学生,为了“提高 QQ 的关注度”,在网上发布“某处将再次发生较大地震”的谣言。因为涉嫌散布谣言,该学生被警方及时控制并处警告教育。针对这一事件,正确的认识是()。
- A. 该学生依法行使了言论自由权
B. 言论自由在网上是不受限制的
C. 公民言论自由还未得到充分实现
D. 言论自由应在法律规定的范围内行使
22. 党和政府不断拓宽民主渠道,保障公民的知情权、参与权、表达权、监督权。下面不能体现公民行使政治权利的是()。
- A. 小军通过政府网站了解银西高铁的建设进程
B. 某市举行人大代表换届选举,选民踊跃参与投票
C. 群众主动向有关部门举报某官员的贪污、受贿问题
D. 某政府部门设置了“信访举报民情直通车”接访窗口

二、亮出我的观点

1. 小丽为家境贫困的同学捐出了自己的压岁钱,是行使对自己财产的处分权。

判断:

理由:

2. 在经济生活中,有了《消费者权益保护法》,伤害消费者合法权益的事件就不会发生。

判断:

理由:

3. 公民的个人私事都属于公民的隐私,都应受到法律的保护。

判断:

理由:

4. 从公民自身发展和对国家的要求来讲,受教育是公民的一项基本义务。

判断:

理由:

5. 维护国家安全是大事,是军人和政府的事,跟我们读书的青少年学生无关。

判断:

理由:

6. 受教育是一项基本人权,是我们成长和发展的基础。

判断:

理由:

7. 法律保护公民的一切财产所有权。

判断:

理由:

8. 人身自由权是公民最基本的权利,是人身权利中最重要、最起码的权利。

判断:

理由:



9. 不做有损他人人格的事,才能真正维护自己的人格尊严。

判断:

理由:

10. 选举权和被选举权是公民行使国家权力、参与国家管理的一项最基本的政治权利。权利与义务是统一的,权利是履行义务的前提,义务是享有权利的基础。

判断:

理由:

综合拓展

一、漫画分析

1. 材料一:当今社会,互联网为人们获取和交流信息提供了极大便利,但也为个人信息被他人非法搜集、公开、传播和利用提供了可能。《加强网络信息保护的决定》第一条强调,国家保护能够识别公民个人身份和涉及公民个人隐私的电子信息。

材料二:《焦点访谈》栏目报道了一些公民被非法调查,甚至遭遇暴力伤害的案例。此类案例近年来在全国各地多发,根源之一就在于不法分子通过一些网上信息平台非法获取了被害人的个人信息。个人信息涉及方方面面,像家庭住址、手机号码、车牌号、收入情况、银行资料、工商注册资料等,这些信息竟然都成为在网络信息平台上交易的商品。

材料三:观察漫画。

(1)材料中不法分子和漫画中网站的行为是什么行为? 侵犯了他人的哪些权利?



(2)你认为在现实生活中我们应如何维护这项权利?

2. 观察漫画,回答问题。

(1)漫画中行人的哪项最重要的权利可以得到有效的保护?



(2)结合漫画说说对这项权利的保护有什么重要意义?

3. 右侧漫画中某企业的行为侵害了公民的哪项权利? 公民应如何保护好这项权利?



4. 右侧漫画可以看出,公民的哪些权利可能会受侵害? 公民该如何有效地避免电信诈骗?



5. 右侧漫画中男子的行为有哪些危害? 此类现象屡屡发生带给我们哪些警示?



6. 观察右侧漫画,从权利和义务关系的角度,分析漫画中孩子的言行。



7. 观察漫画,回答问题。

(1)漫画中黑恶势力的行为为什么是违法行为?

(2)黑恶势力产生的原因有哪些?

(3)从维护宪法权威和保障社会公平正义的角度结合漫画谈谈扫黑除恶的重要意义。



(4)人民法院和人民检察院在打击黑恶势力的过程中各自行使着怎样的职权?

三、案例分析

1. 材料一:一列开往广州南的列车上,一名女子抓住高铁车门不让关门,“我老公就在检票口了,让他先上车”!女子前后多次阻止工作人员关门。铁路工作人员和乘客多次劝解,该女子仍强行扒阻车门,造成列车晚点发车,严重扰乱了铁路的正常运行。

材料二:我国《铁路安全管理条例》明文规定,禁止实施危害铁路安全的行为,包括“强行登乘或者以拒绝下车等方式强占列车”。

(1)女乘客的行为为什么是违法行为?

(2)结合女乘客的行为,针对公民怎样正确行使权利谈谈你的看法。

2. 材料一:网络跟帖未实名的时候,对于热点事件跟帖评论都参差不齐,还有污言秽语。一个平常的讨论可能引发一场网络暴力事件。既不能明辨是非,又不能澄清谬误,基本不靠谱。一些有着自己真知灼见的人士慢慢也就敬而远之。对此有人评价:跟帖实名是网络健康发展的客观要求,也是规律使然。无序必然走向有序,不对等必然趋向对等。跟帖实名有利于实现公民权利和义务的对等。

材料二:国家施行的《互联网跟帖评论服务管理规定》旨在促进互联网跟帖评论服务健康有序发展,网络跟帖实名制成了大家关注的焦点。

(1)你对网络跟帖中的不良现象是如何认识的?



(2)怎样理解“跟帖实名有利于实现网络公民权利和义务的对等”?

(3)假如你网上跟帖,应该注意什么问题?

3. 材料一:银川某中学学生小华觉得社会就业压力大,即使是大学毕业也不一定能找到好工作,认为读书无用,而辍学打工可早早挣钱。

材料二:根据相关数据统计发现,中国农村地区辍学率相对较高,甚至成为中国农村初中教育阶段一个普遍性存在的问题。

材料三:“玉不琢,不成器;人不学,不知义”“国家兴盛,人才为本。人才培养,教育为本。”

材料四:《教育部办公厅关于做好2020年义务教育招生入学工作的通知》强调:要针对少数适龄儿童、少年延缓入学、休学或自行实施义务教育等特殊需求,提前对其父母或者其他法定监护人做好政策宣讲工作,增强告知及解释力度。对违反《义务教育法》相关规定的行为,要依法督促改正。

(1)材料一、二反映了社会存在什么问题?

(2)结合材料三、四谈谈为什么受教育既是权利又是义务?

(3)谈谈作为中学生的我们应该如何珍惜受教育的机会?

4. 2018年10月18日,甘肃泾川,一辆从宁夏开往西安的客车正在行驶,一块钢板突如其来,如同子弹般穿透客车前挡风玻璃,砸中驾驶员撒东红的心脏部位。在生命最后时刻,宁夏天豹固原汽车运输有限责任公司驾驶员撒东红强忍疼痛,紧紧握住方向盘,缓缓踩下刹车,他以一名职业驾驶员的高度敬业精神,完成了一系列完整的安全停车措施。将载有19名旅客的客车停在安全地带后,他倒在了驾驶室内。

(1)撒东红履行了什么义务?同时保护了乘客的什么权利?



(2)我们应该如何向撒东红学习,自觉履行义务?

5. 情景一:小勇曾在某影楼照过一套艺术照,效果非常好。后来他发现影楼老板居然未经他同意,就将他的照片摆在橱窗里做广告。

情景二:小勇发现好友小刚最近神情恍惚,常常唉声叹气,多次关心询问毫无结果。小勇非常着急,想帮帮好友,于是就偷看了小刚的日记。了解到原来是小刚的父母刚刚离婚,小勇把这个消息告诉了几个要好的同学,希望同学们帮帮小刚。小刚知道后,怒气冲冲找到小勇,将小勇揍了一顿。小勇委屈极了。

(1)情景一中小勇的什么权利受到侵犯?小勇应怎样去做?

(2)在帮助小刚的过程中,小勇哪些地方做错了?为什么?

(3)小刚所采取的方式对吗?我们应该如何维护自身的合法权益?

6. 中学生杨某在初二时写了一篇作文《我的父亲》,向当地的一家晚报投稿后,被这家晚报采纳并刊登出来,由于情感真实,在当地引起不小的轰动,杨某心里也十分高兴。可是一年后,即将面临中考的她在自己购买的《中学生作文精选 100 篇》中发现了自己的这篇文章。

(1)谁侵犯了杨某的什么权利?

(2)如果你是中学生杨某,你应该怎么办?

探究创新

1. 小卉的一天:早晨,九年级学生小卉背着书包上学。到了学校,小卉把空的食品包装袋随手扔在路边的草坪里。午饭后,小卉到书店买书,回校路上,看到两名社会青年在敲诈勒索一名低年级同学。小卉连忙用路边的公用电话打“110”报警。放学后,小卉连忙回家做饭,因为妈妈病了。晚上,她还根据历史与社会课布置的作业,就所调查的快餐店一次性筷子及河流污染情况向有关部门提出了综合治理的书面建议。



(1)请你说说小卉一天的活动中,什么行为是不正确的?针对她的错误你想对她说些什么?

(2)请问小卉享受了哪些权利?履行了哪些义务?

2. 天津一中学生魏之川发明设计的“环保型水帘窗纱”获得国家实用新型专利证书。水帘窗纱不仅可以阻止蚊蝇进入,还可提高室内空气质量,起到空气加湿器的作用。

(1)中学生魏之川享有法律赋予他的什么权利?

(2)结合材料说说我国宪法对公民享有的这一权利的规定。

3. 农民范某和王某是邻居,为农田灌溉两家发生冲突,范某怀恨在心。今年春天,范某翻盖新房,在砌院墙时将王某宅基地圈在自己的院子里并砍掉王某宅基地的三棵果树,拆除王某家的厕所。王某将范某告到法院,法院作出判决,要范某返还所侵占的王某之宅基地,赔偿王某经济损失 3000 元,将王某家的厕所恢复原状。

(1)法院的判决使王某的什么权利得以保护?

(2)我国法律保护公民的这一权利有什么意义?

(3)本案中审判机关依据何种法律、采用什么方式追究侵权人的法律责任?

(4)本案给了我们什么启示?



4. 中学生小青在某体育用品商店买了一双“耐克”牌运动鞋,只穿了一个星期就出现开胶现象。小青找到商店老板要求退货,并要求老板赔偿因此给自己带来的损失。老板讽刺挖苦道:“100块钱就想买真‘耐克’,简直是痴心妄想,小孩子家不知天高地厚。”边说边把小青往外推。小青忍无可忍,把鞋朝老板砸了过去……

(1)请分别评价商店老板和小青的言行。

(2)你认为有哪些有效方法可以解决这一问题。(不少于两种方法)

5. 张大爷将城市建设中国家补偿的一套房子租给了计某,每年获取租金一万元。计某租用一年后因做生意亏本,便私自将租用的房屋卖掉了,张大爷知道后非常气愤,于是找计某说理,但一时又拿不出证据,不知如何讨回公道。

(1)张大爷将房子出租获得租金,属于他对自己合法财产行使哪项权利?

(2)你帮张大爷想想如何讨回公道?

6. 个体商贩赵某在市场上卖水果时,与顾客发生争执,市场管理人员刘某以赵某扰乱市场秩序为由,强行将他带到管理所,将其捆绑、吊打长达两小时。

(1)请运用法律常识评析刘某的行为。

(2)赵某应如何讨回公道?

7. 王某和李某是楼上楼下的邻居。楼上王某家的卫生间长期漏水,楼下的李某遭了殃,为此李某找了王某好几次让他修好,可王某却说:“修不修卫生间是我自己家的事,别人管不着。”李某回到家中,越想越是气愤,打算找人教训王某一顿。



(1)王某的做法是否正确?请运用法律知识分析。

(2)你认同李某的想法吗?为什么?请你帮他想个办法解决这一烦心事。

(3)设想一下,如果没有法律的保障,我们的生活会怎样?简要说明理由。

第三单元 人民当家作主

基础训练

一、快乐四选一

1. 下列属于国有经济成分的是()。

- A. 一位外商投资的服装厂
- B. 王亮自己开的食杂店
- C. 李楠就职的中国石油集团公司
- D. 张勇就职的镇办饮料厂

2. 改革开放以来,我国的非公有制经济创造了 60%左右的国内生产总值,80%左右的社会就业,提供了超过一半的税收和 46%左右的外贸出口。这表明非公有制经济()。

- A. 是社会主义经济的重要组成部分
- B. 与公有制在市场经济中地位平等
- C. 是推动我国经济发展的重要力量
- D. 在国民经济中已经占据主体地位

3. 右侧漫画表明我国()。

- ①扶持小微私营企业渡过经济难关
- ②发挥集体所有制企业的积极作用
- ③依法加强对小微私营企业的监督
- ④鼓励、支持非公有制经济的发展

- A. ①②
- B. ②③
- C. ①④
- D. ③④



4. 目前,国有企业承担着我国大部分的原油、天然气和乙烯生产、基础电信服务及增值服务,发电量约占全国的 60%以上,生产的高附加值钢材约占全国的 60%,生产的水电设备约占全国的 75%。2019 年 9 月 1 日,中国企业联合会、中国企业家协会连续第 18 次向社会发布了中国企业 500 强名单,大部分是央企或国企,其中中国石化、中国石油、国家电网排在前列。这表明国有经济()。

- ①是国民经济的主导力量,可提供公共服务、发展重要前瞻性战略性新兴产业
- ②可以保护生态环境、支持科技进步和保障国家安全



③控制着国民经济的所有行业和领域

④必须巩固和发展

A. ①②③ B. ②③④ C. ①②④ D. ①③④

5. 山西汾阳贾家庄村是集体经济发展壮大的典范。2017年该村固定资产近6亿,村民人均纯收入2万余元。先后集体筹资数亿元资金,为村里建楼拓路,改扩建学校、图书苑、卫生院、垃圾污水处理站。儿童教育、老人养老、村民卫生保健都有了更好的保障。材料表明集体经济()。

①能广泛吸纳社会资金、增加公共积累 ②能发展重要前瞻性战略性产业

③能缓解就业压力 ④有利于实现共同富裕

A. ①②③ B. ②③④ C. ①②④ D. ①③④

6. 共享单车的迅速崛起,已成为中国“分享经济”发展的一张亮丽名片。得益于互联网的发展,分享经济在交通、餐饮、医疗、教育、金融、物流等多个领域,用低成本和高效率匹配了海量的社会闲置资源,达到了“人尽其能,物尽其用”。这表明分享经济()。

①活力强,发展迅速 ②满足人们多样化的需要,增加就业岗位

③已成为国民经济的主导力量 ④是促进我国社会生产力发展的重要力量

A. ①②③ B. ②③④ C. ①②④ D. ①③④

7. 右侧漫画说明“人大代表”非虚荣,“为民请命”立新功;反映实情说真话,总把百姓记胸中。这说明()。

①人大代表代表人民说话,代表人民办事

②在我国,人民代表大会制度是实现人民当家作主、管理国家的重要途径和有效形式

③在我国,人民通过直接选举选出自己的代表,组成人民代表大会,集中行使国家权力

④人民代表大会是我国的根本政治制度

A. ①② B. ③④ C. ②③ D. ①④



抢话筒

8. 2019年3月3日,中国人民政治协商会议第十三届全国委员会第二次会议在北京召开。会议期间,政协委员积极议政建言,提出了许多真知灼见,生动践行了社会主义协商民主,充分发挥了人民政协的独特优势和作用。这说明,我国坚持()。

A. 人民代表大会制度

B. 民族区域自治制度

C. 基层群众自治制度

D. 中国共产党领导的多党合作和政治协商制度

9. 宁夏回族自治区成立60年来,各民族始终坚持共同繁荣进步,守护安定团结的生命线,构建中华民族命运共同体,把祖国的西北内陆打造得更加亮丽。这体现出()。

A. 我国坚持民族区域自治的基本国策

B. 民族自治区行使自治权,可以自由管理本民族事务

C. 各族人民形成了平等、团结、互助、和谐的民族关系

D. 民族之间相互融合,已没有任何差异



10. 从右侧漫画中解读出的信息不正确的是()。

- A. 民族区域自治制度尊重历史、合乎国情、顺应民心
- B. 民族区域自治是指各少数民族自我管理、自我教育、自我服务
- C. 民族区域自治制度促进了民族地区人民生活水平的提高
- D. 民族区域自治有利于把国家的集中、统一与各民族的自主、平等结合起来



民族区域自治为少数民族挡风遮雨

11. 全国政协十二届五次会议共收到提案 5210 件。根据《政协全国委员会提案工作条例》，经审查，立案 4156 件。在立案提案中，经济建设方面的占 34.72%，政治建设方面的占 11.67%，文化建设方面的占 7.99%，社会建设方面的占 35.49%，生态文明建设方面的占 10.13%。本次会议，委员通过履职建言积极性高，共有 1945 名委员提出提案，占委员总数的 88.41%。这说明()。

- A. 人民政协的主要职能是政治协商、民主监督
- B. 人民政协是国家大政方针的决策机构
- C. 人民政协通过参政议政为社会主义建设出力献策
- D. 我国的多党合作制度适合我国国情

12. 2019 年 12 月，中共中央在中南海召开了党外人士座谈会，就今年经济形势和明年经济工作听取各民主党派中央、全国工商联负责人和无党派人士代表的意见与建议。这说明()。

- ①人民代表大会制度是我国的根本政治制度
- ②各民主党派是接受中国共产党领导的参政党
- ③中国共产党和各民主党派互相监督、共同执政、肝胆相照、荣辱与共
- ④中国共产党领导的多党合作和政治协商制度是我国的一项基本政治制度

- A. ②④
- B. ①③④
- C. ①②
- D. ②③④

13. 某村村民委员会探索的“议题收集、会议讨论、投票决策、组织实施、评议督导”五阶段决策模式，使村民参与重大村务决策制度化、常态化。这种模式()。

- ①表明村民委员会是基层群众性自治组织
- ②有利于村民直接行使民主权利，管理基层公共事务和公益事业
- ③说明了村里的一切事务均由村民委员会决定
- ④体现了该村民委员会接受村民的监督 and 质询

- A. ①②③
- B. ②③④
- C. ①②④
- D. ①③④

14. 李克强代表国务院在第十三届全国人大二次会议上作《政府工作报告》，人大代表和政协委员进行了认真审议，根据提出的意见和建议，国务院对报告进行修改后获得通过。上述材料体现了()。

- ①最高立法权
- ②最高任免权
- ③最高决定权
- ④最高监督权

- A. ①②
- B. ②③
- C. ③④
- D. ①④

15. 十三届全国人民代表大会二次会议表决通过了《中华人民共和国外商投资法》。这说明()。

- ①全国人民代表大会是我国的根本政治制度
- ②全国人民代表大会是我国的最高国家权力机关
- ③在我国一切权力属于人民
- ④全国人民代表大会在行使立法权

- A. ①②
- B. ③④
- C. ①③
- D. ②④



16. 在我国,国务院、最高人民法院、最高人民检察院每年都要向全国人民代表大会报告工作,这是因为()。
- ①全国人民代表大会地位最高、权力最大
②国务院、最高人民法院、最高人民检察院都由全国人民代表大会产生
③全国人民代表大会对国务院、最高人民法院、最高人民检察院负责
④国务院、最高人民法院、最高人民检察院受全国人民代表大会的监督
- A. ①②③ B. ②③④ C. ①②④ D. ①③④
17. 宁夏某市召开人大会议,讨论通过了关于经济社会发展的决议、决定。市政府对每一份决议、决定迅速贯彻落实,并以书面形式及时向市人大常委会报告。这表明()。
- ①市人大是市政府的执行机关 ②市政府是市人大的执行机关
③市政府要对市人大负责并报告工作 ④市政府必须依法行政
- A. ①②④ B. ①③④ C. ①②③ D. ②③④
18. 我国行政机关包括国务院(中央人民政府)和地方各级人民政府。我国各级行政机关的职权有()。
- ①依法维护社会治安,维护社会稳定 ②进行市场监管,确保食品和药品安全
③监督本级国家权力机关的工作 ④根据本地经济发展水平,不断提高社会保障服务水平
- A. ①②④ B. ①③④ C. ①②③ D. ②③④
19. 行政机关是依据宪法设立的,依法行使国家行政职权,组织和管理国家行政事务的国家机关。行政机关必须依法行政,这就要求各级政府及其工作人员()。
- ①坚决纠正不作为、乱作为,坚决克服懒政、怠政 ②必须严格依法行使行政权力
③坚持法定职责必须为,法无授权不可为 ④必须科学立法、严格执法、公正司法
- A. ①②③ B. ②③④ C. ①③④ D. ①②④
20. 我国宪法规定:公民对于任何国家机关和国家工作人员,有提出批评和建议的权利;对于任何国家机关和国家工作人员的违法失职行为,有向有关国家机关提出申诉、控告或者检举的权利。这一规定()。
- ①影响了国家机关及其工作人员的依法行政
②有利于加强对行政权的监督和制约
③能更好地防止国家机关工作人员履职不力、监管缺失、徇私枉法
④有利于建设法治政府,推进依法治国
- A. ①②④ B. ①③④ C. ①②③ D. ②③④
21. 某部门一名工作人员涉嫌违法犯罪交由司法机关处理期间,该部门领导以单位的名义,开具此人工作业绩突出的证明,建议法院从轻处罚。对于这一建议,法院应该()。
- A. 采纳,因为公民平等地享有建议权 B. 不采纳,因为法院不受该部门管辖
C. 采纳,因为法院和该部门都是国家机关 D. 不采纳,因为法院应独立行使审判权
22. 十余位当事人代表将两面写有“怀爱民之心,判利民之案”“人民法院为人民,秉公执法树形象”的锦旗送到河南省南阳市七里园法庭法官手中。据你推测,这可能是因为七里园法庭法官()。
- ①勇于负责、敢于担当,依法行政,坚决克服懒政、怠政
②公正执法、对公民权利提供有效救济和保障,捍卫社会公平正义



③坚持以事实为根据、以法律为准绳,依法独立公正行使审判权

④公正行使法律监督权,保护公民的合法权益,维护司法的公正

A. ①②

B. ③④

C. ②④

D. ②③

23. 宁夏某地人民检察院分别就本地乡镇级政府违法倾倒垃圾污染环境行为,向人民法院提起行政公益诉讼。对此,下列观点错误的是()。

A. 人民检察院是国家的法律监督机关,和国家行政机关是监督与被监督的关系

B. 人民检察院有权对国家机关及其工作人员的违法行为实行监督

C. 行政公益诉讼有利于促进国家行政机关依法正确履职,积极作为

D. 人民检察院依法独立行使检察权,不受行政机关、社会团体和个人的干涉

二、亮出我的观点

1. 国有经济是生产资料和劳动产品归全体公民共同所有的公有制经济。

判断:

我的观点:

2. 维护民族团结、反对民族分裂主要是国家的事,与我们中学生无关。

判断:

我的观点:

3. 作为人大代表,不管在什么情况下,都应该投赞成票。

判断:

我的观点:

4. 人民代表大会制度和基层民主制度在我国政治制度体系中具有平等的地位。

判断:

我的观点:

5. 全国人民代表大会和地方各级人民代表大会是人民行使国家权力的机关,所以不需要坚持党的领导。

判断:

我的观点:

6. 中国特色社会主义政党制度,即中国共产党领导的多党合作和政治协商制度,是我国的根本政治制度。

判断:

我的观点:

7. 村(居)民委员会是我国最基层的国家权力机关,村(居)民委员会成员由村(居)民直接选举产生。

判断:

我的观点:

综合拓展

一、各抒己见

1. 在学完国家行政机关这一课后,三位同学就行政机关如何行使职权的问题展开了讨论。

同学甲:行政机关到底有哪些职权,要看宪法和法律是怎么规定的,宪法和法律没有规定的权力,行政机



关不能行使。

同学乙:即使法律对行政机关行使职权程序做出了明确规定,行政机关只要做到实体上合法,就不构成违法行为。

同学丙:如果法律对行政机关行使职权的期限做出规定,行政机关就必须在法定期限内完成,否则也是违法的。

我的观点是:

二、填表题

1. 结合自己在生活中的观察,写出下列经济实体所属的经济成分。

经济实体	所属经济成分
A. 张大爷自己开的杂货铺	
B. 中国航天工业	
C. 小明爸爸投资创办的服装厂	
D. 红星村办的饲料加工厂	


2. 上述经济实体中哪些属于公有制经济? 分别说出它们的作用。

三、漫画分析

1. 结合所学知识分析右侧漫画中我国对小微企业采取什么样的态度? 为什么要持这样的态度?



2. 观察漫画,这是指我国的哪一基本政治制度? 我国为什么要坚持这项基本政治制度?



3. 观察漫画,回答问题。

(1)材料中的两幅漫画共同说明我国实行哪一项基本政治制度?请结合漫画解释这项制度。



(2)实行这一制度有什么重要意义?

4. 材料一:公民犯罪,是污染河流;司法机关违法,是在污染水源。

材料二:观察漫画。

(1)我国的司法机关有哪些?



(2)为什么说“司法机关违法,是在污染水源”?

(3)就材料二中的漫画,请你谈谈如何做到公正司法?

四、材料分析

1. 由宁夏非公有制经济服务局、自治区工商联宁夏西部研究与发展促进会联合编撰的《宁夏非公有制经济年鉴》一书在宁夏回族自治区银川市正式出版发行。近年来,宁夏非公有制经济得到了蓬勃发展,数据显示,全区非公企业为经济社会发展贡献了近 50%的经济总量,60%的固定资产投资,70%的财税收入和科技创新,80%的劳动就业,占据 90%以上的市场主体份额,成为全区经济社会发展的重要支撑力量。结合材料,说明我区为什么鼓励、支持和引导非公有制经济的发展,激发非公有制经济活力和创造力?



2.

关注家乡话发展

宁夏回族自治区成立 60 周年以来,我们全面准确贯彻党的民族政策,坚持和完善民族区域自治制度,巩固发展新型的社会主义民族关系,落实新发展理念,各族群众手足相亲、守望相助,实现综合实力新跨越。全年地区生产总值 3453.9 亿元,增长 7.8%;城镇和农村居民人均可支配收入分别为 29472 元、10738 元,增长 8.5%、9%;聚焦精准扶贫,脱贫攻坚成效明显,又有 19.3 万人脱贫;持续改善民生,将 70% 以上财力用于民生事业,实施居民收入增长计划。人民群众获得感、幸福感、安全感明显增强,为与全国同步建成全面小康社会奠定了坚实的基础。

结合宁夏取得的成绩,谈谈民族区域自治制度的优越性。(至少写出两点)

3. 2017 年 6 月 13 日,民政部副部长顾朝曦表示,要坚决将“村霸”和宗族恶势力排除在村委会成员候选人之外。此外,民政部将进一步引导加强村委会规范化建设,引导农村居民参与社区公共事务和公益事业管理,凝聚农村社区治理“正能量”。

(1)村委会是什么性质的组织?民政部为什么要这样做?

(2)加强村委会规范化建设,坚决反对“村霸”和宗族恶势力,我们青少年应怎样做?

4. 十三届全国人大二次会议于 2019 年 3 月 5 日—15 日在京召开,来自全国的人大代表们审议了政府工作报告、全国人民代表大会常务委员会工作报告、最高人民法院工作报告以及最高人民检察院工作报告。通过无记名投票方式,表决通过外商投资法草案,2018 年国民经济和社会发展计划执行情况与 2019 年国民经济和社会发展计划的决议草案,确认全国人民代表大会常务委员会接受张荣顺辞去第十三届全国人民代表大会常务委员会委员职务的请求的决定草案。

(1)结合材料说说人民代表大会有哪些职权?

(2)国务院、最高人民法院、最高人民检察院为什么要向全国人大报告工作?



(3)请用图示标明国家权力机关与各级国家机关的关系。

5. 古人言:“天下之事,不难于立法,而难于法之必行。”建设法治政府的一个关键环节就是依法行政。依法行政也是法治政府建设成败的重要指标。近年来,宁夏回族自治区人民政府以全面落实中共中央国务院印发的《法治政府建设实施纲要(2015—2020)》为主线,科学谋划,总体部署,全力推进法治政府建设,各级行政机关锐意改革,大胆创新,勇于探索,将权力关进制度的笼子,行政执法行为进一步规范,执法水平不断提高。

(1)宁夏回族自治区人民政府属于何种国家机关?

(2)建设法治政府为什么要将权力关进制度的笼子?

(3)结合材料说说作为政府应如何依法行政?

探究创新

1. 材料一:从2016年开始,新一轮全国县乡两级人大换届选举陆续展开。党中央高度重视这次换届选举。习近平总书记多次作出重要指示,要求确保选举工作风清气正、选举结果人民满意。县乡两级人大要深入贯彻《中共全国人大常委会党组关于加强县乡人大工作和建设的若干意见》精神,适应新形势新任务新要求,积极依法探索,完善工作机制,创新方式方法,做到依法行使职权更加到位。

材料二:民主不是装饰品,不是用来做摆设的,而是要用来解决人民要解决的问题……协商就要真协商,真协商就要协商于决策之前和决策之中,从制度上保障协商成果落地,使决策和工作更好地顺乎民意、合乎实际。
——习近平

(1)材料一中“新一轮全国县乡两级人大换届选举陆续展开”体现了我国的哪一政治制度?我们应该如何坚持和完善这一政治制度?

(2)“人大要做到依法行使职权更加到位”,那么人大主要有哪些职权?



(3)材料二体现了我国的哪一基本政治制度?

(4)结合材料二说明习近平为什么要强调“真协商”?

2. 材料一:党的十九大报告强调,建设法治政府,推进依法行政严格规范公正文明执法。行政机关必须全心全意为人民服务,切实做到有权必有责,用权受监督,权责要对等,失责要追究,侵权要赔偿。

材料二:在现实生活中,有个别领导或国家机关工作人员向他人“吃、拿、卡、要”,严重损毁了党的形象,违背了依法治国的宗旨;但是,大部分国家机关工作人员都能做到清正廉洁,面对金钱、美色等诱惑,坚决说不,遵法守法,依法行政。

(1)结合材料说说我国行政机关依法行政的具体要求。

(2)请你为建设依法行政的法治政府提一些合理化建议。(提示:从国家,社会,政府及工作人员、公民四个方面。)

3. 党中央、国务院高度重视清理规范涉企收费、减轻企业负担工作。李克强总理多次强调,大力清理和规范涉企收费,优化实体经济发展环境。各地区、各部门按照党中央、国务院决策部署,在清理规范涉企收费方面做了大量工作。本届政府成立以来,中央设立的行政事业性收费由185项减少到51项,其中涉企收费由106项减少到33项,政府性基金由30项减少到21项。

(1)请你就国务院在我国国家机构体系中的性质和地位发表评论。

(2)材料中“国务院高度重视清理规范涉企收费、减轻企业负担工作”说明我国国家行政机关的职责是什么?



(3)你认为国家行政机关在行使国家行政职权时应注意哪些问题?

4. 农民工张某在水泥厂打工已经5年了。为了多赚点钱,在粉尘弥漫的车间,他加班加点。今年4月,张某感觉到胸闷气短,到医院检查,医生诊断为尘肺病并被市劳动能力鉴定委员会鉴定为伤残四级。他找到老板,恳请住院治疗并支付工伤保险待遇。一听要花一大笔钱,老板发火了:“厂子都快要倒闭了,哪还有钱给你治病!”他要求将工钱结清,老板也只给了一部分,说剩下的等企业盈利后再补。后来,张某将水泥厂诉至法院。法院经审理后,判决水泥厂一次性支付张某被拖欠工资、伤残补助金及工伤保险待遇共计41.67万元。

(1)农民工张某的哪些合法权利被侵害了?

(2)他是如何依照法定程序维护自己的合法权利的?

(3)结合本案,说说人民法院是怎样行使职权的?

第四单元 崇尚法治精神

基础训练

一、快乐四选一

1. 市民王某利用自己的“博客”发布了一条“某地十多人患禽流感死亡”的虚假信息,被多人转发,引起了一定的恐慌。发帖者王某因涉嫌编造、故意传播虚假恐怖信息被当地公安机关刑事拘留。对此,下列说法正确的是()。

- ①公民有言论自由,不受限制
②违反法律可能付出失去自由的代价
③在网络这个虚拟空间发表言论纯属个人私事
④自由是法律之内的自由
- A. ①② B. ②④ C. ③④ D. ②③

2. “过度的自由实际上是在提倡野蛮。”下列对这句话的理解正确的是()。

- ①自由不是为所欲为,它是有限制的、相对的
②无限制的自由只会走向自由的反面,导致混乱与伤害



- ③自由主要指人们在法律规定的范围内,依照自己意志活动的权利
④拥有自由能增强个人的幸福感,推动社会的进步与繁荣
- A. ①②③ B. ②③④ C. ①②④ D. ①③④
3. 珍视自由,必须依法行使权利。作为公民,应()。
- ①自觉遵守 ②遇事找法 ③解决问题靠法 ④树立守法光荣、违法可耻的法治意识
- A. ①②③ B. ②③④ C. ①②④ D. ①②③④
4. “尊重每一个人的权利,维护每一个人的尊严,哪怕他(她)有罪有错,这是基本的法治理念,也是文明社会的底线”。对此理解正确的是()。
- ①必须坚持权利与义务相统一的原则 ②任何公民的合法权利都应受到保护
③人格尊严是公民最基本的政治权利 ④必须坚持公民在法律面前人人平等的原则
- A. ①② B. ①③ C. ③④ D. ②④
5. 党和政府提出要“努力使全体人民学有所教、老有所得、病有所医、老有所养、住有所居”。这体现了党和政府()。
- ①实行平均分配 ②维护社会公平 ③坚持以人为本 ④促进社会和谐
- A. ①②③ B. ①③④ C. ①②④ D. ②③④
6. 小丽放学回家时,看见一歹徒骑摩托车抢劫。小丽立即报案,并向公安机关提供了歹徒的相貌特征、车牌号和歹徒的去向。公安部门根据小丽提供的线索,很快抓住了犯罪嫌疑人。小丽的行为表明()。
- ①期盼正义、实现正义、维护正义,是我们的共同心声
②青少年必须奋不顾身地同违法犯罪行为作斗争
③小丽是一个有正义感的人
④我们未成年人,既要有见义勇为的精神,又要做到见义智为,维护正义
- A. ①②③ B. ②③④ C. ①③④ D. ①②④
7. 下列做法属于非正义的行为的有()。
- ①诚信考试不作弊 ②乘车购物不排队
③以大欺小,恃强凌弱 ④哥们儿义气,两肋插刀
- A. ①②③ B. ①②④ C. ①③④ D. ②③④
8. 确保到 2020 年我国现行标准下农村贫困人口实现脱贫,贫困县全部摘帽,解决区域性整体贫困,做到脱真贫,真脱贫。让贫困人口和贫困地区同全国一道进入全面小康社会是我们党的庄严承诺。材料体现了()。
- ①中国共产党致力促进社会公平正义 ②共享是中国特色社会主义的本质要求
③共同富裕是中国特色社会主义的根本原则 ④2020 年将建成社会主义现代化强国
- A. ①② B. ③④ C. ②④ D. ①③
9. 李某在微博上公然侮辱英雄烈士,面对网友“这事犯法”的善意提醒,李某回应“我就是看看我发这个话会不会被抓,把我抓了就说明公民没有言论自由”。帖子一经发出,立即引起全民激愤,随后当地警方依法对李某进行行政拘留 10 日并罚款 500 元。该事件中()。
- ①李某未在法律允许的范围内行使言论自由权
②善意提醒李某的网友履行了维护国家安全的义务



③警方对李某处罚维护了英烈的姓名权

④李某做出法律所禁止的事情必然要承担相应的责任

A. ①② B. ③④ C. ①④ D. ②③

10. 2019 年我国义务教育免试就近入学继续推进,19 个热点大城市“幼升小”就近入学率达到 99%，“小升初”就近入学率达到了 97%。下列名言中能体现这一材料观点的是()。

A. 顾炎武:天下兴亡,匹夫有责 B. 范仲淹:先天下之忧而忧,后天下之乐而乐

C. 孔子:不患寡而患不均 D. 庄子:吾生也有涯,而知也无涯

11. 一场大雨给干燥的银川带来了湿润,一位母亲推着婴儿车,没有携带任何雨具,途经的外卖小哥苏伟看到这种情况,脱下了自己的雨衣,盖在了婴儿车上,并护送母女过马路。这一过程被网友拍上传到了网上,一时间图片刷爆朋友圈,网民纷纷赞其为“银川最暖心的外卖小哥”。苏伟的行为()。

①彰显了正义的力量 ②实现了既定的人生目标

③促进了社会和谐 ④体现了社会的文明进步

A. ①②③ B. ①②④ C. ①③④ D. ②③④

12. 新修订的《刑法修正案》规定:在法律规定的国家考试中组织作弊的,将视情节轻重给予刑罚处罚。该项规定()。

①有利于维护考试公平,促进教育公平 ②有利于加强社会诚信体系建设

③是对作弊的处罚有法可依,有利于促进社会主义法律体系建设 ④能够杜绝考试中的作弊行为

A. ①②③ B. ①②④ C. ①③④ D. ②③④

13. “法律如果推不开特权的门,也一定跨不进人民的心。”对这一观点理解正确的是()。

①公民在宪法和法律面前一律平等 ②特权会践踏法律的尊严,削弱法律的权威

③平等是特权的大敌 ④消除特权就可以完全发挥法律的作用

A. ①② B. ③④ C. ②④ D. ②③

14. “吃糖的是穷人,尿糖的是富人;种稻的是穷人,种草的是富人;养猪的是穷人,养狗的是富人。”下列对这句话理解正确的是()。

①我国社会依然存在不平等的现象 ②体现了人们对社会财富平均化的追求

③反映了现在人们都缺乏平等的意识 ④说明实现平等的理想任重而道远

A. ①② B. ②③ C. ①④ D. ③④

15. 身份证异地办理、公民公积金联通、开单位发票须填“税号”……2017 年 7 月 1 日开始实施的这些新规()。

①是以正义的制度维护社会公平 ②有利于保障人民群众的生命和财产安全

③能杜绝非正义行为的发生 ④有利于促进社会健康、持续发展

A. ①②③ B. ①③④ C. ②③④ D. ①②④

16. 古今中外,公平一直是人们追求的目标,维护公平我们要()。

①从身边的小事做起,对不公平的事情说“不” ②理智地面对生活中的不公平现象

③反对对自己不公平的对待,同时也要公平地对待别人 ④用合法手段谋求绝对公平

A. ①②③ B. ①②④ C. ①③④ D. ②③④



17. 右侧漫画中的国家助学金制度()。

- A. 有利于实现教育公平
- B. 一定能帮助贫困学生实现梦想
- C. 有利于解决困难学生的一切问题
- D. 没有针对全体学生,是不公平的



建立国家助学金制度

二、亮出我的观点

1. 自由就是指人们依照自己意志活动的权利,而法治标定了自由的界限,必然使人们的自由和权利受到干涉与损害。

判断:

我的观点:

2. 平等是人类的崇高理想,是社会发展的永恒主题,平等要求任何情况下都要做到平等对待每一个人。

判断:

我的观点:

3. 法律面前人人平等意味着必须平等地履行宪法和法律规定的各项义务,却不能保证平等地享有宪法和法律规定的各项权利。

判断:

我的观点:

4. 人与人之间在家境、身体、智能等方面存在差异,因此,人与人在人格和法律地位上是不平等的。

判断:

我的观点:

5. 要成为有正义感的人,只要有规则意识就足够了。

判断:

我的观点:

6. 维护公平能解决我国社会所有矛盾和现实生活中的所有问题。

判断:

我的观点:

7. 无论现实世界还是网络空间,自由都是法律之内的自由。

判断:

我的观点:

8. 如果人们违反了法律,普通人就会受到法律的制裁,但对社会有重大贡献的人可以除外。

判断:

我的观点:

9. 维护公平正义是政府的事,与未成年人无关。

判断:

我的观点:



10. 理智看待不公平,追求公平要努力。公平正义难实现,不用追求与维护。

判断:

我的观点:

综合拓展

一、各抒己见

1. 罗曼·罗兰说:“自由向来是一切财富中最昂贵的财富。”关于此话题,三位同学发表了他们的看法。

小蕊:自由就是想说什么就说什么,想干什么就干什么。

大海:自由应该是完全自己做主,但现实生活中怎么有那么多规范和限制呢?

阿梅:自由就是做法律不禁止的所有事的权利。

我的观点是:

2. 中学生小林热衷网购,而且尤其喜欢“名牌”。在“双十一”当天狂购,花费千余元,结果所购某知名品牌运动鞋竟是冒牌货。对此,同学们议论纷纷,观点如下:

小华:中学生本应勤俭节约,这样的结果只能怨自己,就当花钱买个教训吧。

小桃:向有关部门举报该商家的售假行为,为自己讨还公道。

小格:赶快借助网络对该商家的售假行为大肆渲染,让商家自尝苦果。

我的观点是:

3. 在课堂上,同学们针对“平等”问题发表了不同的看法。

甲:随着社会的发展,平等观念已经深入人心,现实生活中不存在差异和不平等。

乙:每个人由于家世、机遇、权力、财产等方面的不同,根本不可能达到平等,所以人生来就是不平等的。

丙:尽管现实生活中存在差异和不平等,但我们在人格上都是平等的,我们努力追求平等。

我的观点是:

二、漫画分析

1. 观察右侧漫画说明了什么?



2. 右侧漫画中的“领导专用酒”讥讽了哪种思想？对此,你是怎样认识的？




3. 观察右侧漫画说明了什么？



4. 右侧漫画反映了什么样的问题？请你谈谈这样做的好处。



5. 从公平角度分析右侧漫画中这类现象有什么危害？




刷出来的荣誉

6. 结合所学内容,请你针对右侧漫画中的措施谈谈你的认识。



7. 观察漫画,这真的是在择优录取吗?



择优录取

三、案例分析

1. 12岁男童郭某失踪,网民高度关注,警方高度重视,全力查找失踪的郭某。9月22日13时50许,接群众报警:失踪的郭某已经找到,人已死亡。警方迅速调查,锁定并抓获嫌疑人郭某某。经查,9月19日3时许,郭某某因琐事将男童郭某从桥上摔下,导致郭某死亡。

在警方调查期间,“某微吧”中一篇“失踪儿童找到已遇害,器官都被挖走了”的帖文引起网友关注,迅速在微信朋友圈、微信群里传播、转发。

(1)结合案例,谈谈你对自由的理解。

(2)依据所学内容,说说这篇帖文会带来哪些社会影响?它的发布者应不应该承担相应的责任?为什么?

(3)结合案例内容,说说自由和法治的关系。

2. 材料一:中学生小芳利用假期和同学外出旅游。在景点,她大声喧哗,并攀爬到一座雕塑上拍照。同学们批评她的不文明行为,她却说:“享受美景是我的自由,我想怎么享受就怎么享受。”

材料二:两人合伙承包工程发生纠纷,撤资协商不成,却用暴力拘禁他人强签字,权利维护之路变为犯罪之路。2018年5月15日,宁夏某市人民法院对这起以暴力强迫结算非法拘禁案进行了公开宣判,以非法拘禁罪判处被告人王某、金某有期徒刑六个月,判处杨某有期徒刑六个月,缓刑一年。

(1)根据材料一,请你告诉小芳应怎样“享受”自由?



(2)材料二中“权利维护之路变为犯罪之路”,给了我们什么启示?

3. 在单位组织的事业编制招聘体检中,阿明被检测出 HIV 抗体阳性,成为一个艾滋病病毒感染者。往后的日子里,这几乎成了他唯一的身份。他因此被单位要求“离岗休息”。无奈之余,阿明把所在单位告上法院。市中级人民法院对备受关注的广东省首例“艾滋病就业歧视案”进行了二审开庭审理,并当庭宣判。法院确认用人单位要求 HIV 抗体阳性职工离岗休息的决定违法,认定用人单位拒绝续签劳动合同违法。这例“艾滋病就业歧视案”,是国内第一起用人单位以劳动者感染艾滋病病毒为由侵犯劳动者权益败诉的案件。

(1)阿明被单位要求“离岗休息”是一种什么现象?有哪些危害?

(2)法院当庭宣判阿明胜诉说明了什么?我们应该怎样做?

探究创新

1. 材料一:曾在书上读过这样一段对话——车轮问方向盘:“为什么你总是约束我的自由?”方向盘回答:“你若是被给予过多的自由,那么定会走到邪路上。”由此可见,约束很重要,自由需克制。约束是限制,却并不是囚禁,它只是为了防止我们过度自由,同时也是促进我们严谨、成功的苦口良药。

材料二:风筝很自由,可以翱翔于天地之间。风筝身上连着一根线,使得风筝在线轴的牵引下平稳地飞翔,不至于飞走。可是,当这根线拉得太紧时,风筝就会像没头苍蝇一样,失去它原有的美好风姿,完全没有了线的牵引,失去平衡的风筝会很快从天上掉下来。

(1)你对材料一中“约束很重要,自由需克制”是怎样认识的?

(2)材料二中“当线拉得太紧时,风筝就会失去它原有的美好风姿”说明了什么?为什么?



(3)你认为现实生活中“牵引”人们的最重要的那根“线”应该是什么?你的依据是什么?

(4)结合上述两则材料,请你谈谈法治和自由的关系。

2. 材料一:根据《国务院关于深化考试招生制度改革的实施意见》和《教育部国家民委 公安部 国家体育总局 中国科学技术协会关于进一步减少和规范高考加分项目和分值的意见》要求,我区制定了《关于调整和规范普通高考录取政策的方案》,从2019年秋季入学的高一新生开始,目前执行的“回族考生报考普通高校的,可在其文化课总分基础上增加20分投档”调整为“全区少数民族考生报考区外普通高校的,可在其统考成绩总分的基础上增加10分投档”。

材料二:我国宪法明确规定:中华人民共和国公民在法律面前人人平等。

(1)材料一中的高考优惠加分政策对全体考生平等吗?为什么?

(2)有人说:“既然提倡平等,那么就应坚持任何情况下都‘无差别对待’。”你赞同这种观点吗?请简要说明理由。

(3)从平等角度看,材料一中文化课总分加分分值的变化说明了什么道理?

(4)公民在法律面前人人平等主要体现在哪些方面?

3. 材料一:《中华人民共和国民法总则》开篇即提出了平等这一现代社会核心价值,民法典的平等原则得到真正落地,一直是全民的关切。譬如,在国家的改革路线图中,取消各类“二政府”的特殊地位,使之成为平等的民事主体,早已是基本共识。

材料二:近几年来,快递员刚蹭轿车被扇耳光;保安劝离遛狗男子被打骨折……稍有冲突,就骂脏话、扇耳光、殴打人。这些“不光彩”的背后,感觉总有些让人不寒而栗的自我“高大上”居高临下式的“歧视”和“鄙夷”。



(1)材料一中为什么说“民法总则开篇即提出了平等这一现代社会核心价值”?

(2)材料一中各类“二政府”的特殊地位的实质是什么?你对此是怎样认识的?

(3)请你为材料二中的这些自我“高大上”者提几条忠告。

4. 材料一:不得以性别为由拒绝录用妇女或者提高妇女的录用标准;应当依法对少数民族劳动者给予适当照顾;不得歧视残疾人;不得以是传染病病原携带者为由拒绝录用。

——摘自《中华人民共和国就业促进法》

材料二:继 2018 年取得重大的反腐成果后,2019 年的反腐脚步并没有停止。中纪委国家监察委网站 7 月 23 日公布了 2019 年上半年的反腐“成绩单”:2019 年上半年,全国纪检监察机关共接受信访举报 160.9 万件次,立案 31.5 万件,处分 25.4 万人,包括省部级干部 20 人,厅局级干部 0.2 万人。

(1)材料一中《中华人民共和国就业促进法》的规定体现了社会主义核心价值观的哪一价值准则?你对这一价值准则是怎样认识的?

(2)材料一中“对少数民族劳动者给予适当照顾”体现了平等原则所包含的什么内涵?

(3)材料二中“立案处分省部级干部 20 人,厅局级干部 0.2 万人”体现了我国坚持怎样的社会主义法治的基本原则?怎样正确认识这一原则?

5. “努力让人民群众在每一个司法案件中都能感受到公平正义”,这是习近平总书记对全国政法机关提出的工作要求。公平正义,是人类社会共同的向往和追求,也是实现“中国梦”的保障。我们在追逐“中国梦”的道路上,最根本、最有效的办法,也是要实现社会的“公平正义”,“公平正义”理当成为撑起“中国梦”的重要基石。有权利公平,梦想才能起飞;有机会公平,奋斗才有动力;有规则公平,社会才能进步。



为了进一步理解公平正义的重要性,某校八年级(5)班决定开展以“公平正义 共筑中国梦”为话题的主题教育活动,请你参与完成下列任务。

(1)请你为本次活动设计两条宣传标语。

(2)请你列举生活中存在的不公平、不正义的现象。(至少两例)

(3)请你谈谈面对不公平、不正义现象,我们应该持什么态度?

(4)参加此次活动,你有哪些收获?

6. 2016年12月2日,最高人民法院第二巡回法庭改判聂树斌无罪。从21岁被执行死刑,到21年后被宣告无罪,河北省石家庄市下聂庄的聂树斌经历了两个21年。前21年,他以“胆小”“口吃”“沉默”的形象在农村成长;后21年,他在家人漫长的申诉后昭雪,成为一个符号化的人物,他的案子,检验并推动着当代中国的法治进程。

(1)请从司法维护正义的角度简要分析一下聂树斌改判无罪的法治意义。

(2)让更多的人认识到司法公正的重要性,某校时事宣传小组成员准备走进社区。该小组可以采取哪些方式宣传?(至少两种形式)



第三部分 认识国情 爱我中华

课程标准

课程内容	活动建议
<p>1. 知道我国的人口、资源、环境等状况,了解计划生育、保护环境、合理利用资源政策,形成可持续发展的意识。</p> <p>2. 知道我国是一个统一的多民族国家,各民族人民平等互助、团结合作、艰苦创业、共同发展。</p> <p>3. 了解我国在科技、教育发展方面的现状,理解实施科教兴国战略的现实意义,认识科技创新的必要性,努力提高自身素质。</p> <p>4. 了解全面建设小康社会的奋斗目标。知道促进城乡、区域协调发展是实现全面建设小康社会奋斗目标的一项重要要求。</p> <p>5. 知道中国特色社会主义理论体系。了解我国现阶段基本经济制度和政治制度,知道我国各民族人民的共同理想。</p> <p>6. 学习和了解中华优秀传统文化,增强与世界文明交流、对话的意识。</p> <p>7. 了解文化的多样性和丰富性,尊重不同的文化和习俗,以平等的态度与其他民族和国家的人民友好交往。</p> <p>8. 了解当今世界发展趋势,知道我国在世界格局中的地位、作用和面临的机遇与挑战,增强忧患意识。</p> <p>9. 认识树立全球观念的重要性,增强为世界和平与发展做贡献的意识和愿望。</p>	<p>调查本地区存在的资源短缺问题,根据科学发展观的要求,通过讨论共同设计一个珍惜资源的宣传标语。</p> <p>搜集反映中华人民共和国成立特别是改革开放以来,社会生活中发生巨大变化的资料,讨论变化的原因,感受中国共产党是我们事业发展的领导核心。</p> <p>以世界地图为依托,开展“我在地图上旅行”的演讲活动,收集不同国家的自然风光、人文历史等素材,积极感受“和平进步、和谐发展、和睦相处、合作共赢、和美生活是全世界的共同理想”。</p>

基础训练

一、快乐四选一

1. 我国全面实施一对夫妇可生育两个孩子的政策()。

- ①表明我国不再坚持计划生育的基本国策
- ②有利于保持合理的劳动力规模,延缓人口老龄化速度,促进经济持续健康发展
- ③会导致人口自然增长率的急剧上升,使我国的人口问题更加严峻
- ④提升家庭抵御风险的能力,增强家庭养老照料功能,促进家庭幸福与社会和谐

A. ①② B. ①③ C. ②④ D. ②③



2. 我国积极推进海绵城市建设,使城市既有“面子”,又有“里子”。这()。
- ①有利于建设“两型”(资源节约型、环境友好型)社会 ②会对城市水循环产生不良影响
③符合绿色发展道路的基本要求 ④是城市可持续发展的积极尝试
- A. ①②③ B. ①②④ C. ①③④ D. ②③④
3. 按照规划,我国到 2020 年将超过 7 成的保障房执行绿色建筑标准,从“有其屋”到“有好屋”。这种做法()。
- ①有利于我国保护环境,防止环境进一步恶化
②有利于节约建筑成本,增强全民的环保意识
③有利于绿色惠民实现绿色富国之梦
④能从根本上解决经济发展与生态环境保护之间的矛盾
- A. ①② B. ①④ C. ①③ D. ②③
4. 制定行业标准,杜绝过度包装;研发新型材料,推广绿色包装;垃圾分类处理,集中回收利用等让快递“瘦身”,减少快递包装带来的海量垃圾的举措()。
- ①是破解我国资源、环境难题的唯一途径
②与绿色发展理念、节约资源、保护环境的基本国策相符
③符合构建“两型”社会的要求,有利于营造建设生态文明的社会氛围
④有利于引导企业、公民树立尊重、顺应、保护自然的生态文明理念,推动生产方式、生活方式绿色化
- A. ①②③ B. ①②④ C. ①③④ D. ②③④
5. 下列古语能体现寻求人与自然和谐共生理念的是()。
- ①玉不琢,不成器;人不学,不知道(《礼记·学记》) ②万物并育而不相害,道并行而不相悖(《中庸》)
③学而不思则罔,思而不学则殆(《论语》) ④人法地,地法天,天法道,道法自然(《道德经》)
- A. ①② B. ②③ C. ②④ D. ①③
6. 2019 年,我国持续推进污染防治。巩固扩大蓝天保卫战成果,全年二氧化硫、氮氧化物排放量要下降 3%,重点地区细颗粒物(PM2.5)浓度继续下降。持续开展京津冀及周边、长三角、汾渭平原大气污染治理攻坚,加强工业、燃煤、机动车三大污染源治理。强化水、土壤污染防治,今年化学需氧量、氨氮排放量下降 2%。这表明我国()。
- ①坚持走绿色发展道路,大力发展循环经济、低碳经济、绿色经济
②绿色发展呈现可喜局面
③建设中国特色的社会主义生态文明,促进人与自然和谐共生
④正向低产出、高消耗的经济发展方式转变
- A. ①②③ B. ②③④ C. ①②④ D. ①③④
7. 太阳能发电、新能源汽车、会发光的墙、会呼吸的房子、净化室内空气污染的竹装饰装修材料等新技术新材料的发展运用()。
- ①体现了走绿色、环保、低碳的发展之路
②能打造中国经济升级版,适应经济发展新常态
③体现了走生产发展、生活富裕、生态良好的文明发展道路



- ④表明了我国实施可持续发展战略,建成了“两型”社会
- ①②③ B. ①②④ C. ①③④ D. ②③④
8. 中国气象局于2019年4月2日发布的《2018年全国生态气象公报》指出,2000年至2018年全国植被生态质量出现三级跳,2018年达到最好。这受益于我国()。
- ①坚持保护环境基本国策 ②坚持把提升植被生态质量作为中心工作
- ③坚持走绿色发展道路 ④践行绿水青山就是金山银山的理念
- A. ①②③ B. ①③④ C. ②③④ D. ①②④
9. 我国评选表彰“中国生态文明奖”,重点奖励一线和基层对生态文明建设实践、理论与宣传教育做出重大贡献的集体及个人。这()。
- ①是破解我国资源、环境难题的唯一途径
- ②与可持续发展战略、节约资源、保护环境的基本国策相符
- ③符合构建“两型”社会的要求,有利于营造建设生态文明的社会氛围
- ④有利于引导企业、公民树立尊重、顺应、保护自然的生态文明理念,推动生产方式、生活方式绿色化
- A. ①②③ B. ①②④ C. ①③④ D. ②③④
10. “五十六个星座五十六枝花,五十六族兄弟姐妹是一家,五十六种语言汇成一句话,爱我中华,爱我中华,爱我中华! ……”这首脍炙人口的歌曲()。
- ①反映出我国是一个统一的多民族国家
- ②表明我国各民族都是中华大家庭中的一员
- ③道出了我国各族人民实现个人梦想的心声
- ④唱出了我国各族人民唇齿相依的血脉之情
- A. ①②③ B. ①②④ C. ②③④ D. ①③④
11. 近年来,国家不断加强对新疆、西藏等少数民族地区的扶贫工作。实施精准扶贫,精准脱贫,提高扶贫实效。这样做的经济意义是()。
- A. 巩固统一的多民族国家,维护国家安全
- B. 增进民生福祉,让人民共享改革发展成果
- C. 促进少数民族地区的经济发展,实现同步富裕
- D. 促进民族团结,改革和完善民族区域自治制度
12. 维护国家安全是每一个公民应尽的义务,也是青少年热爱祖国的具体表现。下列行为能体现这一认识的是()。
- ①发现可疑情况立即报告 ②将国家秘密发布在微博、微信上
- ③参加国防与安全意识教育活动 ④为安全机关执行任务提供便利
- A. ①②③ B. ②③④ C. ①②④ D. ①③④
13. 国庆长假,小张和父母去了澳门旅游,见识了澳门经济、科技、人文等各个领域的发展。小张在朋友圈写下了如下感叹,你认为正确的是()。
- A. 澳门的繁荣发展体现了社会主义的优越性 B. 祖国完全统一指日可待
- C. “一国两制”基本方针具有强大的生命力 D. 澳门与内地没有差距



14. 习近平总书记在《告台湾同胞书》发表 40 周年纪念会上的讲话中指出：“两岸同胞都是中国人，血浓于水、守望相助的天然情感和民族认同，是任何人任何势力都无法改变的！”下列表述与此意思相符的是()。
- ①两岸同胞同根同源、同文同种，是命运与共的骨肉兄弟
②两岸人民一家亲，血浓于水
③民族团结是两岸关系和平发展的政治基础
④坚持一个中国原则是对台的基本方针
- A. ①② B. ②③ C. ③④ D. ①④
15. 在党中央“治国必治边，治边先稳藏”重要战略思想指引下，2018 年，西藏实现地区生产总值 1477.63 亿元，同比增长 9.1%，增速位居全国第一；边境小康示范村的建设，让雪域边陲更加美丽，见证着国境线的安宁祥和；“藏医药浴法”的入遗，更多藏族传统文化的传播，造福着越来越多的国人；环保力度的加大，生态文明建设，建构着生态安全的重要屏障……上述材料说明()。
- ①党和国家重视西藏的稳定和发展 ②西藏经济发展总体水平全国第一
③新时代西藏自治区得到全面发展 ④西藏的发展关系着国家整体利益
- A. ①②④ B. ①③④ C. ①②③ D. ②③④
16. 在京张高铁、京雄城际等高铁建设中，云计算、大数据、北斗定位、下一代移动通信、人工智能等高科技正发挥更大的作用，实现高铁智能建设、智能装备、智能运营技术水平的全面提升。这表明()。
- ①科技发展日新月异 ②科技创新改变生活
③互联网应用日益广泛 ④我国实现了区域协调发展
- A. ①②③ B. ①②④ C. ①③④ D. ②③④
17. 调查显示，我国 2018 年具备科学素质的公众比例达到了 8.47%，比 2015 年第九次调查提高了 2.27 个百分点。根据《“十三五”国家科技创新规划》，我国科技创新的发展目标之一是，到 2020 年，我国公民具备科学素质的比例超过 10%。为实现这一目标，我国应该()。
- ①推进科技创新和教育创新 ②加快科普基础设施建设
③把提高公民科学素质作为工作中心 ④提高科普服务能力，开展科普交流活动
- A. ①②③ B. ②③④ C. ①②④ D. ①③④
18. 作为有影响力的科技公司，华为在全球拥有 26 个研发能力中心，6000 多名基础研究专家，每年在科研上的投入逾千亿元。截至 2019 年 4 月，华为的 5G 专利数量位居全球第一。华为的一个重要观念是，要实现工业强大必须重视人才，而人才成长的起点在基础教育。对此，你认为()。
- A. 华为重视科技研发，坚持创新驱动发展
B. 对基础教育的重视是华为取得成功的关键因素
C. 重视知识、重视人才能帮助华为解决所有发展问题
D. 华为的 5G 专利全球第一，科技水平全面超越发达国家
19. “刷脸”检票进站、手机自助点餐、测一下识别脉象并辅助治疗、机器人从容接待嘉宾、网上政务办理……近年来，我国 AI(人工智能)和“互联网+”快速发展。这()。
- ①说明生活的各个领域都可以创新 ②展现出我国科技强国的大国风范



③有助于改善社会管理和民生服务 ④让我们的生活因创新变得更便捷

A. ①②④ B. ②③④ C. ①②③ D. ①③④

20. “只有一流的教育,才有一流的人才,才能建设一流的国家。”表明()。

①教育的根本任务是培养尖端人才 ②教育创新是大众创业和万众创新的基础

③教育水平的高低决定着人才培养的数量和质量 ④教育的发展与国家发展息息相关

A. ①②③ B. ②③④ C. ①②④ D. ①③④

21. 农村贫困人口减少 1386 万,易地扶贫搬迁 280 万人,资助各类学校家庭困难学生近 1 亿人次……这是 2018 年中国政府发放的“民生红包”。这些举措()。

A. 能够迅速提高全体人民的生活水平 B. 说明全面建成小康社会的目标已经实现

C. 有利于人民共享改革发展成果 D. 表明我国已经消除了人们的收入差距

22. 2019 年 4 月 15 日,中共中央总书记、国家主席习近平在重庆石柱土家族自治县中益乡华溪村看望马培清一家时说道:“幸福是奋斗出来的”“党的政策对老百姓好,才是真正的好”“小康不小康,关键看老乡,关键看脱贫攻坚工作做得怎么样”“看到大家不愁吃、不愁穿,教育、医疗、住房安全越来越有保障,心里感到很托底。”从习总书记亲切的话语中,我们感受到()。

A. 党和国家坚持以人民为中心的发展思想

B. 只要党的政策好,就能实现社会协调发展

C. 解决了不愁吃、不愁穿,就实现了全面小康

D. 党和国家带领各族人民艰苦奋斗,实现同步发展

23. 在全面小康建设过程中,以下做法符合创新、协调、绿色、开放、共享发展理念的有()。

①培养多种技能的新型职业农民

②实施区域协调发展战略,促进东中西部协同发展

③围湖造田、毁林开荒

④2019 年实施个税新政,让很多居民可享受子女教育、住户贷款、赡养老人等共计 4000 多元的专项附加扣除

A. ①②③ B. ①②④ C. ②③④ D. ①③④

24. 下列做法与全面建成小康社会目标不一致的是()。

A. 全面推进“互联网+”,运用新技术新模式改造传统产业;深入推进简政减税减费

B. 2020 年普通中小学取消各类特长生招生;开展校外培训机构专项治理行动;下大力气给教师减负

C. 从国外引进重化工企业,进口“洋垃圾”

D. 最高人民法院、最高人民检察院和公安部联合印发《关于依法惩治妨害公共交通工具安全驾驶违法犯罪行为的指导意见》

25. 习近平指出,我们要着力解决人民群众所需所急所盼,让人民共享经济、政治、文化、社会、生态等各方面发展成果,有更多、更直接、更实在的获得感、幸福感、安全感,不断促进人的全面发展。这()。

①表明我国发展的根本目的就是增进民生福祉

②需要把实现绝对公平作为国家第一要务

③需要坚持中国特色社会主义道路



④表明人民对美好生活的向往就是党的奋斗目标

- A. ①②④ B. ②③④ C. ①②③ D. ①③④

26. 2018年,我国GDP达900309亿元,比上年增长6.6%,农业再获丰收。单位国内生产总值能耗下降3.1%。共建“一带一路”取得重要进展。货物进出口总额超过30万亿元,实际使用外资1383亿美元、稳居发展中国家首位。农村贫困人口减少1386万,易地扶贫搬迁280万人。“嫦娥四号”探测器成功发射,第二艘航母出海试航,国产大型水陆两栖飞机水上首飞,北斗导航向全球组网迈出坚实一步。

(1)上述材料表明我国()。

- ①社会事业发展人民生活改善 ②经济由高速增长转向高质量发展阶段
③城乡发展差距不大 ④已经超越社会主义初级阶段

- A. ①③ B. ①④ C. ②③ D. ①②

(2)材料中能反映出的成就原因有()。

- ①深化改革开放 ②走绿色发展道路
③实行全新的经济制度和政治制度 ④深入推进科教兴国、人才强国和创新驱动发展战略

- A. ①②④ B. ②③④ C. ①②③ D. ①③④

27. 40年来,我国国内生产总值占世界生产总值的比重由改革开放之初的1.8%上升到15.2%,多年来对世界经济增长贡献率超过30%。这说明改革开放是()。

- ①强国之路,富民之路 ②实现同等富裕的最佳选择
③引领发展的第一动力 ④决定当代中国命运的关键抉择

- A. ①② B. ②④ C. ②③ D. ①④

28. 《中共中央国务院关于支持河北雄安新区全面深化改革和扩大开放的指导意见》强调,鼓励开放型平台、“一带一路”建设相关国际合作平台优先在雄安新区布局,推动与相关国家和地区开展更加务实高效的合作。此类举措()。

- ①可构建广泛的利益共同体,展示我国在国际事务中的主导作用
②是对改革开放基本国策的贯彻落实
③顺应经济深度融入世界经济的趋势
④有力推动我国经济持续健康发展

- A. ①②③ B. ②③④ C. ①②④ D. ①③④

29. 截至2018年年底,全国共有农村低保对象3519.7万人,农村低保标准达到4833元/人/年;共有特困人员482.3万人,全年累计支出特困人员救助供养资金334.6亿元,这()。

- ①是对以人民为中心的发展思想的坚持 ②说明我国仍处于社会主义初级阶段
③是维护社会公平正义的有效举措 ④说明实现共同富裕是遥不可及的梦想

- A. ①②③ B. ②③④ C. ①②④ D. ①③④

30. 张某开了一家网店,专营中宁枸杞,自己既当老板又当店员,他向当地的工商部门申请登记时,网店的经济性质一栏应当填写()。

- A. 个体经济 B. 私营经济 C. 集体经济 D. 国有经济

31. 坚持“两个毫不动摇”,坚持权利平等、机会平等、规则平等,全面落实支持非公有制经济发展的政策措



施,认真解决民营企业反映的突出问题,激发和保护企业家精神,增强企业家信心,让民营企业在市场经济浪潮中尽显身手。改革完善金融服务体系,着力解决小微企业融资难、融资贵问题。这有利于()。

- ①更好地坚持公有制经济为主体,多种所有制经济共同发展的基本经济制度
- ②形成各种所有制经济平等竞争、相互促进的新格局
- ③更好地发挥民营企业的主导作用
- ④进一步激发市场主体活力,促进国民经济持续健康发展

A. ①②③ B. ②③④ C. ①②④ D. ①③④

32. 右侧漫画中国家这样做能()。

- ①进一步降低小微企业税费负担,提高其活力和竞争力
- ②活跃城乡市场,减少财政收入
- ③支持和引导小微企业的发展
- ④解决小微企业负担重、成本高,发展受限制的问题

A. ①②③ B. ①②④ C. ①③④ D. ②③④



33. 右侧漫画表明我国()。

- ①实行人民代表大会制度
- ②实行基层群众自治制度
- ③切实保证人民当家作主
- ④人民参政意识逐步增强

A. ①③④ B. ①②④ C. ②③④ D. ①②③



34. 十三届全国人大二次会议表决通过了根据宪法制定的《中华人民共和国外商投资法》。该法于2020年1月1日实施后,将取代原有的“外资三法”,成为新时代中国利用外资的基础性法律,可以为外商创造更加便利和友好的投资环境。该法的制定()。

- ①表明了全国人民代表大会行使国家立法权
- ②能够有力推动我国形成全面开放的新格局
- ③使我国一切组织和个人有了根本活动准则
- ④扩大了外商投资者权利,投资范围不再受限

A. ①② B. ②③ C. ①④ D. ③④

35. 我区的全国人大代表提出的关于支持宁夏发展马铃薯种植基地的建议、关于设立宁夏内陆开放经济特区的建议等,先后被列为全国人大常委会办公厅重点督办建议。这充分体现了我区人大代表()。

- ①代表人民行使当家作主的权力
- ②在履行宪法和法律赋予的审议权、表决权方面的职权
- ③权力大、能力强不受人民监督
- ④关注民生、反映民意

A. ①② B. ②③ C. ①④ D. ③④

36. 审议通过政府工作报告、表决通过外商投资法、选举新一届国家领导人。2019年3月15日,十三届全国人大二次会议圆满完成各项议程,在北京人民大会堂胜利闭幕。材料体现了()。

- ①我国坚持人民代表大会制度这一根本政治制度
- ②全国人民代表大会是我国最高国家权力机关,具有最高的任免权、立法权、监督权



③全国人民代表大会是人民行使当家作主权力的机关

④我国是全国人民代表当家作主的法治国家

A. ①②③ B. ②③④ C. ①②④ D. ①③④

37. 《法治政府建设实施纲要(2015—2020年)》提出,认真执行向本级人大及其常委会报告工作制度,接受询问和质询制度,报备行政法规、规章制度。这是地方各级人大在行使()。

A. 立法权 B. 监督权 C. 任免权 D. 决定权

38. 把我国建设成为富强民主文明和谐美丽的现代化强国()。

①是我们的共同理想 ②是建党一百年的奋斗目标
③是建国一百年的奋斗目标 ④是中华民族伟大复兴的中国梦

A. ①②③ B. ①②④ C. ②③④ D. ①③④

39. 习近平说,我们都是追梦人。广大青年要培养奋斗精神,做到理想坚定,信念执着,不怕困难,勇于开拓,顽强拼搏,永不气馁。幸福都是奋斗出来的。据此,以下说法错误的是()。

①以爱国主义为核心的勤劳勇敢,艰苦奋斗,自强不息的中国精神不仅深刻,而且永远不会过时
②个人有了坚定的信念,就一定能实现中国梦
③中国梦是全国各族人民撸起袖子干出来的,是新时代奋斗者挥洒汗水拼出来的
④广大青年是实现中国梦的主要力量,其他力量可有可无

A. ①②④ B. ②③④ C. ①②③ D. ①③④

40. “中华民族伟大复兴,绝不是轻轻松松、敲锣打鼓就能实现的。”这告诉我们每个中华儿女,实现中国梦这个共同理想需要()。

①脚踏实地,全力以赴 ②艰苦奋斗,开拓创新
③善于创新,勇于称霸 ④大力弘扬中华民族精神

A. ①②③ B. ①③④ C. ②③④ D. ①②④

41. 《全民阅读“十三五”时期发展规划》指出:将继续开展全国范围内的“书香中国”系列活动,到2020年,所有省份、计划单列市、地级市都有品牌活动,80%以上的县区有品牌活动。这()。

A. 是培育和践行社会主义核心价值观的有效形式 B. 可以杜绝一切不健康文化的滋生和蔓延
C. 是继承传统文化,抵御外来文化的要求 D. 是传承和弘扬民族精神的唯一形式

42. 目前,我国在海外共建立了30多个中国文化中心;再过3年,还会增加10多个。做好中华文化这篇大文章,不仅能滋养中国人的精神生活,也能助力于实现中华民族伟大复兴的中国梦。下列选项认识正确的是()。

A. 聚焦中华文化走出去,打造大国话语权 B. 中华文化最优秀,我们要继承和发扬
C. 中华文化独树一帜,不需借鉴他国文化 D. 只要传承中华文化,就能实现民族复兴

43. 当阿根廷红虾、澳洲牛排、挪威三文鱼、智利珍宝蟹、法国红酒纷纷走上中国二三线城市的百姓餐桌时,人们不禁感叹:春节——这个中国传统节日变得越来越有国际范儿了。而在世界的不同角落,中国年也早已“散入春风满洛城”。这说明()。

①世界不同国家和民族的文化可以和谐共生
②我国坚持改革开放的基本国策,文化交流日益广泛和深入



③国外的饮食文化正逐步渗透到中国并取代了中华饮食文化

④我们在展示中华节日文化,弘扬优秀传统文化的同时,正广泛吸收世界各国各民族文化的精华,使我们的文化更具魅力

A. ①②③ B. ②③④ C. ①③④ D. ①②④

44. 近几年,我国各地先后开展了“红色旅游”“唱红歌、赛红歌”等活动,让人们在对红色经典的激情感怀中重温革命岁月。开展这类活动有利于()。

①弘扬和培育民族精神 ②弘扬和培育社会主义核心价值观
③增强民族自信心和自豪感 ④坚定文化自信,解决社会一切矛盾

A. ①③④ B. ①②④ C. ②③④ D. ①②③

45. 建立全国联网的社会信用代码制度体现了社会主义核心价值观中的()。

A. 富强 B. 诚信 C. 平等 D. 自由

46. 翻越马路护栏、攀折花木、在公共场所大声喧哗、随地吐痰、乱扔垃圾、排队加塞、乱刻乱画、乱停乱放及破坏共享单车、马路逆行闯红灯等现象成为创建文明城市的痛点。减少这类现象,我们应该()。

①大力弘扬中华民族的传统美德 ②培育和践行社会主义核心价值观
③加强法治建设 ④加大对这些行为处罚的力度

A. ①②③ B. ①②④ C. ②③④ D. ①③④

47. 举办“感动中国”年度人物评选、“时代楷模”评选,寻找“最美家庭”、寻找“最美孝心少年”等,有利于()。

①引导公民传承中华民族传统美德 ②培育和践行社会主义核心价值观
③人人成为道德模范、先进人物 ④学习先进人物事迹,养成好的思想品德追求

A. ①②③ B. ①②④ C. ②③④ D. ①③④

48. 习近平总书记指出,在每一个历史时期,中华民族都留下了无数不朽作品。从诗经、楚辞、汉赋,到唐诗、宋词、元曲、明清小说等,共同铸就了灿烂的中国文艺历史星河。这说明中华文化()。

A. 一花独放,天下独尊 B. 源远流长,博大精深
C. 博采众长,中西合璧 D. 一脉相承,亘古不变

49. 清明节本该清清明明,但却涌现出“不清明”的现象:清明扫墓,不少人除燃放烟花爆竹和香烛冥币之外,还烧“麻将”“汽车”“豪宅”,让原本清静的山林乌烟瘴气。对这一现象认识正确的有()。

①属于封建落后文化,不值得提倡 ②属于培育和践行社会主义核心价值观的活动
③有损于清明节祭祖追思的文化内涵 ④不利于保持低碳生活方式

A. ①②③ B. ①②④ C. ①③④ D. ②③④

50. 2019年4月27日,第二届“一带一路”国际合作高峰论坛在北京成功举行。五年来,中国同“一带一路”沿线国家的贸易总额超过6万亿美元,同沿线国家共建的82个境外合作园区也已经为当地创造了将近30万个就业岗位。“对话不对抗、结伴不结盟”的理念深入人心,国与国交往的新路越走越宽……中国特色大国外交()。

①彰显了对外交往是国家第一要务的理念
②塑造、展示了和平、合作、负责任的中国形象



- ③有利于捍卫国家核心利益,提升国际影响力,构建以合作共赢为核心的新型国际关系
- ④有利于我国更好地发挥建设性作用,构建人类命运共同体,推动中国梦、亚太梦和世界梦的实现

A. ①②③ B. ①②④ C. ②③④ D. ①③④

51. 中国倡导创立的亚洲基础设施银行和金砖国家新开发银行,开创发展中国家组建多边金融机构的先河,为全球经济金融治理与改革注入新的活力。在推动叙利亚问题政治解决、维护朝鲜半岛和平、世界维和以及反恐等诸多事务中,都积极承担自己肩负的国际责任。这()。

- ①充分体现了我国综合国力的增强,国际地位的提高
- ②说明我国已经成为世界上的超级大国,在地区和国际事务中发挥着主导作用
- ③能为全面建成小康社会创造有利的外部环境
- ④表明我国愿意为维护世界和平和促进世界发展做出重大贡献

A. ①②③ B. ①②④ C. ②③④ D. ①③④

52. 完成九年义务教育阶段的学习,仅仅是人生历程中的一个小小驿站。我们要创造最有意义的人生,就必须()。

- A. 等待机遇
- B. 树立眼前理想
- C. 有名师的指导
- D. 靠自己的勤奋努力和不懈追求

53. 开放的中国期盼着我们快速成长,为此我们应该()。

- ①树立全球意识和国家观念
- ②树立平等意识和参与意识
- ③埋头学习,不关心国事、天下事
- ④用世界的眼光看问题

A. ①②③ B. ①③④ C. ①②④ D. ②③④

二、亮出我的观点

1. 依法治国对可持续发展战略具有保障作用。

判断:

理由:

2. “和平统一、一国两制”是两岸关系的政治基础。

判断:

理由:

3. 当今世界范围内经济、科技和综合国力的竞争,同时也是人才的竞争,所以教育的根本任务是培养尖端人才。

判断:

理由:

4. 创新是引领发展的第一动力。唯创新者进,唯创新者胜,唯创新者强。

判断:

理由:

5. 新时代我国社会的主要矛盾是人民日益增长的物质文化需要同落后的社会生产之间的矛盾。

判断:

理由:



6. 我国改革开放取得巨大成就,说明我国现在已经建成了富强民主文明和谐的社会主义现代化强国。

判断:

理由:

7. 改革开放是强国之路,富民之路,是决定当代中国命运的关键抉择。改革只有进行时,没有完成时。

判断:

理由:

8. 发展是解决一切问题的基础和关键,为了发展,可以不顾一切,不计后果。

判断:

理由:

9. 中华文化最优秀,坚定文化自信,就要拒绝接受西方文化。

判断:

理由:

10. 社会主义核心价值观是实现中华民族伟大复兴的价值引领。

判断:

理由:

11. 中国在为构建人类命运共同体贡献智慧,说明中国已主导着世界的发展。

判断:

理由:

综合拓展

一、材料分析

1. 我国第五次、第六次人口普查部分统计数据

	人口总量		受教育程度(每 10 万人中)			年龄构成(其中,60 岁及以上人口的比率)
	总人口	年均增长率	大学	高中	初中	
第五次	12.66 亿	1.07%	3611 人	11146 人	33961 人	10.33%
第六次	13.40 亿	0.57%	8930 人	14032 人	38788 人	13.26%

注:以上数据不包括港澳台地区。

(1)比较我国两次人口普查中人口总量、受教育程度、年龄构成的数据,说明我国人口状况发生的积极变化和存在的主要问题。分析积极变化的原因。

(2)我国第六次人口普查显示,在 13.40 亿总人口中,汉族人口占 91.51%,少数民族人口占 8.49%。举例说明我国的民族平等政策是怎样保证各民族实现其平等权利的?



2.

让发展“绿”起来

我国“十三五”规划提出“创新、协调、绿色、开放、共享”五大发展理念。其中,绿色发展首次被作为国策提出,指出我们应该走一条实现经济、生态和民生有机统一的绿色发展之路。这不仅是适应我国当前生态形势的唯一选择,也是为 21 世纪人类发展新道路提供的伟大实践。

我国实现绿色发展,未来要迈向“三个零”目标:到 2025 年,实现资源消耗“零增长”;到 2035 年,实现生态占用“零赤字”;到 2050 年,实现环境污染“零排放”。

(1)实现绿色发展“三个零”目标必须坚持什么基本国策和发展战略?

(2)运用国情国策知识,结合材料谈谈绿色发展的意义。

(3)青少年能为绿色发展做出哪些贡献?

3.

实施生态移民 造福贫困群众

我区中南部地区,极度干旱缺水,生态十分脆弱,被称为不适宜居住、不适宜发展的地方。为了从根本上解决当地的生活、生产、生态问题,“十一五”期间,我区实施中部干旱带生态移民工程,将 20.68 万人搬迁到近水、临路、靠城的地方。移民安置区充分利用当地的土地、水利、交通等资源优势,发展高效节水农业、特色种植养殖业以及劳务、商贸、交通运输业,经济效益明显。移民搬迁后,迁出区的 300 万亩自然植被和陡坡地退耕还林、还草,生态环境得到恢复和保护,实现了脱贫致富与生态建设“双赢”。“十二五”期间,我区继续实施生态移民工程,对 34.6 万贫困人口进行移民搬迁。

结合绿色发展的理念,说明我区实施的生态移民工程是如何体现经济发展与资源、环境关系的?

4. 习近平指出:实现祖国完全统一,是实现中华民族伟大复兴的必然要求。必须坚持一个中国原则,坚持“九二共识”,推动两岸关系和平发展,深化两岸经济合作和文化往来,推动两岸同胞共同反对一切分裂国家的活动。“青山遮不住,毕竟东流去”,两岸关系和平发展促进了台海地区和平稳定,受到国际社会广泛欢迎和支持。

(1)两岸关系和平发展的政治基础和遵循的方针是什么?

(2)结合“青山遮不住,毕竟东流去”这句话,请你谈谈对两岸统一问题的理解。



5. 材料一:2019年4月30日,教育部、国家统计局和财政部发布2018年全国教育经费执行情况统计公告,显示2018年,全国教育经费总投入为46135亿元,比上年增长8.39%。截至2018年年底,我国共有技能劳动者1.65亿,占就业人员总量的21.3%,其中高技能人才4791万人。截至2018年年底,全国实现义务教育发展基本均衡的县(市、区)累计达到2717个。

材料二:目前,我国科学研究实力不强,优秀拔尖人才还比较少。电子技术、生物工程、航天技术、海洋利用、新材料等领域的专门人才稀缺。关键技术自给率低,特别是企业核心竞争力不强。轿车、计算机系统软件等领域,我国尚未掌握系统设计核心技术;大型飞机、半导体和集成电路专用设备、大型科学仪器、大型医疗设备、高档数控机床、高端芯片等都依赖进口;只有极少数的企业拥有自主核心知识产权。

(1)材料说明了什么?

(2)结合材料说说我国为什么要优先发展教育事业?

(3)中学生应该如何更好地履行受教育的义务?

6. 创新是关键

当前我国虽然在航天、高铁、核电等高科技领域取得了一系列成果,中国制造遍及世界。但制造业总体大而不强,自主创新能力弱,产业结构不合理,在核心技术、产品质量方面同世界先进水平相比还有较大差距。为此,我国在“十三五”规划中提出五大发展理念。强调坚持创新发展,必须把创新摆在国家发展全局的核心位置;推动“大众创业、万众创新”,培育发展新动力;实施《中国制造二〇二五》,促进产业转型升级,加快建设制造强国。

(1)材料反映出我国怎样的科技现状?结合材料,说明为什么必须把创新摆在国家发展全局的核心位置。

(2)请你为“促进产业转型升级,加快建设制造强国”献计献策。

7. 精准扶贫 全面小康

材料一:

2018年省级行政区GDP排行榜

地区	排名	GDP全年总量	经济增长速度
广东	1	9.73万亿元	6.8%
江苏	2	9.2万亿元	6.7%
山东	3	7.65万亿元	6.4%
宁夏	29	3705.18亿元	7.0%



材料二:从2012年到2019年的八年间,宁夏累计减贫93.4万人,贫困发生率由22.9%下降到3%,贫困地区农民人均可支配收入由4856元增加到9298元,年均增长11.4%。盐池、隆德、泾源、彭阳四县脱贫摘帽。但目前仍有12.1万贫困人口生活在干旱缺水、生态脆弱、交通不便的地方,扶贫任务十分艰巨,必须在精准扶贫上下更大功夫。为此宁夏统筹实施“调水、移民、产业、劳务、生态”扶贫战略,坚持补齐短板,把重大基础设施建设向贫困地区倾斜,深入实施交通、水利、电力、危窑危房改造等脱贫行动计划,不断改善生产生活条件。力争与全国同步进入全面小康社会。

(1)上述材料说明宁夏经济发展存在哪些问题?

(2)实现脱贫攻坚的目标,坚持了什么样的中心思想?依据材料二谈谈宁夏实施精准扶贫奔向全面小康采取的措施有哪些?

(3)结合材料说明:宁夏作为民族地区,加快经济发展,实现民族团结有什么重要意义?

8. “内陆开放型经济试验区”为宁夏注入新动力

从2012年9月国务院批准我区为首个“内陆开放型经济试验区”以来,我区不断深化改革开放,主动融入“一带一路”,充分利用中阿空中丝绸之路和中阿网上丝绸之路的优势,抢抓机遇,内引外联,经济社会发展取得了巨大成就。经济实力不断增强;结构调整取得新突破;社会事业长足进步;各民族团结进步繁荣发展;生态环境建设成效显著;人民生活水平不断提升;与国内外联系日益紧密。“内陆开放型经济试验区”的设立,为建设和谐富裕新宁夏注入了强大的动力。

结合上述材料,谈谈我区为什么要坚定不移地走改革开放之路?

9. 材料一:目前,国有企业承担着我国几乎全部的原油、天然气和乙烯生产,提供了全部的基础电信服务和大部分增值服务,发电量约占全国的60%以上,民航运输总周转量约占全国的82%,生产的高附加值钢材约占全国的60%,生产的水电设备约占全国的75%。如“鸟巢”“水立方”就是国有企业联合国内外知名企业一起设计,施工单位均是国有企业。2019年9月1日,中国企业联合会、中国企业家协会连续第18次向社会发布了中国企业500强名单,大部分是央企或国企,其中中国石化、中国石油、国家电网排在前列。

材料二:近年来,我国大众创业、万众创新蓬勃发展,中小微企业成为最有活力的领域,非公有制经济对



税收的贡献超过 50%，国民生产总值、固定资产投资、对外直接投资均超过 60%，高新技术企业占比超过 70%，城镇就业超过 80%，对新增就业贡献达到 90%。

(1)材料说明我国实行什么样的基本经济制度？

(2)结合材料一说说国有经济在国民经济中是怎样发挥主导作用的？

(3)结合材料二说说非公有制经济在国民经济中发挥了什么样的作用？

10. 感受汉字魅力 传承中华文化

随着电脑、智能手机等电子产品的普及，越来越多的人使用键盘输入汉字，手写汉字的能力下降。近几年，宁夏各市县举办中小学生汉字书写大赛，让观众席上的观众跟着进行自我检测。结果，从电视直播的画面来看，许多参赛选手和观众有不少的常用字被写错或忘记。

(1)“不少的常用字被写错或忘记”说明了什么？

(2)宁夏各市县举办中小学生汉字书写大赛有什么重要意义？

(3)请就如何应对汉字“失写症”提出合理化建议。

(4)你对汉字有什么认识？青少年应如何将汉字之美留在指尖？

11. 让载人航天精神为中华民族插上腾飞的翅膀

从 2003 年 10 月 15 日航天员杨利伟驾乘“神舟五号”飞船成功进入太空，到 2016 年 10 月 17 日，“神舟十一号”搭载景海鹏、陈冬两位航天员成功飞天，这个被中央军委授予“英雄航天员大队”荣誉称号、被中宣部授予“时代楷模”的光荣集体，先后 6 次圆满完成载人航天飞行任务，圆了中华民族的千年飞天梦，实现了载人航天飞行从“一人一天”到“多人多天”的重大跨越，胜利完成首次太空出舱行走，叩开了中国空间站时代的大门，完成我国载人航天首次应用性飞行，为后续空间站建造运营奠定了更加坚实的基础。这些耀眼的成就，是航天员英雄群体用信仰和汗水浇筑的，每一个训练日，都堪称“艰难一日”；每一个训练科目，都堪称“魔鬼科目”，然而从没有人说过坚持不住。训练结束后，他们经常累得连筷子都拿不住。千锤百



炼,我国先后选拔的 21 名航天员,都顺利通过八大类、上百个科目训练考核,全部具备独立执行载人航天飞行任务的能力,创造了世界上航天员训练史上零淘汰的纪录。大家用齿轮咬合般的团结协作,托举中华民族的飞天梦!今天,面对建设新时代航天强国的期待,航天员群体将用无畏的血性、果敢和睿智,时刻准备刷新中国进军太空的新高度。

(1)英雄航天员大队身上体现的民族精神是什么?

(2)结合材料说说新时代为什么要大力弘扬载人航天精神?

(3)在当今时代,青少年应该怎样弘扬和培育民族精神?

12. 材料一:6年来,“一带一路”建设由点及面,进度和成果超出预期。截至 2019 年 10 月底,中国已经同 137 个国家和 30 个国际组织签署 197 份共建“一带一路”合作文件。2019 年前 11 个月,我国与“一带一路”沿线国家进出口 8.35 万亿元,同比增长 9.9%。同时,我国对拉丁美洲和非洲等新兴市场进出口分别增长 6.8%与 5.7%。中国企业在沿线国家投资,为当地创造就业岗位。在世界维和行动中,我国派出的维和部队人数最多。

材料二:习近平指出:坚持和平发展道路,推动构建人类命运共同体。中国决不会以牺牲别国利益为代价来发展自己,也决不放弃自己的正当权益,任何人不要幻想让中国吞下损害自身利益的苦果。中国奉行防御性的国防政策。中国发展不对任何国家构成威胁。中国无论发展到什么程度,永远不称霸,永远不搞扩张。

材料三:由于现代企业核心竞争力的自主知识产权、核心技术、品牌仍掌握在别人的手中,中国制造业处于全球价值链的低端环节。创造的利润,中国企业最多拿到 8%,剩下的归外商所有。“中国制造”面临贸易保护主义百般骚扰。以产品安全、环保,以企业社会责任为理由的贸易壁垒层出不穷。

(1)结合上述材料说说当今世界是什么样的发展趋势及我国在世界上处于什么样的地位和作用?

(2)综合上述材料说说我国目前在发展中面临着哪些机遇与挑战?你认为我们中学生现在应怎样努力才能应对机遇与挑战,为实现中国梦而奋斗?



三、图表分析

1. 阅读表格,回答问题。

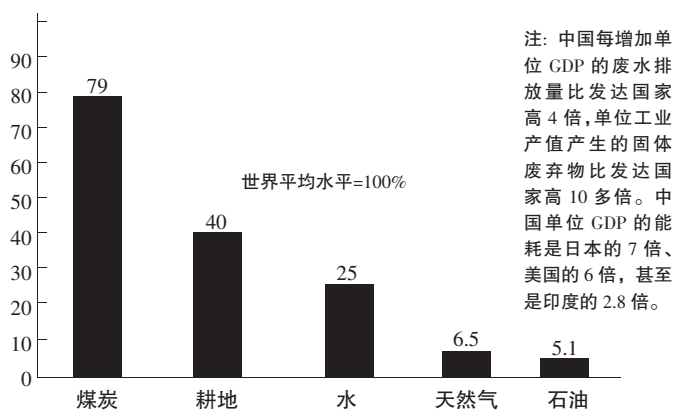
年份	全国总人口(亿)	自然增长率(‰)	65岁及以上老年人口比重(%)	毕业研究生(万人)
2017年	13.9008	5.32	11.4	57.8
2018年	13.9538	3.81	11.9	60.4

注:表中的数字均不包括港澳台地区。

(1)表中我国人口现状发生了怎样的变化?

(2)就表中出现的人口问题国家采取什么措施解决? 实行这些措施有什么重要意义?

2. (1)图表反映了我国怎样的国情? 解决这些问题,国家必须坚持哪些发展战略和基本国策?



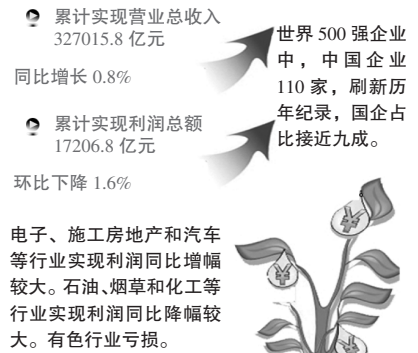
中国部分资源人均占有量和世界平均水平比较图

(2)结合图表,说说实现绿色发展,积极推进美丽中国建设有什么重要意义?



(3)为实现绿色发展,请你对政府提一些好的建议并写两句宣传标语。

3. (1)结合图表,说说国有经济在国民经济发展中的地位 and 作用。



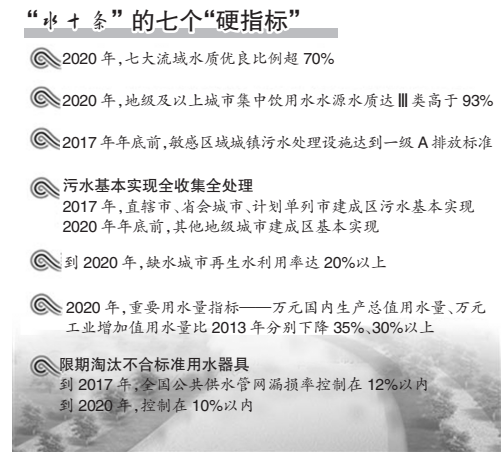
1 月至 9 月, 国有及国有控股企业

(2)结合图表,说说为什么国家要大力推进国有企业改革?

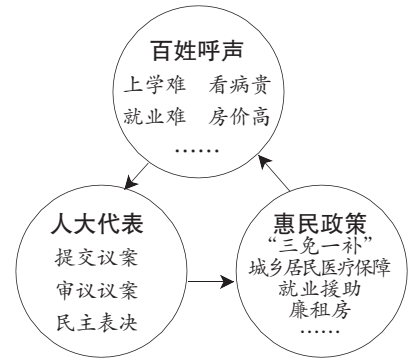
4. (1)结合图表说说我国印发《水污染防治行动计划》,重磅推出“水十条”,向水污染宣战的重要意义。



(2)美丽中国, 人人共享, 人人有责, 为实现图表中的目标, 我们在日常生活中应怎样做?



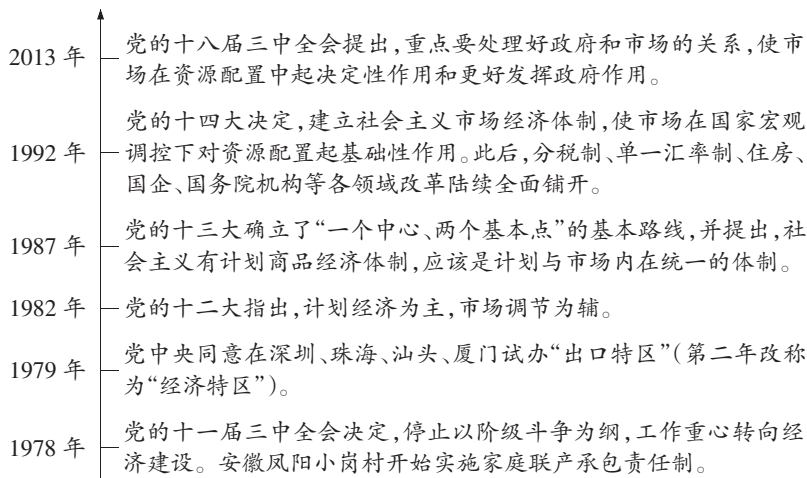
5. (1)结合“百姓呼声”说说新时代我国社会的主要矛盾是什么?



(2)结合图表,说一说我国人民是如何实实在在地行使当家作主权力的?

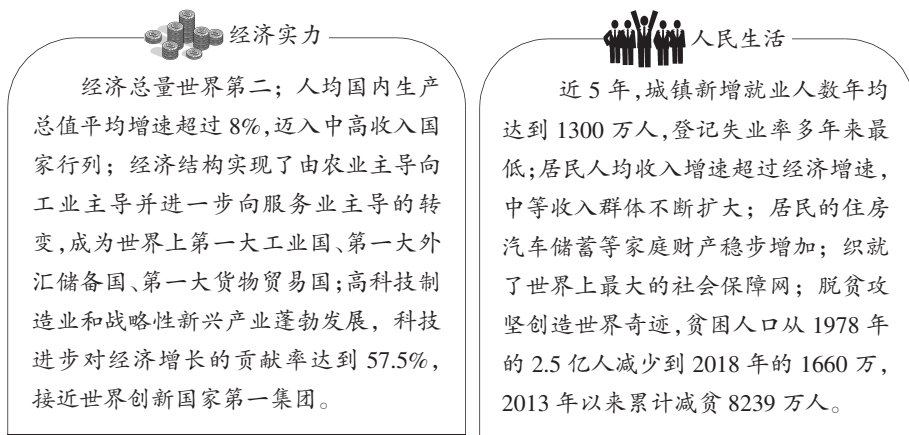
6. 阅读图表,回答问题。

图表一:



1978年以来重大事件时间轴

图表二:



1978年以来我国经济社会发展成绩单(截至2018年)

(1)图表二说明了什么?



(2)综合上述图表,概括 1978 年以来中国腾飞的经验。

7. 建设社会主义文化强国,需要弘扬优秀的中华传统文化。中国传统节日是中华文化的突出代表。

(1)就图中中华民族的某一传统节日,谈谈你对其文化内涵的理解。

中国七大传统节日形象



(2)说一说重视中华民族传统节日对建设文化强国有什么重要意义?

(3)你认为应如何对待中华传统文化?

8. 长征精神永放光芒

“红军不怕远征难,万水千山只等闲。”83年前,中国工农红军主力历时两年,纵横十余省、跋涉二万五千里,渡过二十四条河流、翻越十八座山脉,四渡赤水河、巧渡金沙江、飞夺泸定桥、强渡大渡河……最终胜利到达陕北,实现了战略大转移。可以说,没有长征的胜利,就没有中国革命的新局面,就没有新中国的成立和全国各族人民的幸福生活。今天,我国仍处于社会主义初级阶段,在新的长征路上,我们还有许多“雪山”“草地”需要跨越,还有许多“娄山关”“腊子口”需要征服,这些都是具有开创性、艰巨性、复杂性的事业,需要大力弘扬伟大长征精神,把长征精神作为推动我国各项事业发展的巨大动力,激励和鼓舞全党全军全国各族人民特别是青年一代发愤图强、奋发有为,继续把革命前辈开创的伟大事业推向前进,在实现“两个一百年”奋斗目标、实现中华民族伟大复兴中国梦新的长征路上续写新的篇章、创造新的辉煌!

(1)伟大的长征精神的内涵是什么?



(2)结合图片和材料及我国现阶段的国情,运用民族精神的相关知识说说为什么要弘扬伟大的长征精神?

(3)我们青少年应怎样接过先辈的旗帜,以实际行动为新长征的胜利做出贡献?

9. 分析图表,从图表中你能概括出哪些信息?(不少于四条)



三、漫画分析

1. 观察漫画,回答问题。

(1)右侧漫画表明我国坚持哪项基本国策?

(2)依据漫画说说其意义。



全面二胎

2. 观察漫画,回答问题。

(1)右侧漫画中展现的成就有哪些?

(2)请说说其意义。



今日之山



3. 观察漫画,回答问题。

(1)右侧漫画反映了什么?



(2)国家这样做有什么重要作用?

4. 观察漫画,回答问题。

(1)右侧漫画反映了什么?



(2)谈谈有什么意义?

相亲相爱一家人

5. 观察漫画,回答问题。

(1)说说右侧漫画的寓意。



(2)我们每个公民应付诸怎样的实际行动?

绝不允许

6. 观察漫画,回答问题。

(1)右侧漫画反映了我国实施的哪项战略?



(2)结合漫画说说我国为什么要实施这一战略?

勇立潮头



7. 观察漫画,回答问题。



小康路上,一个不能少

(1)漫画揭示了我国在全面小康建设过程中的什么问题?

(2)漫画反映出国家针对问题采取的什么措施?说说国家采取措施的重要意义有哪些?

8. 观察漫画,回答问题。

(1)右侧漫画反映了我国实施的什么政策?



(2)实施这一政策有什么意义?

扶持

9. 观察漫画,阅读材料,回答问题。

一名女乘客因为坐过了站与司机发生激烈的争执,互殴导致车辆失控,不仅失去了自己的生命,还让一车15人陪葬。重庆万州公交坠江事件到现在还是锥心之痛。在社会急剧变化和多元价值的今天,迫切需要社会主义核心价值观引领社会思潮,凝聚社会共识。

(1)结合漫画和材料说说培育与践行社会主义核心价值观的重要性。



逃票



(2)你打算怎样培育和践行社会主义核心价值观?

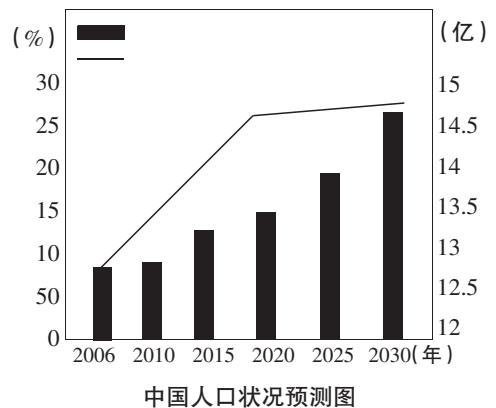
10. (1)从实现理想的角度对右侧漫画中老人的感叹谈谈你的看法。



(2)你从中得到了实现中国梦的什么启示?

四、探究创新

1. 分析图表, 右图说明了未来几十年我国人口存在的什么问题? 怎样解决? 这样解决有什么重要意义?

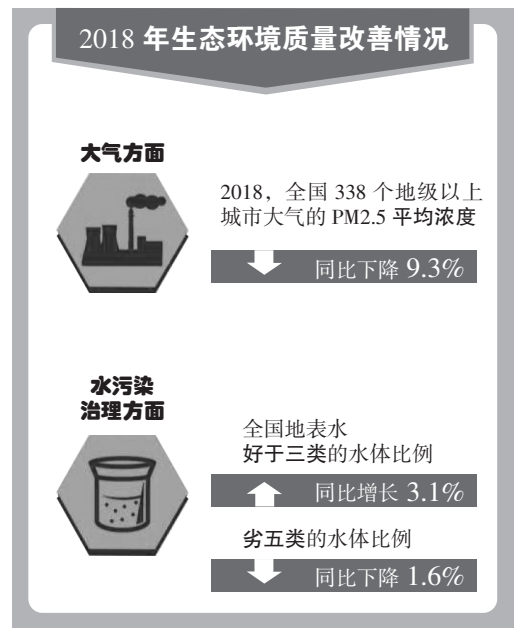


2. 持续打好蓝天碧水净土保卫战, 建设美丽中国。

材料一: 观察图表。

材料二: 李克强总理在 2019 年政府工作报告中指出, 巩固扩大蓝天保卫战成果, 今年二氧化硫、氮氧化物排放量要下降 3%, 重点地区细颗粒物(PM2.5)浓度继续下降。持续开展京津冀及周边、长三角、汾渭平原大气污染治理攻坚, 加强工业、燃煤、机动车三大污染源治理。强化水、土壤污染防治, 今年化学需氧量、氨氮排放量要下降 2%。加快治理黑臭水体, 推进重点流域和近岸海域综合整治。

(1)持续打好蓝天碧水净土保卫战是基于我国什么样的客观现实?



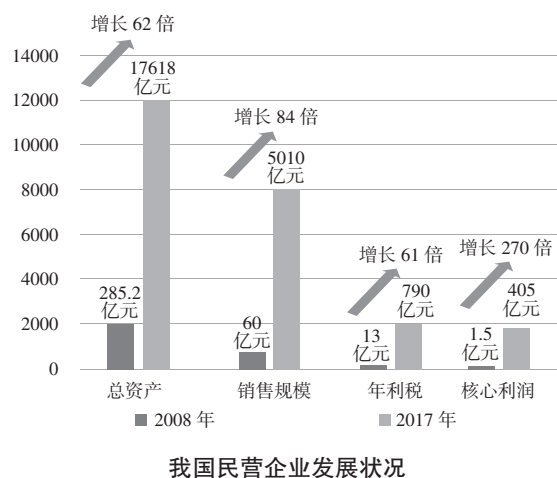
(2)结合材料,谈谈我国持续打好蓝天碧水净土保卫战的原因。

(3)持续打好蓝天碧水净土保卫战,我们为此做些什么?

3. 材料一:观察图表。

材料二:中共中央政治局召开会议,强调要毫不动摇鼓励、支持、引导非公有制经济发展。民营经济是改革开放40年来中国经济快速发展的见证者、贡献者,贡献了50%以上的税收,60%以上的国内生产总值,70%以上的技术创新,80%以上的城镇劳动就业,90%以上的企业数量。

(1)从图表可以看出我国民营企业的发展有什么变化?



(2)结合材料,说说我国为什么要毫不动摇地鼓励、支持、引导非公有制经济的发展?

4. 材料一:针对“乡村弱、城镇挤”的突出问题,国务院印发《关于统筹推进县域内城乡义务教育一体化改革发展的若干意见》提出,加快推进县域内城乡义务教育学校建设标准统一、教师编制标准统一、生均公用经费基准定额统一、基本装备配置标准统一和“两免一补”政策城乡全覆盖,到2020年,城乡二元结构壁垒基本消除,义务教育与城镇化发展基本协调。

材料二:学生发展核心素养,主要指学生应具备的,能够适应终身发展和社会发展需要的必备品格与关键能力。以培养“全面发展的人”为核心,共分为文化基础、自主发展、社会参与3个方面,综合表现为人文底蕴、科学精神、学会学习、健康生活、责任担当、实践创新6大素养。这使广大教师在教育教学过程中,能够时刻将自己的教育教学与核心素养相对照,使得教育评价始终在一个科学、理性的轨道中推进。



材料三:《国家教育事业发展“十三五”规划》提出到 2020 年教育现代化要取得重要进展。全面落实立德树人的根本任务,全面实施素质教育,切实减轻学生课业负担,着力提升学生思想道德水平和法治意识。

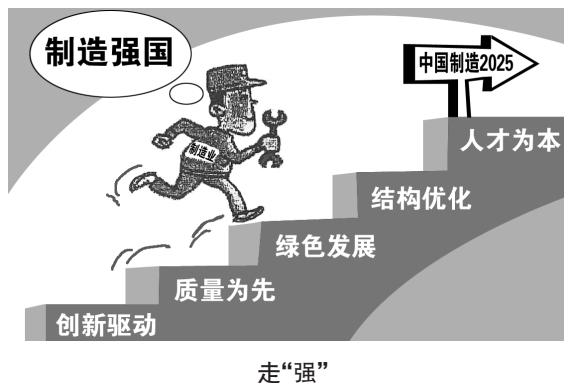
(1)上述材料说明了什么?

(2)结合材料说说国家为什么要这样做?

(3)对照学生发展核心素养的 3 个方面,6 大素养,你还有哪些不足?今后应如何弥补?

5. 材料一:观察漫画。

材料二:我国在发展过程中出现了许多问题,如钢铁企业生产的低端钢材卖不出去,造成产能过剩,但高端钢材则需要从国外大量进口等。其中一个重要原因是我国制造业大而不强,国产优质产品尤其是知名品牌涌现乏力,对消费者吸引力明显不足。全球 77%的手机是中国制造,但其中不到 3%的手机芯片是国产的,2018 年芯片进口首次突破 3000 亿美元。受制于人的技术、设备直接制约了我国信息产业的发展,威胁我国的国家安全。因此我国将继续以推动供给侧结构性改革为主线,深化创新驱动,提高供给体系的质量和效率,进一步激发市场活力和社会创造力,增强持续增长的动力。





(1)根据漫画,说说我国要实现“中国制造 2025”目标,必须实施什么战略?坚持什么基本国策?

(2)结合漫画和材料,说说为什么要深化创新驱动,推动供给侧结构性改革?



6. 寒假前夕,某校要求九年级学生在假期中,就微信对社会发展和人们生活的影响这一专题进行探究。第一小组的同学根据搜集的相关资料,设计了一个网页。假如你是这个小组的一名成员,请结合所学知识,按照已有的话题方向,具体阐述自己的感悟。

微信:6 亿人的小世界		
图片秀	信息扫描	我的感悟
	<p>微信是一款快速发送文字和照片、支持多人语音对讲的手机聊天软件。“附近的人”和“摇一摇”加入,使微信功能走向了陌生人之间的交友,用户的激增、“朋友圈”的出现,则把微信推向社交化平台,而扫二维码,则让微信成为人们工作、生活和学习的好帮手……今天的微信,注册用户量已经突破 10 亿,成为亚洲地区最大用户群体的移动即时通信软件。使人类的生活更加丰富多彩,变换出数不清的商业机会,催生出新的产业形态。</p>	<p>科学技术</p> <p>创新</p>
	<p>如今,微信成为时尚一族送祝福的新选择。春节期间,就有许多人制作有图有声的微信贺卡或美篇,给自己的亲朋好友送上最真诚的祝福。</p>	<p>微信送祝福,节俭又环保</p>

7. 材料一:习近平主席到宁夏回族自治区考察工作指出,宁夏是西北地区重要的生态安全屏障,要大力加强绿色屏障建设。要加强黄河保护,坚决杜绝污染黄河行为,让母亲河永远健康。在考察脱贫攻坚工作时,习近平强调,全面建成小康社会,一个地区、一个民族都不能落下。越是欠发达地区,越需要实施创新驱动发展战略。

材料二:蓝天白云一直是宁夏人的骄傲,但这几年我区空气质量明显下降,银川、石嘴山等城市相继出现雾霾和重污染天气,就连固原 PM10 都超标。中央主要媒体通报的 7 个环境空气质量指数不降反升的省区,我区是其中之一,而且排名比较靠前。现在黄河水资源利用率已达到 70%,远超过国际公认的 40%警戒线,过度开发已经让母亲河不堪重负。

- (1)习总书记强调,全面建成小康社会,一个民族都不能落下这说明了什么?

- (2)材料二反映了我区什么样的突出问题?结合材料说说为什么要高度重视宁夏生态环境的保护?为了让母亲河永远健康,假如你是当地的一名中学生,请向有关部门提一些建议。



(3)综合两则材料,结合宁夏的实际,针对习总书记强调的“越是欠发达的地区,越需要实施创新驱动战略”谈谈原因。

8. 加速推进乡村振兴战略,助力现代化强国

材料一:小康不小康,关键看老乡。改革开放40年来,我国城乡发生了翻天覆地的变化,但问题依然存在:农村不少地方的土壤退化、水土流失现象突出,农膜、农药、化肥超量使用,农村环境污染较为严重。2018年,我国城镇居民人均收入是农村居民的2倍。

材料二:我国实施乡村振兴战略的目标任务是,到2020年乡村振兴取得重要进展,制度框架和政策体系基本形成;到2035年,乡村振兴取得决定性进展,农业农村现代化基本实现;到2050年,乡村全面振兴,农业强、农村美、农民富全面实现。

材料三:中央一号文件指出,强化创新驱动发展,实施农业关键核心技术攻关行动。同时自2019年起,全国范围内集中组织开展村庄清洁行动,重点是“三清一改”,即清垃圾、清塘沟、清畜禽粪污,改变影响农村人居环境的不良习惯,同时加快推进农村“厕所革命”。

(1)结合材料说说实施乡村振兴战略的意义。

(2)请为加快推进乡村振兴提一些建议。

9. 2019年10月1日,伟大的中华人民共和国迎来70周岁的生日,全国各族人民都为伟大祖国的发展进步感到无比自豪,特别是对改革开放以来取得举世瞩目的成就欢欣鼓舞,都对实现中华民族伟大复兴的中国梦充满信心,深信伟大的中国梦一定能实现。

为感悟祖国建设成就,热烈庆祝祖国70周岁生日,某中学准备开展一次主题手抄报活动。下图是其中一位同学设计的,现请你帮他完成相应内容。

(1)请在“主题”栏内,填写手抄报的主题。

(2)请在“展示成就”栏内列举两例中华人民共和国成立70年来取得的巨大成就。

(3)请在“科学依据”栏内阐述“伟大的中国梦一定能实现”的科学依据。



(4)请在“展望未来”栏内畅谈新时代青少年应怎样为共筑伟大复兴的中国梦做贡献。

主题 _____


展示成就



科学依据



展望未来



10. 感受诗词魅力 传承中华文化

材料一:始于2016年春节的《中国诗词大会》已举办四季。节目一度走红,来自各行各业、不同年龄的选手以诗为剑,一较高下,引人入胜,让观众叹为观止、拍案叫绝。《中国诗词大会》以“赏中华诗词,寻文化基因,品生活之美”为节目宗旨,将诗词内容进一步拓展,时间跨度数千年,涵盖中国文学史。带领全国观众重温经典诗词,激发记忆和情怀,在熟悉的“陌生题”中领会中华诗词文化的精髓。

材料二:总冠军获得者无论是高中学生武亦姝,还是外卖小哥雷海为,以及北大才女陈更,其才情都与长期古诗词争分夺秒的阅读和积累有关。

(1)结合材料,运用中华优秀传统文化的相关知识谈谈《中国诗词大会》电视节目走红的原因。

(2)结合材料谈谈举办诗词大会,提倡全民阅读有什么重要意义?



(3)请就如何在全社会倡导良好的全民阅读风尚,传承和弘扬中华优秀传统文化提出合理化建议。

11. 注重文明家庭建设 弘扬优良家风

某校九年级(4)班准备举办一次“建设文明家庭,弘扬优良家风”主题班会,请你参与。

[第一篇章:家庭传递亲情和温暖]

习近平指出,我们要重视家庭文明建设,发扬光大中华民族传统家庭美德,促进家庭和睦,促进亲人相亲相爱,促进下一代健康成长,促进老年人老有所养。努力使千千万万个家庭成为国家发展、民族进步、社会和谐的重要基点,成为人们梦想启航的地方。

(1)结合这段话谈谈我们为什么要注重家庭文明建设?

[第二篇章:守望优良家风]

习近平指出,家风好,就能家道兴盛、和顺美满;家风差,难免殃及子孙、贻害社会,正所谓“积善之家,必有余庆;积不善之家,必有余殃。”家庭的前途命运同国家和民族的前途命运紧密相连,千家万户都好,国家才能好,民族才能好。

(2)结合这段话说说守望优良家风有哪些重要意义?

[第三篇章:好家风助我成长]

习近平指出,家风是社会风气的重要组成部分。家庭不只是人们身体的住处,更是人们心灵的归宿。

(3)请你结合家庭实际,设计一个《我家的家风建设方案》。

(4)我们青少年该怎样弘扬优良家风?



第四部分 综合测试

综合测试题(一)

一、选择题(每题只有一个正确答案,每题2分,共20分)

- 2019年4月26日,住房和城乡建设部等9部门印发通知,决定自2019年起全面启动()。
A. 节约用水工作
B. 厕所革命工作
C. 垃圾分类工作
D. 营改增工作
- 2019年6月6日,工信部正式向中国电信、中国移动、中国联通、中国广电发放()商用牌照,标志我国正式进入()商用元年。
A. 4G 4G
B. 5G 5G
C. 5G 4G
D. 4G 5G
- 2019年10月28日,在北京召开的中国共产党第十九届中央委员会第四次全体会议指出全党的重大战略任务是()。
①坚持和完善中国特色社会主义制度
②推进国家治理体系和治理能力现代化
③制定和修改宪法
④推进祖国完全统一
A. ①③
B. ①②
C. ②④
D. ②③
- 小亮的朋友小刚偷偷跑去网吧玩游戏,让小亮帮忙打掩护,并再三叮嘱小亮不要告诉老师和家长。小亮反复考虑之后,向老师说明了此事。因为小亮懂得()。
①朋友相处,需要坚持原则
②友谊是珍贵的物质财富,需要谅解朋友的过错
③友谊需要信任和忠诚,但不等于不加分辨地为朋友做任何事
④当朋友误入歧途时,要予以规劝
A. ①②③
B. ①②④
C. ①③④
D. ②③④
- “大山不让土壤,故能成其大;河海不择细流,故能就其深;王者不却众庶,故能明其德。”这段话启示我们与人交往要()。
A. 与人为善、以礼待人
B. 平等待人,树立合作意识
C. 学会宽容,培养豁达胸怀
D. 宽容他人,不讲原则
- “时代楷模”95岁的张富清是湖北来凤县一名离休干部,他一生深藏功名,赫赫战功,64年来从未向人提及。在部队,他冒着枪林弹雨冲锋陷阵,在地方,他敬业工作无私奉献。张富清老人用朴实纯粹、淡泊名利书写了精彩人生。下列古诗词能体现他的事迹和精神的是()。
A. 不要人夸颜色好,只留清气满乾坤
B. 天生我才必有用,千金散尽还复来
C. 越王勾践破吴归,义士还家尽锦衣
D. 我劝天公重抖擞,不拘一格降人才
- 吾布力喀斯木·买吐送发表《致维吾尔族同胞觉醒书》,发出了对国家和人民的忠诚之声,倡导广大维吾尔族党员干部群众清醒认识到“三股势力”的罪恶本质,肩负起共同维护祖国统一、维护民族团结、维护



社会稳定的责任,对此认识正确的是()。

- ①反对分裂,就要反对一切形式的民族分裂活动,尤其是坚决反对借民族和宗教之名搞暴力恐怖活动
- ②维护国家统一、反对分裂,是爱国主义精神的具体体现
- ③维护国家统一,反对分裂,是每个公民义不容辞的责任
- ④维护国家统一,反对分裂,是国家的事,与普通人无关

A. ①②③ B. ①③④ C. ①②④ D. ②③④

8. 目前,我国人工智能整体发展水平与发达国家相比存在差距,缺少重大原创成果,在基础理论、核心算法及关键设备、高端芯片、重大产品与系统、基础材料、元器件、软件与接口等方面差距较大。为此,我国必须()。

- ①把人力资源作为第一资源优先开发,努力造就一大批高素质创新人才
- ②实行改革开放基本国策,将技术引进作为根基
- ③培育具有核心竞争力的企业
- ④把握世界新一轮科技革命和产业变革大势,深入实施创新驱动发展战略

A. ①②④ B. ②③④ C. ①②③ D. ①③④

9. “国内生产总值超过九十万亿元,稳居世界第二,对世界经济增长贡献率超过百分之三十”“高技术产业、装备制造业较快增长”,这反映了我国()。

- A. 社会主义制度不断完善
- B. 经济建设取得可喜成绩
- C. 民主建设取得巨大突破
- D. 人民生活水平显著提高

10. “修宪”过程体现了()。

2018年1月19日,十九届二中全会审议通过《中共中央关于修改宪法部分内容的建议》 → 2018年1月26日,中共中央向全国人大常委会提出《中国共产党关于修改宪法部分内容的建议》 → 2018年3月11日下午,十三届全国人大一次会议第三次全体会议经过投票表决,高票通过《中华人民共和国宪法修正案》

- ①中国共产党是中国特色社会主义事业的领导核心
- ②人大代表是国家的主人,对国家和社会事务享有监督权
- ③人民代表大会制度是我国的根本政治制度
- ④全国人民代表大会是我国的最高国家权力机关,享有最高立法权

A. ①②③ B. ②③④ C. ①②④ D. ①③④

二、分析题(28分)

11. 观察漫画,回答问题。

(1)说说国家对此类现象严打的法律依据。(3分)

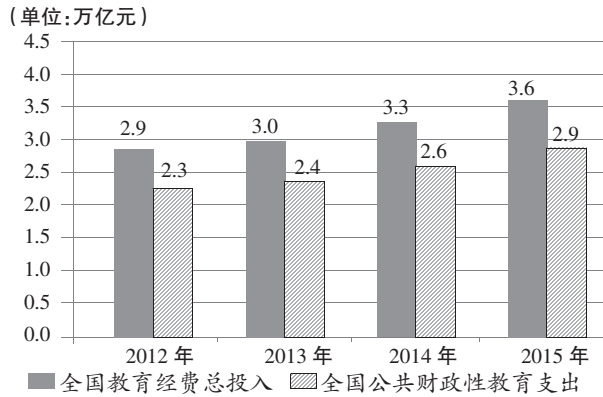


高额回报

(2)说说此类现象出现的原因。(5分)



12. 材料一：



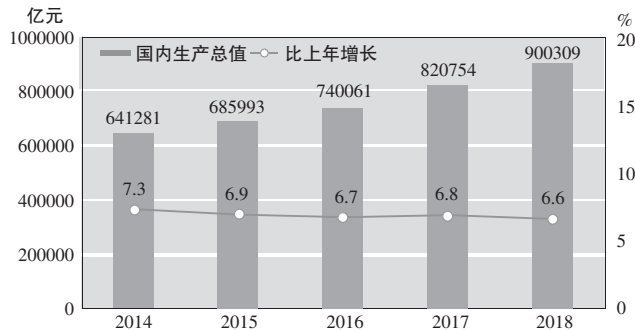
2012—2015 年我国教育经费总投入及公共财政性教育支出

材料二:《国家教育事业发展“十三五”规划》提出,到 2020 年我国教育现代化取得重要进展,教育总体实力和国际影响力显著增强。全民终身学习机会进一步扩大,九年义务教育巩固率、义务教育实现基本均衡的县(市、区)比例都达到 95%,高中阶段教育毛入学率达到 90%。教育质量全面提升,加快培养现代产业急需人才,创新能力明显提升,教育发展成果惠及全民。

(1)材料一说明了什么?(4分)

(2)结合材料,说明我国为什么要大力发展教育事业?(6分)

13. 材料一：



2014—2018 年国内生产总值及其增长速度

材料二:我国经济发展已进入“新常态”。所谓“新常态”,是指我国经济发展由过去高速度的发展状态,转为中高速、高质量和高水平发展的新状态,更加强调发展的效益和质量。改革开放 40 年来,我国经济以年均 9.8%的增速高速发展,经济总量居世界第二,创造了“中国奇迹”。但侧重速度和总量,有目共睹地带来了资源破坏、环境污染等一系列问题。

(1)从图表中可以看出我国经济发展有哪些变化?(4分)

(2)结合材料二,运用绿色发展理念的知识,说说你对我国经济发展“新常态”的认识。(6分)

三、应用与探究(22分)

14. 一天,中学生小林放学回家,看到小区门口的公共宣传栏贴了一则告示,内容如右。

(1)从告示中可以看出我国实行哪项基本政治制度?(3分)

(2)结合告示说说这项基本政治制度的优越性。(5分)

告 示

双城区新南街社区各位居民:
拟于12月28日下午15:00进行社区居委会换届选举。请社区内各住宅小区推选的候选人和居民代表及时参加会议。会上,将由上一届社区委员会主任向居民代表汇报过去一年的工作,接受居民监督。此外,针对本社区暖气普遍不热的问题商讨暖气改造及老旧楼房外墙增加保温层事宜。

双城区新南街社区居委会
2019年12月15日

15. 民族精神:铸就中国高铁之魂

我国现已成为世界上高铁发展最快、技术最全、里程最长、速度最高的国家。在10多年时间里,我国高铁走完了发达国家半个世纪的发展历程,拥有完全自主知识产权,全面领先世界。中国高铁获得如此大的成就,离不开中国高铁开拓者们永不服输、坚持不懈的拼搏精神。为打破国外巨头的技术垄断,把“中国制造”刷新成“中国创造”,不再受制于人,中国高铁的典型代表,长春轨道客车股份有限公司副总工程师常振臣和他的年轻团队,满怀强烈的责任感和使命感,战胜了一个个困难,攻破了一个个技术难题。通宵熬夜是家常便饭,“拎包就走”成了工作常态,黑发熬成了银丝,“压力山大”伴随着工作始终。常振臣团队顽强拼搏,艰苦攻关,创新之路越走越宽……

(1)上述材料体现了我国怎样的民族精神?(4分)

(2)结合材料,说明民族精神在中国高铁建设中发挥了怎样的作用?(7分)

(3)在当今时代,青少年应该怎样弘扬和培育民族精神?(要求:立足自身实际,真实、具体,至少3点)(3分)



综合测试题(二)

一、选择题(每题只有一个正确答案,每题2分,共20分)

- 2019年4月30日,纪念五四运动100周年大会在北京举行,习近平发表重要讲话强调,五四运动孕育的伟大五四精神,其核心精神是()。
A. 爱国主义 B. 团结统一 C. 爱好和平 D. 自强不息
- 2019年7月6日在阿塞拜疆巴库举行的第43届世界遗产大会上,获准列入《世界遗产名录》的中国古城遗址是()。
A. 乌镇 B. 丽江 C. 良渚 D. 大理
- 2019年12月2日,在全国上下埋头苦干、万众一心,决战决胜脱贫攻坚战之际,中宣部在北京向全社会宣传发布朱有勇的先进事迹,授予他()。
A. “时代楷模”称号 B. “感动中国年度人物”称号
C. “时代先锋”称号 D. “道德模范”称号
- 获得五个世界冠军的吴敏霞是中国跳水的活化石,她曾坦言:“自小在外人眼中,我一向不是运动员的料,但我能吃苦,不服输,默默努力,直到实现自己的目标。”她的言行告诉我们()。
①努力是一种积极进取的生活态度 ②继续努力是失败者专有的权利
③努力是对美好的不懈追求 ④努力是失败后重新再来的勇气
A. ①②③ B. ①②④ C. ②③④ D. ①③④
- 俗话说:“爱人者,人恒爱之。”只有学会为他人着想,自己有困难时才能得到别人的帮助。下列行为中属于为他人着想的有()。
①别人买名牌服装,我也买 ②在马路上不乱丢果皮
③放学后应早点回家,免得家人着急 ④积极参与赈灾募捐活动
A. ①②③ B. ①②④ C. ②③④ D. ①③④
- 班级格言往往是一个班级文化的集中体现。“进班一刻,七年级(2)班是我的;出班一步,我是七年级(2)班的”。这句班级格言主要要求全班同学()。
①牢固树立主人翁意识 ②自觉维护班集体的荣誉和利益
③努力为班级和老师而读书 ④正确认识和处理个人与集体的关系
A. ①②③ B. ①②④ C. ①③④ D. ②③④
- 纪录片《舌尖上的中国》自开播以来广受瞩目。比利时、新加坡等国纷纷购买版权,很多外国人想从中国美食开始,进一步了解中国文化。说明我国()。
①优秀传统文化的国际影响力日益增强 ②饮食文化是中华文化的重要组成部分
③重视弘扬中华优秀传统文化 ④饮食文化是世界上最优秀的文化
A. ①②③ B. ①②④ C. ①③④ D. ②③④



8. 2013年至2018年6年间,我国每年农村贫困人口减少都超过1000万人,累计脱贫8239万人;贫困发生率从2013年的8.5%下降到2018年的1.4%。这表明我国()。

- A. 扶贫开发工作成就辉煌
B. 农村城镇化的步伐加快
C. 贫困人口还是很多,全面小康根本无法实现
D. 还未解决人民的温饱问题

9. 我国之所以优化高等教育结构,实施“双一流”建设(世界一流大学和一流学科),是因为()。

- ①百年大计,教育为本
②教育是人们生存发展的第一需要和终身受益的财富
③教育是民族振兴和社会进步的基石
④教育是解决一切问题的基础和关键

- A. ①②③
B. ②③④
C. ①②④
D. ①③④

10. “十万青年同饮一杯中华茶”活动在台北举办的启动仪式,吸引了两岸逾60位各界人士参加,为茶与文化的系列推广活动揭开了序幕。开展此类活动()。

- ①是当代中国最鲜明的特色
②是因为两岸同胞同根同源、同文同种,是命运与共的骨肉兄弟,是血浓于水的一家人
③有利于两岸同胞增进理解、信任,增强对中华文化的认同,推动两岸关系和平发展
④有利于实现祖国完全统一和中华民族伟大复兴

- A. ①②③
B. ②③④
C. ①②④
D. ①③④

二、分析题(30分)

11. 观察漫画,回答问题。

(1)漫画中政府的做法是在保障公民的什么基本权利?(2分)



(2)行使这项权利时应注意什么?(2分)

(3)结合漫画说说公民依法行使这项权利的意义。(4分)

12. 民族精神——挺起中国创造的脊梁

港珠澳大桥全长55公里,是世界上最长的跨海大桥,被英国《卫报》评为“新世界七大奇观之一”。15年的设计、建造过程中,来自全国200多家科研单位的上千名科技工作者共开展了300余项科研攻关,创造了400多项新专利,使大桥创造了7项世界之最。沉管隧道是大桥建造最核心,也是难度最大的任务,岛隧工程总工程师林鸣和他的团队坚定“自主研发,掌握核心技术”的信念,发扬自强不息、坚持不懈的拼搏精神,用了6年时间,夜以继日地工作,从设计到施工,经过无数次的论证、研讨、优化,终于突破了精密的遥



控、测绘和超算等一系列高技术,打破国外的技术垄断,让隧管在海底实现精准对接……

(1)上述材料生动地诠释了中华民族怎样的民族精神?(3分)

(2)结合材料,说说民族精神在港珠澳大桥建设中发挥了怎样的作用?(6分)

(3)在当今时代,青少年应该怎样弘扬和培育民族精神?(3分)

13. 改革开放 新时代中国发展的活力之源

李克强总理在2019年政府工作报告中指出,一年来,我国改革开放取得新突破。国务院及地方政府机构改革顺利实施。重点领域改革迈出新的步伐,市场准入负面清单制度全面实行,简政放权、放管结合、优化服务改革力度加大,营商环境国际排名大幅上升。对外开放全方位扩大,共建“一带一路”取得重要进展。首届中国国际进口博览会成功举办,海南自贸试验区启动建设。货物进出口总额超过30万亿元,实际使用外资1383亿美元,稳居发展中国家首位。

结合材料说说我国为什么要将改革开放进行到底?(10分)

三、应用与探究(20分)

14. 14岁的留守儿童小明上八年级,父母长期在外打工。两年前,父母离异,小明跟爸爸生活。爸爸再婚后,不再管小明,小明只好跟生母去生活。由于没有好的生活和学习习惯,他经常迟到,旷课,作业也不及时完成,考试成绩很差。老师找到小明妈妈说明情况,妈妈骂小明蠢货,并将小明关进黑屋子反省了一周,不让到校上课。

(1)材料中的哪些人的行为分别违反了我国宪法关于公民基本权利和义务的哪些规定?(5分)



(2)小明该如何维护权利?(3分)

15. 持续打好污染防治攻坚战 巩固碧水蓝天净土工作

针对我国大面积雾霾、水污染及水资源短缺、土壤严重污染的状况,2019年《政府工作报告》提出,巩固扩大蓝天保卫战成果,持续开展京津冀及周边、长三角、汾渭平原大气污染防治攻坚,加强工业、燃煤、机动车三大污染源治理。强化水、土壤污染防治,加快治理黑臭水体,推进重点流域和近岸海域综合整治,加强固体废弃物和城市垃圾分类处置。

同时,中央环保督察组加大对各省市环境保护督察及环境违法案件的查办力度,2019年7月10日至8月15日,8个中央生态环境保护督察组完成对上海、福建、海南、重庆、甘肃、青海等6个省(市)和中国五矿集团有限公司、中国化工集团有限公司两家中央企业的督察进驻工作。截至8月25日,各督察组共受理转办群众举报18868件,约谈党政领导干部1556人,问责298人。

(1)材料反映了我国面临着怎样的国情?(4分)

(2)结合材料说说国家打响环保战役,走绿色发展道路的重要性。(4分)

(3)守护碧水蓝天,你有哪些好的建议?(两个角度作答)(4分)



综合测试题(三)

一、选择题(每题只有一个正确答案,每题2分,共20分)

1. 2019年4月26日,习近平主席出席第二届“一带一路”国际合作高峰论坛开幕式并发表主旨演讲指出,我们要秉持的原则是()。
- A. 开放、绿色、廉洁
B. 共商共建共享
C. 高标准、惠民生、可持续
D. 自由、公平、非歧视
2. 2019年6月17日,在德国法兰克福举行的国际超级计算机大会发布了全球超算500强最新榜单,其中有219台超算上榜,位列世界第一的国家是()。
- A. 美国
B. 日本
C. 德国
D. 中国
3. 2019年11月5日至11月10日,第二届中国国际进口博览会在上海国家会展中心圆满举办。作为以“进口”为主题的国家级展会,第二届进博会()。
- ①表明中国政府坚定支持贸易自由化和经济全球化
②是中国主动向世界开放市场的重大举措
③有利于促进世界各国加强文化交流合作,展示中国文化是世界上最优秀的
④促进全球贸易和世界经济增长,推动开放型世界经济发展
- A. ①③④
B. ①②③
C. ①②④
D. ②③④
4. “人本身就是带着缺点降临到这个世界上的,人生的过程就是在不断改掉缺点、完善自己的过程。因此,敢于挖掘和暴露自己的缺点是非常有必要的。”挖掘和暴露自己的缺点()。
- ①是学会接纳自己的表现
②需要决心信心勇气毅力
③是真正欣赏自己的表现
④利于我们做更好的自己
- A. ①②③
B. ②③④
C. ①②④
D. ①③④
5. “时间都去哪儿了?还没好好感受年轻就变老了,生儿养女一辈子,满脑子都是孩子哭了笑了……”这是马年央视春晚的节目,真挚平实的歌词感动了全国上下,作为子女,报答父母应()。
- ①从生活中点滴小事做起
②尊重父母,热爱父母,回报父母
③对父母有礼貌,听取父母教诲,体恤父母辛劳
④让父母满足自己一切要求
- A. ①③④
B. ①②③
C. ①②④
D. ②③④
6. 某公司经理在招聘员工时说:“对于一个公司来讲,员工首先应诚实守信,其次才是有才能。”公司聘用了有才能而不守信的人,比公司聘用了能力差的人危害更大。这启示我们()。
- ①诚信是一个重要的行为准则
②诚信是一个人融入社会,取得他人信任的基础
③有了诚实守信的品质,就能成为有真才实学的人
④诚信是一个集体、一个社会健康有序发展的关键因素
- A. ①②③
B. ①②④
C. ①③④
D. ②③④



7. 中共中央、国务院印发的《乡村振兴战略规划(2018—2022)》指出:实施乡村振兴战略,是建设现代化经济体系的重要基础,是建设美丽中国的关键举措,是传承中华优秀传统文化的有效途径,是健全现代社会治理格局的固本之策。由此可见,实施乡村振兴规划()。

- ①是解决人民日益增长的美好生活需要和不平衡不充分的发展之间矛盾的必然要求
- ②是实现“两个一百年”奋斗目标的必然要求
- ③是实现全体人民共同富裕的必然要求
- ④是解决农村的所有问题的关键

A. ①②③ B. ①②④ C. ①③④ D. ②③④

8. 右侧漫画说明()。

- ①人大代表代表人民说话,代表人民办事
- ②在我国,人民代表大会制度是实现人民当家作主、管理国家的重要途径和有效形式
- ③在我国,人民通过直接选举选出自己的代表,组成人民代表大会,集中行使国家权力
- ④人民代表大会是我国的根本政治制度



A. ①② B. ③④ C. ②③ D. ①④

9. 在各大卫视引入国外版权节目、争抢明星综艺真人秀份额的浪潮下,央视《中国诗词大会》作为一档文化竞技类节目,独辟蹊径,实现了口碑和收视率的双赢。这()。

- ①彰显了中华传统文化的魅力
- ②有利于在创新中弘扬中华传统文化
- ③有利于增强人民群众的文化参与感、获得感和认同感
- ④说明了中华文化一枝独秀、大放异彩

A. ①②③ B. ①②④ C. ②③④ D. ①③④

10. 设立南南合作基金、增加对不发达国家投资、力争 2030 年达到 120 亿美元,免除最不发达国家和部分发展中国家的部分债务,设立国际发展知识中心,倡议探讨构建全球能源互联网等,并通过“一带一路”建设为发展中国家经济和民生发展做出贡献。这表明()。

- ①和平、合作与发展是当今时代的主题和潮流
- ②我国坚持对外开放的基本国策,是一个和平、合作、负责任的大国
- ③我国综合国力和国际影响力不断增强,是维护世界稳定与发展的重要力量
- ④在各国经济日益相互依赖、相互影响的经济全球化中,我国的经济实力最为强大

A. ①②③ B. ①③④ C. ②③④ D. ①②④

二、分析题(28 分)

11. 观察漫画,回答问题。

(1)结合漫画说说中间那个孩子的什么权利被侵害了?(2分)



(2)从正义的角度谈谈国家印发《关于防治中小学生欺凌和暴力的指导意见》有什么重要意义?(4分)

12. 2019年5月20日至22日,习近平总书记在江西考察时强调,脱贫攻坚已经进入决胜的关键阶段,各地区各部门要再加把劲,着力解决好“两不愁三保障”突出问题,让老区人民过上幸福生活。城镇化和乡村振兴互促互生。要把乡村振兴起来,把社会主义新农村建设好。要加强乡村人居环境整治和精神文明建设,健全乡村治理体系,使乡村的精神风貌、人居环境、生态环境、社会风气都焕然一新,让乡亲们过上令人羡慕的田园生活。

(1)习近平总书记强调着力解决好“两不愁三保障”突出问题,让老区人民过上幸福生活。这说明了什么?(4分)

(2)请结合习总书记在江西考察时的讲话,为乡村振兴建言献策。(6分)

13. 深入推进改革开放 为宁夏发展增添无穷活力

材料一:宁夏以改革开放40周年为契机,大力推动31项重大改革,制定审批服务便民化意见,开展减证便民行动,取消调整行政职权76项,政务服务事项网上可办率达80.4%,企业开办时间由平均20个工作日压缩到5个工作日。全年新注册市场主体增长5.1%、每天近300家。深化国资国企改革,全区混合所有制企业达185家。

材料二:丝路重镇宁夏,如今正借着“一带一路”东风,迎来新的开放机遇。宁夏充分发挥中阿博览会的平台,“引进来”与“走出去”并举:吸引世界各地投资者来宁投资,国际知名企业相继落户宁夏;同时,枸杞进入阿拉伯市场、葡萄酒打入欧美,品牌企业积极拓展国际营销网络,带动了宁夏高新技术、现代农业等特色优势产业产品出口。充分发挥中国—中亚—西亚、中蒙俄经济走廊节点优势,重点加强西向和北向通道建设,主动对接南向“陆海新通道”,加快构建内畅外联、通疆达海、多式联运的贸易物流大通道。目前,宁夏正依托自身优势和产业发展特点,从陆上、空中和网上构建起新的立体开放格局。

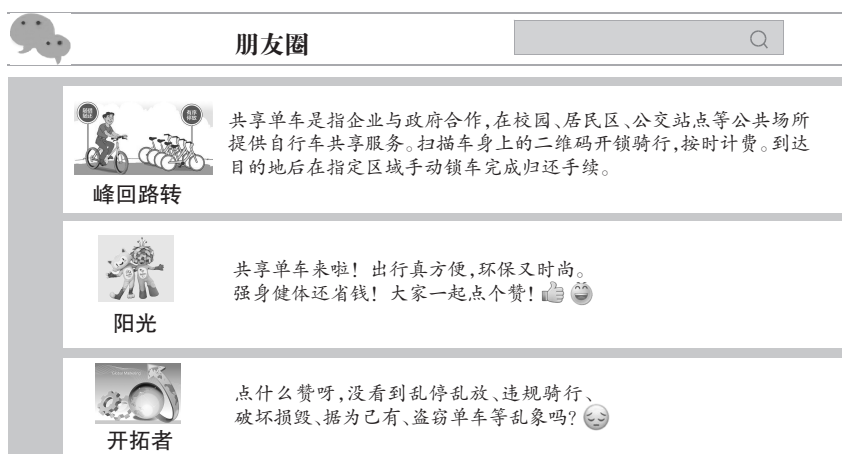
(1)结合材料说说宁夏深入推进改革开放的意义。(6分)

(2)结合材料谈谈宁夏是如何借“一带一路”东风,构建立体开放格局的?(6分)



三、应用与探究(22分)

14.



结合图表,从正确行使权利的角度,谈谈公民应如何使用共享单车?(8分)

15. 宁夏是回族聚居的少数民族地区,这里水资源匮乏,大大制约了农业经济的发展。为改善这种状况,自治区科技厅将“宁夏干旱区设施蔬菜(温棚种植蔬菜)综合节水技术与示范”项目列为国家科技课题,经过实验,在示范区内取得了显著成效。这一科技成果在保证产量提高的同时,减少农药使用量30%、肥料使用量25%以上,每亩节水30%~70%、新增收入800元。为我区乃至西北半干旱区设施蔬菜的可持续发展提供了技术支撑。

(1)以“干旱地区发展设施蔬菜”为例,说明科技创新在实施可持续发展战略中的作用。(10分)

(2)科技创新,人才为本。我们青少年怎样才能成为创新型人才?(4分)



综合测试题(四)

一、选择题(每题只有一个正确答案,每题2分,共20分)

1. 2019年5月23日,时速600公里的某试验样车在青岛下线,这是我国该技术的重大突破。该样车是()。
- A. 新能源电动汽车
B. 地铁列车
C. 高速磁浮试验样车
D. “复兴号”动车
2. 2019年8月7日,国务院港澳办指出,香港当前最急迫和压倒一切的任务,就是()。
- ①发展经济科技 ②止暴治乱 ③恢复秩序 ④共同守护我们的家园
- A. ①②③ B. ②③④ C. ①②④ D. ①③④
3. 2019年10月1日,首都北京举行庆祝大会,有阅兵、群众游行、颁授国家勋章和国家荣誉称号等隆重热烈的庆祝活动,庆祝中华人民共和国成立()。
- A. 60周年 B. 65周年 C. 70周年 D. 75周年
4. 王亮发现自己的好朋友李明今天不太开心,出于关心,他去问李明发生了什么,可李明却说:“我想一个人静一会儿,你别问了!”此时,王亮应当()。
- A. 继续追问李明究竟发生了什么事情
B. 责怪李明,以后再也不理睬他
C. 尊重李明,给他思考的空间
D. 与其他同学讨论分析李明不开心的原因
5. “你跋涉了许多路,总是围绕着大山;吃了很多苦,但给孩子们的都是甜。坚守才有希望,这是你的信念。三十六年,绚烂了两代人的童年,花白了你的麻花辫。”这是《感动中国》对感动人物支月英老师的颁奖词。以下对支老师诠释正确的是()。
- ①知识的传授者和人格的影响者,人类文明的传承者
②学生最真挚的朋友,相互间可以称兄道弟,打成一片
③有理想信念、有道德情操、有扎实学识、有仁爱之心
④“春蚕到死丝方尽,蜡炬成灰泪始干”
- A. ①②③ B. ②③④ C. ①②④ D. ①③④
6. 《健康中国行动(2019—2030年)》明确提出:中小学要把学生健康知识、急救知识,特别是心肺复苏纳入考试内容,把健康知识、急救知识的掌握程度和体质健康测试情况作为学校学生评优评先、毕业考核与升学的重要指标。如果给这段内容起个标题,最恰当的是()。
- A. 生命高于一切,自己生命最为重要
B. 生命脆弱艰难,人要学会听天由命
C. 生命崇高神圣,个人力量微不足道
D. 生命来之不易,为挽救生命而努力
7. 宁夏回族自治区成立60年来,各民族始终坚持共同繁荣进步,守护安定团结的生命线,构建中华民族命运共同体,把祖国的西北内陆打造得更加亮丽。这体现出()。
- A. 我国坚持民族区域自治的基本国策
B. 民族自治区行使自治权,可以自由管理本民族事务
C. 各族人民形成了平等、团结、互助、和谐的民族关系
D. 民族之间相互融合,已没有任何差异



8. 我国坚持在发展中保障和改善民生,在幼有所需、学有所教、劳有所得、病有所医、老有所养、住有所居、弱有所扶上不断取得新进展的做法()。

- ①有利于全面建成小康社会,确保人民在共建共享发展中有更多的获得感
- ②体现了以弱势群体为中心的发展思想
- ③有助于维护社会公平、缩小城乡差距
- ④是全面贯彻落实习近平新时代中国特色社会主义思想、构建社会主义和谐社会的必然要求

A. ①②③ B. ②③④ C. ①②④ D. ①③④

9. 2019年3月3日,中国人民政治协商会议第十三届全国委员会第二次会议在北京召开。会议期间,政协委员积极议政建言,提出了许多真知灼见,生动践行了社会主义协商民主,充分发挥了人民政协的独特优势和作用。这说明,我国坚持()。

- A. 人民代表大会制度
- B. 民族区域自治制度
- C. 基层群众自治制度
- D. 中国共产党领导的多党合作和政治协商制度

10. 下列能直接体现新时代社会主要矛盾的是()。

- ①中宣部授予杜富国、张富清、余元君“时代楷模”称号
- ②民营和小微企业融资难融资贵
- ③《关于深化新时代学校思想政治理论课改革创新的若干意见》发布
- ④公共安全事件和重大生产安全事故频发

A. ①② B. ②③ C. ②④ D. ①④

二、分析题(28分)

11. 观察漫画,回答问题。

(1)从平等的角度评论该公司招聘员工的做法。(4分)



如此招聘

(2)如果你是其中的招聘者,你应如何依法维权?(4分)

12. 5G 带给我们不一样的生活

5G,全称第五代移动电话行动通信标准,也称第五代移动通信技术。最近,中学生小芳上网了解到中国5G网络时代即将拉开序幕,据知5G网络峰值速率将达到4G网络十倍以上,时延达到毫秒级以下。首先,高达1.25GB每秒的下载速度,一秒钟下一部高清电影不再是梦!其次,能促进VR虚拟游戏、无人驾驶,当然还有我们关心的网速、网络掉线问题也会得到更好的优化提升。可以说,5G网络时代真的离我们越来越近了。2019年下半年华为推出5G手机。小芳不由地感叹道:“5G的背后,蕴含着多少科学家的创新成果啊!我相信,加快创新步伐,不断



培养出人才,我国还会创造出更多的奇迹!”

(1)材料反映出我国实施了什么战略?(4分)

(2)结合小芳的感想及她了解的资料,说说创新的必要性。(6分)

13. 材料一:党的十九大报告指出,要坚定文化自信,推动社会主义文化繁荣兴盛。文化自信是一个国家、一个民族发展中更基本、更深沉、更持久的力量。没有高度的文化自信,没有文化的繁荣兴盛,就没有中华民族伟大复兴。《战狼 II》《红海行动》《厉害了,我的国》《我和我的祖国》《中国机长》《攀登者》……当主旋律电影牢牢占据大众文化主流市场,并频繁引发外界关注、掀起讨论热潮时,已然是文化自信的最好例证。

材料二:《国家宝藏》收官后,央视再现文化综艺爆款。“把古诗文给唱出来”,大型文化节目《经典咏流传》自2018年2月16日播出后,赢得了不错的收视和口碑。其中,改编自清代袁枚诗作的《苔》更是一夜之间刷屏。通过今人的改编传唱,这首孤独了300年的小诗重新走入人们的视野,感动无数观众,也达到了该节目“用今天的旋律重新谱写和传唱古诗文,让经典再一次流行”的目的。

(1)请结合材料从中华优秀传统文化特点及作用的角度谈谈我们的文化自信来自哪里?(两个角度,4分)

(2)从如何让中华文化更加辉煌灿烂的角度谈谈《经典咏流传》之类的文化节目的热播对我们树立文化自信有何启示?(三个方面,6分)

三、应用与探究(22分)

14. 从2019年8月到2020年1月,22岁的无业村民梁某,伙同同村19岁的杨某、21岁的郭某,每晚23点左右出动,先后骑电动车出没于县城各个街道上,跟踪单独出行妇女伺机抢夺女士背包。先后作案10起,抢得财物总值约12万元。县人民检察院以梁某等三人涉嫌抢夺罪,向县人民法院提起公诉。县人民法院审理认定,梁某等人严重侵害他人财产权,危害社会治安,社会影响恶劣,以抢夺罪判处梁某有期徒刑3年,并处罚金30000元;其他成员被判1—2年不等的有期徒刑,并处罚金10000—20000元。



结合案例说说人民法院和人民检察院的职权。(6分)

15. 3月22日是“世界水日”,每年的3月22日起至28日是“中国水周”。2019年,我国纪念“世界水日”和开展“中国水周”活动宣传主题为“坚持节水优先,强化水资源管理”。某校以此为契机,在全校开展了主题探究活动,请你参与。

【活动一】为了让同学们了解我国水资源形势,有同学绘制了图表。

【活动二】有同学搜集到一则材料:长期以来,人们为了获得足够的水资源以支撑发展,盲目地开发利用水资源,特别是许多地区在对地下水资源的开采中存在着超采现象,然而目前我国相关的法律法规在这方面的处罚过轻,从而无法有效遏制此类违法行为;同时,由于设备的陈旧、污水处理技术落后等问题造成水资源的重复利用率低,水污染日益严重;此外我国居民家庭生活用水也存在不少隐性的浪费,以北京市为例,用水量超过8吨/月的用户占总用户的50%至80%。



(1)图表说明了什么?(4分)

(2)结合活动二的材料谈谈我国坚持节水优先,强化水资源管理的必要性。(6分)

(3)请你就图表和材料中反映的问题为建设节水型社会出谋划策。(6分)



宁夏回族自治区 2018 年初中学业暨高中阶段招生 思想品德试题

一、选择题(选出每题中唯一正确的答案。每小题 2 分,共 20 分)

- 2017 年 4 月 24 日,国务院决定将每年 5 月 10 日设立为()。
A. 中国质量日 B. 中国品牌日 C. 中国安全日 D. 中国阅读日
- 2017 年 8 月 17 日,教育部印发《中小学德育工作指南》,提出中小学德育的“五项主要内容”:理想信念教育、社会主义核心价值观教育、中华优秀传统文化教育、生态文明教育和()。
A. 综合实践活动 B. 文明礼仪教育 C. 心理健康教育 D. 行为规范教育
- 2017 年 10 月 13 日,上海获得 2021 年第 46 届世界技能大赛举办权。世界技能大赛是世界技能领域的“奥林匹克”,在中国举办,有利于()。
①推动中国同各国在技能领域的交流互鉴 ②推动中国技能人才建设,弘扬工匠精神
③带动中国民众关注、热爱、投身技能活动 ④从根本上培养我国的创新人才
A. ①②③ B. ①②④ C. ①③④ D. ②③④
- 2017 年 10 月 18 日至 24 日,中国共产党第十九次全国代表大会在北京召开。习近平代表第十八届中央委员会向大会作了题为《决胜全面建成小康社会 夺取中国特色社会主义伟大胜利》的报告()。
A. 新阶段 B. 新征程 C. 新时期 D. 新时代
- 2018 年 4 月 12 日,中央军委隆重举行了新中国历史上规模最大的海上阅兵()。
A. 东海大阅兵 B. 南海大阅兵 C. 渤海大阅兵 D. 黄海大阅兵
- 李克强总理在 2018 年政府工作报告中指出:今年是改革开放 40 周年,必须大力推进改革开放。这是因为,改革开放是()。
①是强国之路 ②是决定当代中国命运的关键抉择
③是我国现阶段的中心工作 ④是实现中华民族伟大复兴的必由之路
A. ①②③ B. ①③④ C. ②③④ D. ①②④
- 近年来,我国科学家和工程技术人员为国拼搏、无怨无悔,在多个领域不断刷出中国新高度、世界新纪录。他们身上体现了()。
①以爱国主义为核心的民族精神 ②创新是科学家的专利
③无私奉献、勇攀高峰的精神 ④以改革创新为核心的时代精神
A. ①②③ B. ①②④ C. ①③④ D. ②③④
- 2018 年 3 月 5 日至 20 日,十三届全国人大一次会议,完成了宪法修改的崇高任务,审议通过监察法、国务院机构改革方案,审议批准了政府工作报告和其他报告,选举和任命了新一届国家机构领导人员。这说明了()。
①在我国,国家的一切权力属于人民 ②全国人民代表大会是我国最高国家权力机关
③人民代表大会是我国的根本政治制度 ④我国是人民当家作主的法治国家
A. ①② B. ①③ C. ②④ D. ③④



9. 厕所,关乎百姓生活,折射文明风尚,也关系国家形象。习近平总书记强调要坚持不懈推进“厕所革命”,努力补齐影响群众生活品质短板。这说明()。

- ①我们党不忘初心,坚持全心全意为人民服务
- ②党和国家致力于改善人民群众的生活环境,提高人民群众的幸福感
- ③“厕所革命”是解决当前百姓生活问题的关键
- ④“厕所革命”是建设美丽乡村、改善和保护环境的重要举措

A. ①②③ B. ②③④ C. ①②④ D. ①③④

10. 中国一直以来用实际行动推动经济全球化进程,反对各种保护主义,将继续推动全面开放,推动构建人类命运共同体。这体现了我国()。

- ①是一个重合作、负责任的国家
- ②坚持对外开放的基本国策
- ③是维护世界和平与稳定的重要力量
- ④在国际事务中起着决定性作用

A. ①②③ B. ①②④ C. ①③④ D. ②③④

二、分析题(共 29 分)

11. 观察漫画《礼让斑马线》,运用法律知识回答。(6分)

(1)“礼让斑马线”有什么现实意义?

(2)怎样让“礼让斑马线”成为一道亮丽的风景线?(至少从两个角度作答)



礼让斑马线

12. 阅读材料,回答问题。

材料一:首艘国产航母下水、世界首台量子计算机诞生、首架国产大飞机成功首飞、“墨子号”量子卫星成功实现 1200 公里量子通讯、新型高速列车“复兴号”投入运营……一系列重大科技成果频频亮相,展现了我国雄厚的实力,也彰显了我国精益求精的科学精神。

材料二:全球 77% 的手机是中国制造,但其中不到 3% 的手机芯片是国产的。数据显示,2016 年中国进口芯片金额高达 2300 亿美元,花费几乎是排在第二名的原油进口金额的两倍。互联网核心技术是我们最大的“命门”,核心技术受制于人是我们最大的隐患。

(1)材料反映了我国怎样的科技现状?(4分)

(2)解决材料二中问题的关键是什么?结合材料二说说这一关键的重要性。(7分)



13. 阅读材料,回答问题。

材料一:

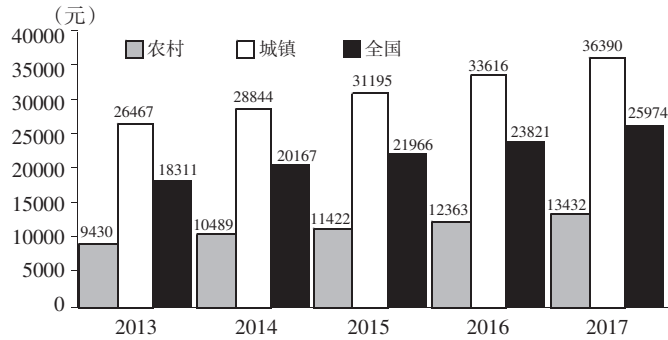


图 2013—2017 年全国、城镇和农村居民人均可支配收入情况

材料二:我区实施乡村振兴战略的重点是:围绕一个核心,以农民增收为核心;突出一条主线,以深入推进农业供给侧结构性改革为主线;实施一大工程,即实施特色优质农产品品牌工程;构建三大体系,即着力构建现代农业产业体系、生产体系和经营体系;推进六项行动:一是粮食产业优化提升行动,二是草畜产业转型升级行动,三是瓜菜产业提质增效行动,四是第一、第二、第三产业融合发展行动,五是农业绿色循环示范行动,六是特色产业精准扶贫行动。力争到 2020 年与全国同步进入全面小康社会。

(1)材料一说明了什么?(4分)

(2)结合我国小康社会现状,依据材料二谈谈宁夏实施乡村振兴战略措施的意义。(8分)

三、应用与探究题(共 21 分)

14. 阅读材料,回答问题。

近年来,食品安全问题屡屡被曝光,尤其是包围校园的“五毛食品”,因其价格低廉、口味辛辣、色泽艳丽,受到儿童和青少年青睐。校园正在成为“五毛食品”的消费市场。



“五毛食品”是我的最爱,上课想吃,下课快快吃,放学慢慢吃。

全国各地整治清查校园周边“五毛食品”维护了学生的哪些权利?如何让自己成为一个聪明的消费者?(8分)



“五毛食品”没有生产日期、保质期,还含有很多有害添加剂、防腐剂,安全吗?



最近,全国各地都在集中力量整治清查校园周边“五毛食品”。



15. 阅读材料,回答问题。

绿色颜值更美丽

天蓝、地绿、水清的美丽中国日益鲜明。2016年全国优良天数比例达到了78.8%;5年来,全国空气质量达标的城市从3个增加到84个,在京津冀、长三角、珠三角造成雾霾的细颗粒物(PM2.5)与2013年相比下降了30%;全国酸雨面积由占国土面积最高点的30%下降到7.2%;地表水良好比例达到67.8%,江河干流水质稳步改善;土壤污染详查全面启动,覆盖了全国99%的县、88%的粮食主产区。

我国水电、风电、太阳能发电稳居全球首位,核电在建规模世界第一。在我国,每小时就有一座足球场面积大小的太阳能电池板被安装,中国已成为全球能源转型的第一动力。如今,我国超过1/4的电力来自清洁能源,电动汽车产销量、保有量全球占比均超50%。

(1)天蓝、地绿、水清的美丽中国日益鲜明,得益于我国坚持了什么基本国策?(2分)

(2)根据可持续发展的内涵,结合材料谈谈我国积极致力于能源转型对建设美丽中国有什么积极影响?(8分)

(3)建设美丽中国,你能做些什么?(3分)



宁夏回族自治区 2018 年初中毕业暨高中阶段招生 思想品德试题评分标准及参考答案

一、选择题(每小题 2 分,共 20 分)

题号	1	2	3	4	5	6	7	8	9	10
答案	B	C	A	D	B	D	C	A	C	A

分析题和应用与探究题评分要求:

1. 依据评分要求与评分思路,不死抠参考答案,学生意思答对就可酌情给分。
2. 给分要注意区分度,把优、中、差区分出来。对能提取有效信息,言之有据,能发表自己的见解,回答有创意的学生,或能从不同角度思考、回答问题且条理清晰、逻辑严密、准确表达、材料与知识完整、全面结合的学生应给鼓励分(但不超出各题分值)。

二、分析题(共 29 分)

11. (1)“礼让斑马线”有什么现实意义?(3 分)

评分要求 须用法律知识、法律术语作答,不能有错别字。答出 3 点即得 3 分,若学生只从生命健康权的重要性角度作答可得 2 分。

参考答案 礼让是友善的体现,“礼让斑马线”①有利于保护公民的生命健康权;②有利于规范驾驶员和行人的行为,做到文明出行;③有利于公民养成自觉遵守交通法规的习惯;④有利于弘扬中华民族传统美德,形成良好的社会风尚;⑤有利于文明城市的建设等。

(2)怎样让“礼让斑马线”成为一道亮丽的风景线?(至少从两个角度作答)(3 分)

评分要求与评分思路 从驾驶员、行人、有关部门、社会、国家等任意两个角度作答即可得 3 分,若学生只从一个角度作答可得 2 分。

知识 学法、知法、守法;增强自我保护意识、提高自我保护能力。

参考答案 要让“礼让斑马线”成为一道亮丽的风景线,驾驶员:应严格遵守交通法规,增强法律意识和安全意识,礼让行人,关爱自己和他人的生命健康;行人:要自觉遵守交通法规,增强法律意识、安全意识和自我保护意识,文明出行;有关部门:要加强交通监管,加大执法力度,严厉打击侵害公民生命健康权的行为;社会:要加大宣传力度,营造良好的社会氛围;国家:要制定和完善相应的法律法规,用法律来规范人们的行为等。

12. (1)材料反映了我国怎样的科技现状?(4 分)

评分要求与评分思路 从科技方面的成就和差距两个方面作答,每个角度 2 分。

参考答案 人教版:在尖端技术的掌握和创新方面,我国已建立起坚实的基础,在一些重要领域已走在世界的前列。但从整体上看,我国科技创新能力不强,科技总体水平同世界先进水平相比仍有较大差距,同我国经济社会发展的要求还有许多不相适应的地方。鲁教版:我国科技事业取得了辉煌成就,在一些领域处于世界领先地位,但从整体上看,我国科技的发展水平还比较落后,与发达国家相比仍有较大差距。粤教版:我国的科技事业虽然取得了很大的发展,科技实力得到了较大幅度的提高,但从整体上看,同发达国家相比仍有很大差距。



(2)解决材料二中问题的关键是什么?(2分)

评分要求 从创新是关键作答得2分,若学生作答科教兴国和人才强国战略可得1分。不能有错别字。

参考答案 关键是必须加强科技创新和教育创新或科技创新或自主创新。

结合材料二说说这一关键的重要性。(5分)

评分要求与评分思路 结合材料得2分,从科技创新的重要性作答3点得3分。若学生作答科学技术的重要性可得1分。

参考答案 材料:互联网核心技术是我们最大的“命门”,核心技术受制于人是我们最大的隐患。

知识 人教版:科技创新能力,已越来越成为综合国力竞争的决定性因素。在激烈的国际科技竞争面前,如果我们的自主创新能力上不去,一味靠技术引进,就永远难以摆脱技术落后的局面。而要提高科技创新能力,首要的是提高教育创新能力。鲁教版:创新是一个民族进步的灵魂,是一个国家和民族兴旺发达的不竭动力。科学技术的本质就是创新。只有把科技进步的基点放在增强自主创新能力和持续创新能力上,才能实现我国科学技术的跨越式发展,真正掌握发展的主动权。没有创新就会受制于人,没有创新,就不可能赶超发达国家。粤教版:科技创新是提高综合国力的战略支撑,处于国家发展全局的核心位置。只有大力推进科技创新和教育创新,才能适应经济社会发展的需要;才能变人口大国为人力资源强国,化人口压力为人才优势;才能从根本上提高中华民族的创新能力和建设创新型国家。

13.(1)材料一说明了什么?(4分)

评分要求与评分思路 从我国城乡居民人均可支配收入不断增加和我国城乡发展不平衡两个方面作答,每一个方面得2分。若学生作答我国小康社会现状内容可得1分。

参考答案 通过读图表可以看出:2013—2017年我国城乡居民人均可支配收入不断增加,说明我国经济不断发展,人民生活水平不断提高;但城乡居民人均可支配收入之间仍存在较大差距,说明我国城乡发展不平衡。

(2)结合我国小康社会的现状,依据材料二谈谈宁夏实施乡村振兴战略措施的意义。(8分)

评分要求与评分思路 我国小康社会的现状得3分;材料得2分;意义得3分。能从两个方面作答意义即可得3分。若从一个方面作答即可得2分。

知识 我国小康社会的现状、共同富裕、全面建成小康社会。

参考答案 我国小康社会的现状:我国现在达到的小康还是低水平的、不全面的、发展很不平衡的小康。从材料二可以看出,宁夏实施乡村振兴战略的重点是:围绕一个核心,突出一条主线,实施一大工程,构建三大体系和推进六项行动。这些措施的实施:有利于缩小城乡差距,实现共同富裕;有利于全面建成小康社会,构建和谐社会;有利于增加农民收入,提高农民生活水平;有利于乡村振兴,促进我国农业发展等。

三、应用与探究题(共21分)

14.全国各地整治清查校园周边“五毛食品”,维护了学生的哪些权利?(3分)

评分要求 从消费者享有的权利方面作答,答出一项权利得1分,答出三项权利得3分。若学生答的是生命健康权也可得1分。

参考答案 人教版:安全权、知情权、公平交易权。鲁教版:人身财产安全权、知情权(知悉真实情况权)公平交易权。粤教版:安全保障权、知悉真情权、公平交易权。



如何让自己成为一个聪明的消费者?(5分)

评分要求与评分思路 人教版:从消费前、消费中、侵权后三个角度作答得5分。若只从消费前、消费中作答或只从侵权后作答均得3分。鲁教版、粤教版:侵权前得2分,侵权后得3分。

参考答案 人教版:要成为一个聪明的消费者,就要做到增强自己的判断能力和选择能力,练就一双“慧眼”;主动学习有关消费方面的知识和消费者权益保护方面的知识;要具有权利意识和自我保护意识;当侵权行为发生后,应勇敢拿起法律武器维护自己的合法权益;与经营者协商和解;请求消费者协会调解;向有关行政部门投诉;根据与经营者达成的仲裁协议,提请仲裁机构仲裁;向人民法院提起诉讼。鲁教版、粤教版:增强权利和自我保护意识;增强自己的判断能力和选择能力,练就一双“慧眼”;主动学习消费方面的知识和消费者权益保护方面的知识,如索要发票、到正规商店购买等。当权利受到侵害时:与经营者协商;请求消费者协会调解;向工商管理部门反映;根据与经营者达成的仲裁协议,提请仲裁机构仲裁;向人民法院提起诉讼,维护自己的合法权益。

15. (1)天蓝、地绿、水清的美丽中国日益鲜明,得益于我国坚持了哪项基本国策?(2分)

评分要求 学生根据材料答出相应的国策得2分。必须准确地答出国策,不能有错字。若学生只答节约资源国策或保护环境国策只得1分。

参考答案 节约资源和保护环境的基本国策或保护环境和合理利用资源的基本国策。

(2)根据可持续发展的内涵,结合材料谈谈我国积极致力于能源转型对建设美丽中国有什么积极影响。(8分)

评分要求 作答可持续发展的内涵得2分;结合材料得2分;致力于能源转型对建设美丽中国产生的积极影响得4分。

评分思路 从节约资源、保护和可持续发展等方面谈积极影响,任意四点即可得4分。

参考答案 人教版:可持续发展就是既满足当代人的需求,又不损害后代人满足其需求的能力的发展。鲁教版:可持续发展就是要促进人与自然和谐相处,实现经济发展和人口、资源、环境相协调,保证资源一代接一代的永续利用,保证一代接一代永续发展。粤教版:可持续发展的内涵是指既满足当代人的需要,又不对后代人满足其需要的能力构成危害的发展。

材料 由材料可以看出,我国水电、风电、太阳能发电稳居全球首位,核电在建规模世界第一。中国已成为全球能源转型的第一动力。如今,我国超过1/4的电力来自清洁能源。因此,我国积极致力于能源转型:
①有利于节约资源和保护环境;②有利于可持续发展;③有利于缓解资源短缺;④有利于建设资源节约型、环境友好型社会;⑤有利于构建美丽中国、和谐社会;⑥有利于走生产发展、生活富裕、生态良好的文明发展之路;⑦有利于资源、环境与经济协调发展,促进人与自然和谐相处等。

(3)建设美丽中国,你能做些什么?(3分)

评分要求 学生只要立足自身实际,从意识和行动方面作答。具体,多点答题,写出3点,言之有理即可得3分,空泛作答最多得2分。

参考答案 树立节约资源、保护环境的意识;积极宣传节约资源、保护和可持续发展的重要性;从身边点滴小事做起:如积极参加植树造林,不攀折花草树木,节约纸张,一水多用,随手关灯、关水龙头,拒绝使用一次性的物品,低碳出行;能够制止一些浪费资源、破坏环境的现象等。



宁夏回族自治区 2019 年初中毕业暨高中阶段招生考试

道德与法考试题

一、选择题(选出每题中唯一正确的答案。每小题 2 分,共 20 分)

- 经党中央批准、国务院批复,自 2018 年起我国将每年农历秋分设立为()。
A. 中国农民科技节
B. 中国农业丰收节
C. 中国农民粮食节
D. 中国农民丰收节
- 2018 年 8 月 27 日至 31 日,十三届全国人大常委会第五次会议在北京举行。会议表决通过了()。
①《中华人民共和国土壤污染防治法》
②《中华人民共和国关于修改个人所得税法的决定》
③《中华人民共和国外商投资法》
④《中华人民共和国电子商务法》
A. ①②③
B. ①②④
C. ①③④
D. ②③④
- 2018 年 11 月 5 日至 10 日,首届中国国际进口博览会在上海举行。本届博览会的主题是()。
A. 新理念,展望未来
B. 新征程,携手前行
C. 新时代,共享未来
D. 新起点,开创未来
- 2019 年 3 月 18 日,习近平在学校思想政治理论课教师座谈会上强调,思想政治理论课是落实()根本任务的关键课程。
A. 立德树人
B. 德育为先
C. 全面发展
D. 素质教育
- 王继才同志守岛卫国 32 年,用无怨无悔的坚守和付出,在平凡的岗位上书写了不平凡的人生华章。他身上体现了()。
①爱国奉献精神
②以自强不息为核心的民族精神
③社会主义核心价值观的价值要求
④高度的社会责任感
A. ①②③
B. ①②④
C. ①③④
D. ②③④
- 2018 年 9 月 10 日,全国教育大会在北京召开。大会作出了优先发展教育事业、加快教育现代化、建设教育强国的重大部署。这说明()。
①百年大计,教育为本
②人才的培养主要靠教育
③科技的发展,关键是教育
④教育是一切工作的中心
A. ①②③
B. ①②④
C. ①③④
D. ②③④
- 党中央一直重视和支持非公有制经济发展,民营经济是我国经济制度的内在要素,只能壮大、不能弱化。这说明()。
①非公有制经济的主体地位已经确立
②我国鼓励、支持、引导非公有制经济的发展
③国家巩固和发展公有制经济
④非公有制经济是社会主义市场经济的重要组成部分
A. ①②
B. ②③
C. ③④
D. ②④



8. 中国梦是你的梦、我的梦、大家的梦。我们都在努力奔跑,我们都是追梦人。下列关于中国梦的说法正确的是()。

- ①中国梦是实现中华民族的伟大复兴
- ②中国梦,归根到底是公民的梦
- ③实现中国梦要坚持走好中国道路,弘扬中国精神,凝聚中国力量
- ④实现中国梦要发扬实干精神和艰苦奋斗精神

A. ①②③ B. ①②④ C. ①③④ D. ②③④

9. 习近平在亚洲文明对话大会上指出:文明因多样而交流,因交流而互鉴,因互鉴而发展。这体现()。

- A. 文化具有稳定性的特点
- B. 在文化交流中弘扬和发展中华文化
- C. 亚洲文明引领世界文化
- D. 当今时代的主题是和平与发展

10. 新中国成立 70 年来,在中国共产党的正确领导下,我国坚持改革开放,取得了举世瞩目的成就。在全球减贫、应对气候变化、维护地区稳定等国际事务中发挥了日益重要的作用。这说明()。

- ①中国在当今世界树立起了负责任的发达国家形象
- ②中国共产党是领导中国特色社会主义的核心力量
- ③改革开放是决定当代中国命运的关键抉择
- ④中国的国际地位不断提高,影响越来越大

A. ①②③ B. ①②④ C. ①③④ D. ②③④

二、分析题(共 29 分)

11. 观察漫画《堵》,运用法律知识回答。

从权利与义务关系的角度,分析漫画中的占道行为。(6分)

(注:消防通道是消防人员实施营救和被困人员疏散的通道。《中华人民共和国消防法》规定:任何单位、个人不得占用、堵塞、封闭疏散通道、安全出口、消防车通道)



堵

12. 阅读材料,回答问题。

创新让生活更美好

在某校九年级(1)班道德与法治课上,老师带领同学们学习“创新驱动发展”的相关内容,大家搜集并展示了科技创新的信息。

小芳:“桥梁珠峰”港珠澳大桥通车;“嫦娥四号”登陆月球背面;北斗组网,服务全球……我国自主创新的能力真强啊!

小刚:“4G 改变生活,5G 改变社会。”人脸智能识别、自动分类的垃圾桶、机器人快递……在国内首个 5G+AI 张江智慧岛(上海)都已成为现实了。我国科技创新步伐真快啊!



老师:近年来,我国科技成果呈现“井喷式”发展,但中国科技创新之路任重道远。

(1)材料反映了我国正在实施什么战略? 结合材料分析实施该项战略的必要性。(8分)

(2)请你为建设创新型国家献计献策。(4分)

13. 阅读材料,回答问题。

协调发展助力全面小康

材料一:

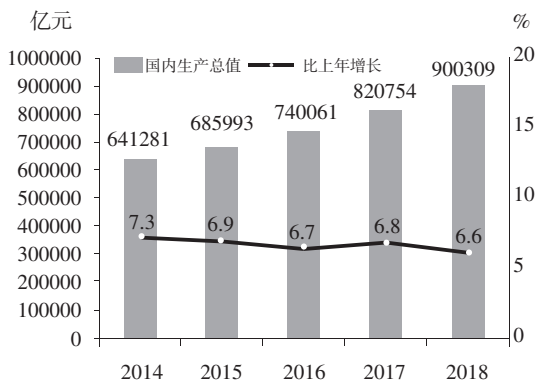


图1 2014—2018年国内生产总值及其增长速度

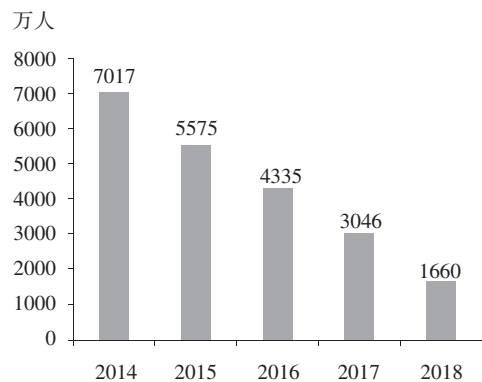


图2 2014—2018年全国农村贫困人口

材料二:2019年是中华人民共和国成立70周年,是全面建成小康社会、实现第一个百年奋斗目标的关键之年。宁夏脱贫攻坚也进入了决胜阶段。

1996年,国务院在京召开扶贫协作会议,确定福建省帮扶宁夏回族自治区。20多年来,在党和政府的领导下,闽宁镇乘着闽宁协作的东风,因地制宜,苦干实干。以光伏、菌草、葡萄酒等特色产业为支撑,走上了经济发展、生活富裕、独具特色的康庄大道。人均可支配收入由最初的500元,增长到了2018年的12988元,增长了近26倍。人口由8000人发展至6.6万人。闽宁两地优势互补、协同发展,实现合作双赢。成功打造了我国贫困地区通过对口扶贫协作,走向全面小康的典范——“闽宁模式”。

目前,宁夏涌现出了110多个闽宁协作示范村、20多个闽宁协作移民新村、320个易地搬迁安置区,累计接收西海固地区的易地搬迁移民100多万人。

(1)材料一说明了什么?(3分)



(2)材料二中的“闽宁模式”反映出我国实施了哪项战略?结合材料谈谈实施这一战略的重要意义。(8分)

三、应用与探究题(共 21 分)

14. 阅读材料,运用法律知识回答。

扫黑除恶 民心所向

黑恶势力是经济社会健康发展的毒瘤,是人民群众深恶痛绝的顽疾。扫黑除恶事关社会稳定和国家长治久安,事关人心向背和基层政权巩固。2018年,全国各级公安机关紧紧围绕“有黑扫黑、无黑除恶、无恶治乱”的目标,共打掉涉黑组织 1292 个、恶势力犯罪集团 5593 个,破获各类刑事案件 79270 起,查封、扣押、冻结涉案资产 621 亿余元。

国家开展扫黑除恶专项斗争保障了公民的哪些权利?结合材料分析国家开展扫黑除恶专项斗争的原因。(8分)

15. 阅读材料,回答问题。

中国生态文明建设进入“快车道”

一幅美丽中国画卷从北到南徐徐拉开:库布其打造“全球治沙样本”,奏响绿色和弦;银川获得“全球首批国际湿地城市”称号,交出了绿色发展答卷;浙江实施“千村示范、万村整治”工程,荣获“地球卫士奖”;海南建设国家级生态文明试验区,保护海洋生物多样性,得到世界认可……

国家印发的《关于积极推进大规模国土绿化行动的意见》明确了时间表、路线图:到 2020 年,全国森林覆盖率达到 23.04%,村庄绿化覆盖率达到 30%,草原综合植被盖度达到 56%,国土生态安全屏障基本形成,生态环境总体改善;到 2035 年,国土生态安全骨架基本形成,生态状况根本好转,美丽中国目标基本实现;到 2050 年,迈入林业发达国家行列,生态文明全面提升,实现人与自然和谐共生。

(1)上述材料体现了我国的哪些发展理念?(2分)

(2)结合资源、环境国情,依据国土绿化行动路线图及所学知识,说说我国怎样建设生态文明,实现人与自然和谐共生。(11分)



宁夏回族自治区 2019 年初中毕业暨高中阶段招生考试 道德与法治试题评分标准及参考答案

一、选择题(每小题 2 分,共 20 分)

题号	1	2	3	4	5	6	7	8	9	10
答案	D	B	C	A	C	A	D	C	B	D

分析题和应用与探究题评分要求:

1. 依据评分要求与评分思路,不死抠参考答案,学生意思答对就可酌情给分。
2. 给分要注意区分度,把优、中、差区分出来。对能提取有效信息,言之有据,能发表自己的见解,回答有创意的学生,或能从不同角度思考、回答问题且条理清晰、逻辑严密、准确表达、材料与知识完整、全面结合的学生应给鼓励分(但不超出各题分值)。

二、分析题(共 29 分)

11. 从权利与义务关系的角度,分析漫画中的占道行为。(6 分)

评分要求和评分思路 须用法律知识、法律术语作答,不能有错别字。分析漫画得 2 分(对漫画进行全面完整的分析);权利与义务关系的知识点得 3 分(知识点完整)。正确做法得 1 分。

知识 权利与义务的关系。

参考答案 漫画《堵》中占用消防通道停车的行为是错误的,是违法行为。《中华人民共和国消防法》规定“个人不得占用、堵塞、封闭消防车通道”,消防通道是消防人员实施营救和被困人员疏散的通道,禁止停放车辆。乱停乱放是错误行使权利的行为,未履行法定义务(或割裂权利义务关系)。(2 分)由于①权利与义务相互依存、相互促进。权利的实现,需要义务的履行,义务的履行促进权利的实现。②公民既是合法权利的享有者,又是法定义务的承担者。③坚持权利和义务相统一,任何公民不能只享受权利而不承担义务。漫画中占用消防通道停车,会妨碍消防人员救火,堵住救援的生命通道,给国家和人民的生命财产造成极大的损失。(3 分)因此,我们不仅要增强权利意识,依法行使权利,而且要增强义务观念,自觉履行法定的义务。(1 分)

12. (1)材料反映了我国正在实施什么战略?(2 分)

评分要求和评分思路 创新驱动发展战略得 2 分,科教兴国战略或人才强国战略得 1 分。答出其他战略或出现错别字不得分。

参考答案 创新驱动发展战略。

结合材料分析实施该项战略的必要性。(6 分)

评分要求和评分思路 结合材料得 2 分,知识与材料中的任意两句话简单结合得 1 分;知识与材料完整结合得 2 分。根据材料围绕实施创新驱动发展战略作答:原因得 1 分,意义每点得 1 分,共 3 分。

知识 原因:科技现状 实施创新驱动发展战略的意义。

参考答案 材料:从师生讨论中感受到,我国的科技成就多;创新能力强;创新步伐加快;或港珠澳大桥通车、“嫦娥四号”登陆月球背面、北斗组网;或“4G 改变生活,5G 改变社会”,中国科技创新之路任重道远。(2 分)因此,我国要实施创新驱动发展战略。

知识点 人教版,原因:我国科技在一些重要领域走在世界前列,但整体上与发达国家存在较大差



距。(1分)意义:创新是推动我国向前发展的重要力量;创新已经成为我国发展的重心;创新是第一动力,创新驱动是国家命运所系;创新能推动中国走向富强;科技创新能力已经成为综合国力竞争的决定性因素等。(3分)鲁教版,原因:我国科技、教育事业取得了辉煌成就。但从整体上看,我国科技和教育的发展水平与发达国家相比还有较大差距(或我国自主创新能力薄弱,核心技术受制于人)。(1分)意义:创新是引领发展的第一动力;科技创新已成为提高社会生产力和综合国力的战略支撑;赶超发达国家,关键靠创新;只有创新,才能实现我国科学技术的跨越式发展,真正掌握发展的主动权;把创新发展摆在国家发展全局的核心位置等。(3分)粤教版,原因:我国在科技领域成果显著;我国与发达国家相比,科学技术总体水平还有较大差距,科技成果转化成为生产力的能力还比较薄弱。(1分)创新是一个民族进步的灵魂;创新是引领发展的第一动力;创新是建设现代化经济体系的战略支撑;科学技术的发展,核心在创新;科技创新是提高社会生产力和综合国力的战略支撑,必须摆在国家发展全局的核心位置等。(3分)

(2)请你为建设创新型国家献计献策。(4分)

评分要求和评分思路 须多角度作答,从国家(政府)、社会、企业、青少年等角度中的任意两个角度作答,言之有理即可得分。每个角度2点得2分,两个角度4点得4分。从一个角度回答最多得2分。

参考答案 国家(政府):①实施科教兴国和人才强国、创新驱动发展战略。②增强自主创新能力,不断提升我国科技竞争实力。③加大科技投入,为我国的科技发展和技术创新提供物质保障。④重奖有突出贡献的科技、教育工作者。⑤着力提高自主创新能力,加快建设创新型国家等。

企业:加大对科技创新的投入力度;充分发挥企业的创新主体作用;培养技术人才等。

社会:在全社会大力宣传创新的重要性;营造尊重知识、尊重人才、尊重创造的良好社会氛围;完善奖励机制,支持和鼓励更多科技创新人才投入研究等。

青少年:树立科学的精神和终身学习的意识,转变学习方式;向科技工作者学习,勇于探索,大胆质疑,要有好奇心和求知欲;参加小发明、小制作活动,提高自己的创新精神和实践能力等。

13. (1)材料一说明了什么?(3分)

评分要求与评分思路 从我国经济增长和贫困人口减少两方面作答。经济增长方面得2分,贫困人口减少方面得1分。

参考答案 图表可以看出:2014—2018年我国国内生产总值不断提高,但经济增长速度有所减缓,我国经济由高速增长转为高质量发展(中高速增长);说明我国经济快速发展,人民生活水平不断提高。同时,2014—2018年我国农村贫困人口大幅下降(减少),说明我国脱贫攻坚工作取得巨大成就。

(2)材料二中的“闽宁模式”反映出我国实施了哪项战略?结合材料谈谈实施这一战略的重要意义。(8分)

评分要求与评分思路 学生答出区域协调发展战略可得2分。学生作答区域均衡发展或乡村振兴战略可得1分。其他战略不得分。出现错别字不得分。

参考答案 区域协调发展战略。

结合材料谈谈实施这一战略的意义。(6分)

评分要求与评分思路 结合材料得2分;(学生须从材料答出与设问相关、知识全面完整的3句话,可得2分,2句话可得1分。)意义每点得1分,4点可得4分。

知识 共同富裕 协调发展 小康社会 和谐社会 脱贫攻坚。



参考答案 材料:闽宁两地优势互补、协同发展,实现合作双赢;成功打造了我国贫困地区通过对口扶贫协作;走向全面小康的典范——“闽宁模式”。或闽宁镇走上了经济发展、生活富裕、独具特色的康庄大道;人均可支配收入由最初的500元,增长到了2018年的12988元,增长了近26倍。或宁夏涌现出了110多个闽宁协作示范村,20多个闽宁协作移民新村等,累计接收西海固地区的易地搬迁移民100多万人等(2分)可以看出,实施区域协调发展战略有重大意义:有利于缩小东西部(地区)差距,推动区域均衡发展;有利于缓解我国社会矛盾,构建和谐社会;有利于缩小城乡差距,实现共同富裕;有利于全面建成小康社会,实现第一个百年目标;有利于打赢脱贫攻坚战;有利于改善贫困地区人民生活水平、提高生活质量;有利于增强人民获得感、幸福感、安全感等。(4分)

三、应用与探究题(共21分)

14. 国家开展扫黑除恶专项斗争保障了公民的哪些权利?结合材料分析国家开展扫黑除恶专项斗争的原因。(8分)

评分要求与评分思路 学生答出公民的政治权利和自由、公民的人身权利、公民的社会经济与文化教育权利中的具体三项权利可得3分。运用法律术语作答,出现错别字不得分。

知识 公民基本权利。

参考答案 (1)保障了公民的政治权利和自由,包括选举权和被选举权等;(2)保障了公民的人身权利,包括人身自由不受侵犯、人格尊严不受侵犯、住宅不受侵犯等;(3)保障了公民的社会经济与文化教育权利,包括财产权、劳动权等。

结合材料分析国家开展扫黑除恶专项斗争的原因。(5分)

评分要求与评分思路 结合材料分析出扫黑除恶的原因且表述完整即可得2分,简单结合得1分。分析原因时,需要答出意义来支撑作答。意义每点1分,答出4点得4分,其他酌情给分。

知识 公平正义 法律尊严权威 尊重保障人权。

参考答案 材料:因为黑恶势力是经济社会健康发展的毒瘤;黑恶势力是人民深恶痛绝的顽疾;扫黑除恶专项斗争事关社会稳定和国家长治久安,事关人心向背和基层政权巩固等。(2分)(或:黑恶势力侵犯公民的财产权利和人身权利;破坏社会经济秩序,影响国家经济的健康发展;威胁地方政权的稳定;影响国家的长治久安等)。因此,国家要开展扫黑除恶专项斗争:扫黑除恶有利于保障公民的合法权益;有利于维护公平正义;有利于尊重和保障人权;有利于维护法律的尊严和权威;有利于维护社会稳定,营造良好的社会风气;有利于增强人民的获得感、幸福感、安全感;有利于全面建成小康社会、构建和谐社会、实现中华民族伟大复兴中国梦等。(4分)

15. (1)上述材料体现了我国哪些发展理念?(2分)

评分要求与评分思路 学生根据材料答出发展理念的任意2个可得2分。出现错别字不得分。

知识 绿色发展 可持续发展 绿水青山就是金山银山。

参考答案 理念:绿色发展;可持续发展;人与自然和谐共生;绿水青山就是金山银山;尊重自然、顺应自然、保护自然;创新、协调、绿色、开放、共享等理念。

(2)结合资源、环境国情,依据国土绿化行动路线图及所学知识,说说我国怎样建设生态文明,实现人与自然和谐共生。(11分)

评分要求与评分思路 资源、环境国情各得2分;依据路线图的3个阶段得3分;我国建设生态文明,



实现人与自然和谐共生,言之有理,即可得分。作答4点,每点1分共得4分。(学生依据三个版本教材中知识作答亦可得分)

知识 资源、环境国情 生态文明 人与自然和谐共生。

参考答案 人教版,资源国情:我国自然资源丰富,总量大,种类多,但人均资源占有量少,开发难度大,总体上资源紧缺。环境方面:当前我国环境形势不容乐观。鲁教版,资源国情:自然资源总量大、种类多,但人均资源占有量少,资源相对短缺;需求量不断增加,资源约束趋紧,依存程度上升;开发不合理、利用率低、资源浪费严重等。环境国情:从总体上看,我国生态环境恶化的趋势初步得到遏制,部分地区有所改善,但目前环境形势依然相当严峻等。粤教版,资源国情:自然资源总量丰富,人均资源占有量少等;环境国情:环境(水、空气、土地)污染比较严重,资源对外依存度高,人口与资源环境的矛盾突出等。(4分)

材料 路线图:到2020年,国土生态安全屏障基本形成,生态环境总体改善;到2035年,国土生态安全骨架基本形成,生态状况根本好转,美丽中国目标基本实现;到2050年,迈入林业发达国家行列,生态文明全面提升,实现人与自然和谐共生。(3分)由此可见,建设生态文明,实现人与自然和谐共生,我国要坚持节约资源、保护环境的基本国策;坚持可持续发展战略;坚持绿色发展理念;践行绿水青山就是金山银山的理念;搞好水土保持,防治大气污染;开展植树造林和国土绿化等行动,改善生态环境;走绿色、循环、低碳(生产发展、生活富裕、生态良好)的文明发展之路;建立健全完善的法律法规;采取环保措施等。实现生态环境总体改善到生态状况根本好转,美丽中国基本实现;最终实现生态文明提升,人与自然和谐共生的目标。(4分)



防毒禁毒宣传语

- ★ 珍爱生命 拒绝毒品
- ★ 防毒反毒 人人有责
- ★ 禁绝毒品 功在当代 利在千秋
- ★ 远离毒品 亲近美好人生
- ★ 抵制毒品侵害 珍惜美好年华
- ★ 拒绝毒品 健康娱乐
- ★ 认识毒品危害 提高抵御能力
- ★ 贩毒就是谋财害命 吸毒就是自杀身亡
- ★ 无毒邻里称颂 有毒家破人亡
- ★ 毒品尝一口 阎王在招手
- ★ 珍爱生命 远离毒品 争做文明青少年
- ★ 莫沾毒品 莫交毒友
- ★ 敲开毒品的门 挖好自己的坟
- ★ 一次吸毒终生悔 莫拿生命赌明天
- ★ 远离白色粉末 拥抱七彩生活



语文 七年级
语文 八年级
语文 九年级
道德与法治 九年级

数学 九年级
历史 地理 生物 九年级

英语 九年级

人教版

数学 七年级
数学 八年级
物理 九年级

英语 七年级
英语 八年级
化学 九年级

物理 八年级

北师大版

数学 七年级
数学 八年级
物理 九年级

物理 八年级

外研版

英语 七年级
英语 八年级

上海
科技版

物理 八年级
物理 九年级

江苏
科技版

物理 八年级
物理 九年级

上海
教育版

化学 九年级

科学、
广东教育
版

化学 九年级

责任编辑：吴 阳
封面设计：杭永鸿

ISBN 978-7-5544-3753-7



9 787554 437537 >

定价：8.75元