

宁夏回族自治区教育厅中小学教材审查委员会审定

新编

学习之友

宁夏教育厅教学研究室 编



● 苏教版


数学 一年级（下册）

黄河出版传媒集团
宁夏人民教育出版社



“新冠”病毒防控歌

新病毒，肺里藏，传染性强传播广。
小学生，不恐慌，科学防护真正棒。
常消毒，勤洗手，可怕病毒无处藏。
吃熟食，食蔬果，营养丰富免疫强。
少出门，不聚集，不给病毒留余地。
若出门，戴口罩，正确戴法是关键。
战疫情，冲一线，白衣天使是榜样。
小学生，也帮忙，多做运动保健康。
防疫战，靠大家，守法团结听党话。
待疫情，消灭净，重回校园同欢庆。



宁夏回族自治区教育厅中小学教材审查委员会审定

新编

学习之友

宁夏教育厅教学研究室 编



● 苏教版

数学 一年级（下册）



黄河出版传媒集团
宁夏人民教育出版社

《学习之友》编写委员会

主 编 岳维鹏
副 主 编 黄建忠 马 兰 姜俐冰 杨占军 白忠明 慕 英 王俊生 葛建华(执行)
编 委 岳维鹏 黄建忠 马 兰 姜俐冰 杨占军 白忠明 慕 英 王俊生 葛建华
安 奇 吕晓雅 杨威虎 马桂萍 武 琪 马学梅 王俊昌 金 慧 姚利萍
孙雁秋 马 卉 武卫民 王 春 张春燕 仇千记 曹天祥 张世虎

本 册 主 编 武卫民

本 册 编 写 者 李林杰 田淑珍 范希甄 马学锋 文永惠 朱 春

图书在版编目(CIP)数据

学习之友:苏教版.一年级数学.下册 / 宁夏教育厅
教学研究室编. -- 银川:宁夏人民教育出版社,2015.1
(2020.1重印)

ISBN 978-7-5544-1121-6

I. ①学… II. ①宁… III. ①小学数学课—习题集
IV. ①G624

中国版本图书馆CIP数据核字(2015)第021982号

学习之友 一年级数学(下册) 苏教版

宁夏教育厅教学研究室 编

责任编辑 王 慧

封面设计 杭永鸿

责任印制 殷 戈



黄河出版传媒集团 出版发行
宁夏人民教育出版社

地 址 宁夏银川市北京东路139号出版大厦(750001)

网 址 <http://www.yrpubm.com>

网上书店 <http://www.hh-book.com>

电子信箱 jiaoyushe@yrpubm.com

邮购电话 0951-6024704

经 销 宁夏教育书刊发行有限公司

印刷装订 宁夏雅昌彩色印务有限公司

印刷委托书号 (宁)0016091

开本 880 mm×1230 mm 1/16

印张 4 字数 90千字

印数 1000册(2020年春季)

版次 2015年1月第1版

印次 2020年1月第6次印刷

书号 ISBN 978-7-5544-1121-6

定价 5.46元

版权所有 侵权必究

如发现印、装质量问题,影响阅读,请拨打投诉电话:0951-5014284

致小读者

亲爱的同学们：

新的学期来到了,这本全新的《学习之友》终于和大家见面了,希望通过《学习之友》使我们成为真正的好朋友。

这套《学习之友》是根据《数学课程标准(2011版)》,由众多资深教研员和优秀教师精心编写而成的,与数学课本同步的配套教学辅助材料。主要内容为基础练习、拓展练习和综合与应用构成,具有很强的综合性和趣味性。为了使同学们能够轻松、愉快地学习,老师们特地把每个练习的题量控制在一页。同时,同学们可以有选择地做一些自己喜欢做的题,并不要求每题必做;为了使同学们及时掌握自己的学习水平,在每个单元结束及学期末安排了一些学习水平自我检测。为了编写这本《学习之友》,老师们考虑了许多,希望同学们能够喜欢。

我们希望同学们通过《学习之友》,能够及时了解自己的学习状况,了解课本之外的数学世界,会用数学的眼光观察社会,会用数学的思考方法解决身边的问题。最后,愿《学习之友》伴随同学们快乐成长。

衷心地希望大家提出宝贵意见。

编者

目录

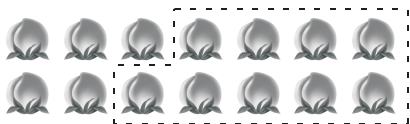
Contents

一 20 以内的退位减法	01
二 认识图形(二)	09
一、二单元能力训练	12
三 认识 100 以内的数	14
三单元能力训练	23
四 100 以内的加法和减法(一)	25
四单元能力训练	37
五 元、角、分	39
六 100 以内的加法和减法(二)	42
五、六单元能力训练	55
期末检测(A)	57
期末检测(B)	59


一 20以内的退位减法

练习一

1. 圈一圈,算一算。



$$14 - 9 = \square$$



$$17 - 9 = \square$$

2. 我会算。

$13 - 9 =$

$14 - 9 =$

$17 - 9 =$

$15 - 9 =$

$16 - 9 =$

$18 - 9 =$

$11 - 9 =$

$12 - 9 =$

3. 在每朵☼里填上“>”“<”或“=”。

$14 - 9 \text{ ☼ } 5$

$9 + 8 \text{ ☼ } 17$

$15 - 9 \text{ ☼ } 7 + 1$

$13 - 9 \text{ ☼ } 7 + 1$


$9 + 7 \text{ ☼ } 15$

$13 - 9 \text{ ☼ } 15$

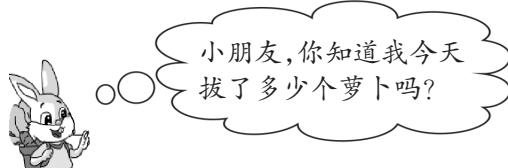
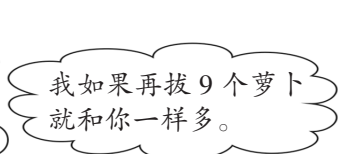
$18 - 9 \text{ ☼ } 9 + 0$

$5 + 8 \text{ ☼ } 16 - 4$

4. 想一想,连一连。



5. 解决问题。



$$\square \bigcirc \square = \square \text{ (个)}$$



练习二

1. 吹泡泡。



$11 - 9 =$

$13 - 9 =$

$18 - 9 =$

$12 - 9 =$



$15 - 9 =$

$17 - 9 =$

$14 - 9 =$

$16 - 9 =$

2. 得数是几就圈几个。



$12 - 9 = \square$



$15 - 9 = \square$

$13 - 9 = \square$

3. 用你喜欢的计算方法帮小鸽子把信送到相应的信箱里。



4. 解决问题。



18 条鱼, 游走了 9 条, 还剩几条?

$\square \bigcirc \square = \square \text{ (条)}$



5. 移动 9, 用卡片上的数字分别减去它。

10
14
13
17
19
12
15
18
16
11
-9

例: $10 - 9 = 1$

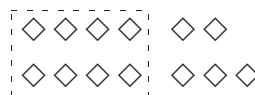
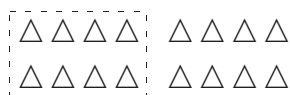


练习三

1. 看图写算式。



$$11 - 8 = 3$$



2. 圈一圈,算一算。

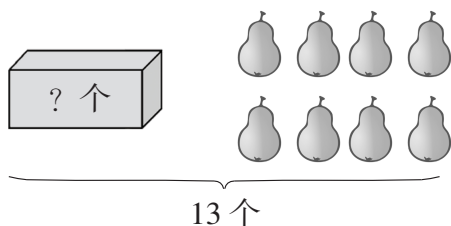


$$13 - 8 = \square$$

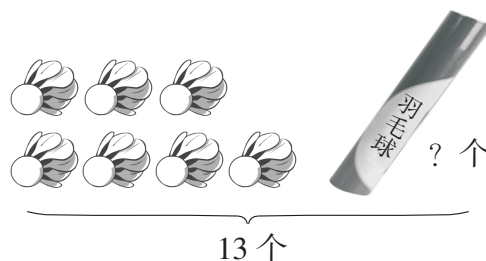


$$16 - 7 = \square$$

3. 看图列式计算。



$$\square - \square = \square \text{ (个)}$$



$$\square - \square = \square \text{ (个)}$$

4. 用你喜欢的方法计算。

$12 - 7 =$

$13 - 7 =$

$12 - 8 =$

$16 - 8 =$

$15 - 8 =$

$11 - 8 =$

$14 - 7 =$

$14 - 8 =$

$17 - 8 =$

$13 - 8 =$

5. 移动 8, 用卡片上的数字分别减去它。



例: $10 - 8 = 2$

6. 聪明屋。

$\triangle = 6$

$\bigcirc = 2$

$\triangle + \bigcirc = (\quad)$

$\triangle - \bigcirc = (\quad)$



练习四

1. 看谁计算得最认真。

$11 - 7 =$	$14 - 8 =$	$16 - 8 =$	$18 - 8 =$
$15 - 7 =$	$13 - 9 =$	$17 - 7 =$	$15 - 8 =$
$12 - 9 =$	$11 - 8 =$	$14 - 7 =$	$12 - 8 =$

2. 算一算,连一连。

$6 + 7$	16	$5 + 9$	8
$11 - 8$	7	$18 - 9$	4
$7 + 9$	13	$15 - 7$	9
$14 - 7$	3	$12 - 8$	14


3. 在○里填上“>”“<”或“=”。

$7 + 8 \bigcirc 15$	$17 - 8 \bigcirc 8$	$11 - 7 \bigcirc 4$
$9 + 6 \bigcirc 16$	$13 - 7 \bigcirc 5$	$14 - 8 \bigcirc 9$

4. 看图列式计算。

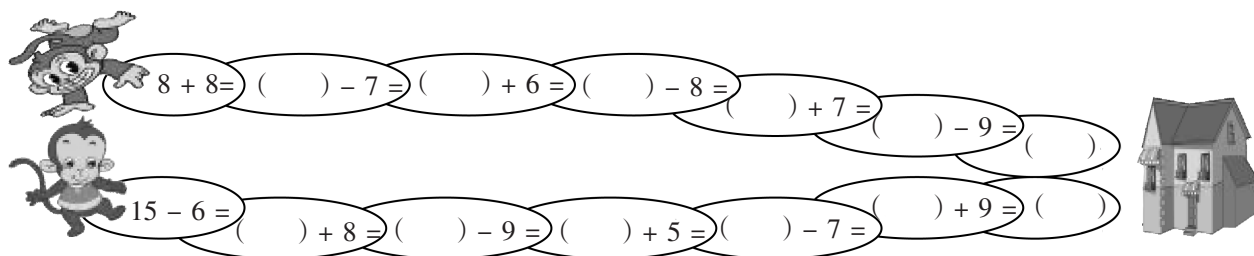


$$\square \bigcirc \square = \square \text{ (个)}$$



$$\square \bigcirc \square = \square \text{ (只)}$$

5. 请为小猴把路铺平,送它回家。(每次的计算结果写在括号里)



练习五

1. 想一想,算一算。

$3 + 8 =$

$4 + 9 =$

$5 + 7 =$

$6 + 8 =$

$11 - 3 =$

$13 - 4 =$

$12 - 5 =$

$14 - 6 =$

$11 - 8 =$

$13 - 9 =$

$12 - 7 =$

$14 - 8 =$

2. 看图写算式。



$\square + \square = \square$

$\square - \square = \square$

$\square - \square = \square$



$\square + \square = \square$

$\square - \square = \square$

$\square - \square = \square$

3. 小动物喜欢吃什么?



4



6



8



9



$13 - 9$



$13 - 4$



$11 - 7$



$17 - 8$



$14 - 8$



$15 - 7$

4. 算一算,找规律。

$3 = \square$

$6 = \square$

$9 = \square$

$11 - 4 = \square$

$13 - 7 = \square$

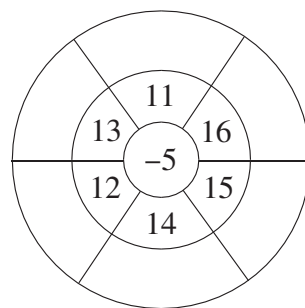
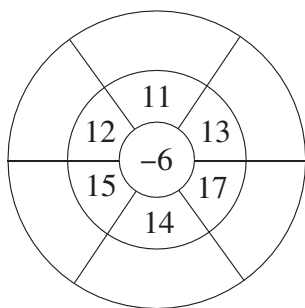
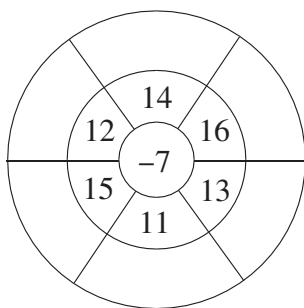
$15 - 8 = \square$

$5 = \square$

$8 = \square$

$7 = \square$

5. 算一算,填一填。




练习六

1. 看谁算得又对又快。

$14 - 5 =$	$13 - 4 =$	$12 - 3 =$	$11 - 2 =$
$15 - 8 =$	$18 - 7 =$	$11 - 6 =$	$17 - 8 =$
$13 - 7 =$	$14 - 6 =$	$16 - 8 =$	$18 - 9 =$

2. 把得数是 9 的雪人涂成红色, 得数是 8 的雪人涂成绿色。



3. 看图列式计算。

<p style="text-align: center;">? 个</p>	<p style="text-align: center;">3 个 ? 个</p>	
$\square \bigcirc \square = \square$ (个)	$\square \bigcirc \square = \square$ (个)	$\square \bigcirc \square = \square$ (颗)

4. 看图写算式。

$\square \bigcirc \square = \square$	$\square \bigcirc \square = \square$
$\square \bigcirc \square = \square$	$\square \bigcirc \square = \square$

5. 解决问题。

<p>我今年 13 岁了。</p>	<p>我今年比你小 6 岁。</p>	<p>你能算出我今年几岁吗?</p>
$\square \bigcirc \square = \square$ (岁)		

练习七

1. 看谁都能算对。

$12 - 7 =$	$12 - 4 =$	$12 - 3 =$	$16 - 8 =$
$14 - 8 =$	$16 - 9 =$	$8 + 9 =$	$11 - 6 =$
$13 - 6 =$	$14 - 5 =$	$11 - 2 =$	$12 - 5 =$
$15 - 7 =$	$17 - 8 =$	$15 - 9 =$	$17 - 9 =$

2. 圈一圈,算一算。



$16 - 8 = (\quad)$



$12 - 7 = (\quad)$

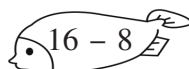
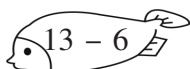
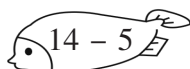
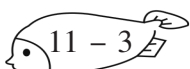
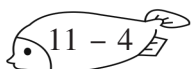
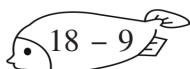


$14 - 8 = (\quad)$



$13 - 5 = (\quad)$

3. 小猫钓鱼。



4. 在○里填上“>”“<”或“=”。

$11 - 5 \bigcirc 7$

$12 - 3 \bigcirc 9$

$15 - 7 \bigcirc 6$

$13 - 6 \bigcirc 5$

$14 - 8 \bigcirc 4$

$16 - 9 \bigcirc 8$

5. 老师和同学玩老鹰捉小鸡的游戏。看图列式计算。



$\square \bigcirc \square = \square \text{ (只)}$



练习八

1. 找朋友。

$14 - 8$		$12 - 5$
$12 - 4$	5	$16 - 9$
$15 - 8$	6	$11 - 3$
$14 - 9$	7	$14 - 8$
$13 - 6$	8	$13 - 8$


2. 在○里填上“>”“<”或“=”。

$12 - 4$ ○ $2 + 5$ $15 - 8$ ○ $12 - 5$ $14 - 6$ ○ $5 + 6$ $16 - 9$ ○ $3 + 4$
 $15 - 7$ ○ $13 - 6$ $12 - 8$ ○ $4 + 5$ $16 - 9$ ○ $12 - 3$ $11 - 3$ ○ $3 + 6$

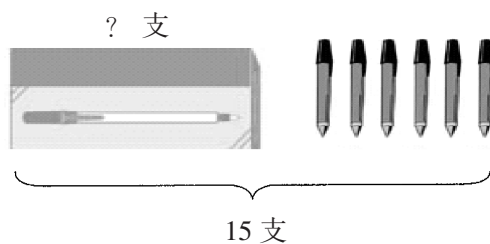
3. 下面的计算结果对吗？（对的画“√”，错的画“×”，并改正）

$11 - 6 = 6$ () _____ $13 - 8 = 5$ () _____ $12 - 7 = 4$ () _____
 $14 - 7 = 7$ () _____ $15 - 9 = 7$ () _____ $13 - 5 = 6$ () _____
 $12 - 9 = 2$ () _____ $16 - 9 = 8$ () _____ $15 - 8 = 7$ () _____

4. 看图列式计算。




□ ○ □ = □ (条)



□ ○ □ = □ (支)

5. 解决问题。

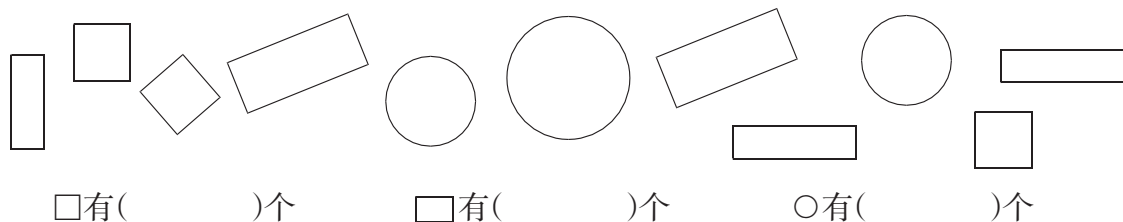


宁宁一分钟再跳几下才能超过园园？


二 认识图形(二)

练习一

1. 数一数,填一填。




2. 照样子,画一画。



3. 画一画。

(1) 画两笔使□变成四个形状大小一样的图形。




(3) 画两笔使□变成四个形状大小一样的图形。



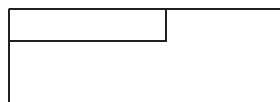
(2) 画一笔使□变成两个形状大小一样的图形。



4. 数一数,下面的图形里有几个长方形。



()个



()个

5. 动手画一画。

(1) 使它成为 2 个长方形

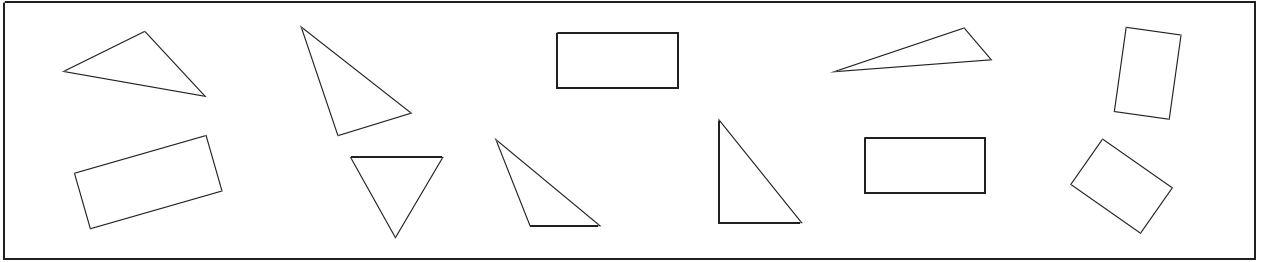


(2) 使它成为 4 个正方形



练习二

1. 涂一涂,数一数。(把△涂成蓝色,□涂成黄色)

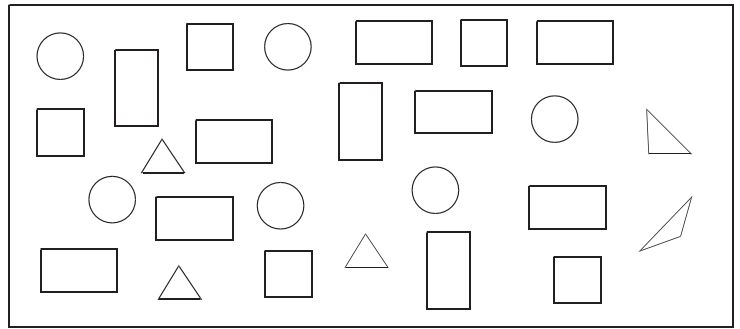


△有()个,□有()个,()比()少()个。

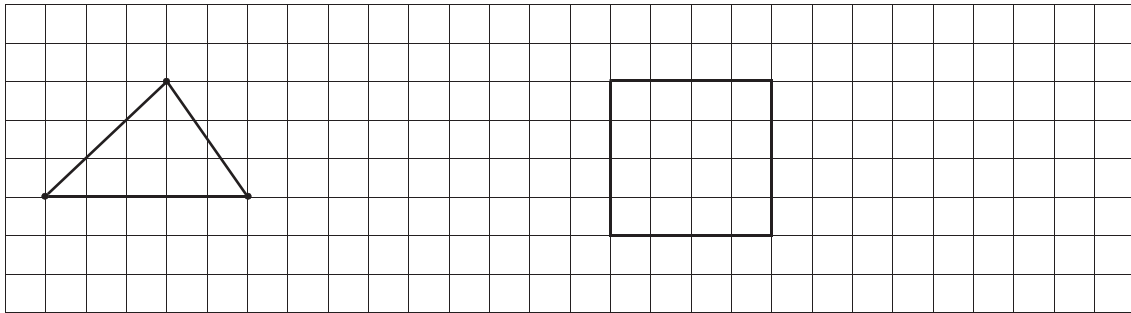
2. 涂一涂,数一数。



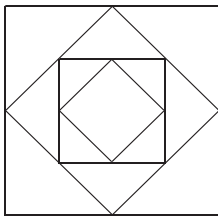
□	()个
□	()个
○	()个
△	()个



3. 照样子,画一画。

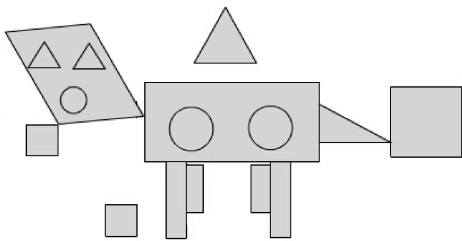


4. 数一数。



图中有_____个△,有_____个□。

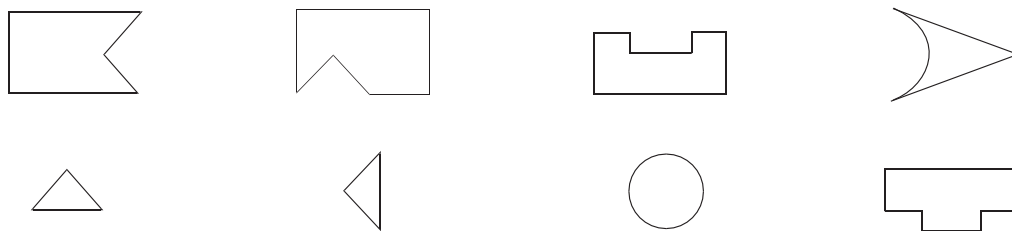
5. 数一数,填一填。



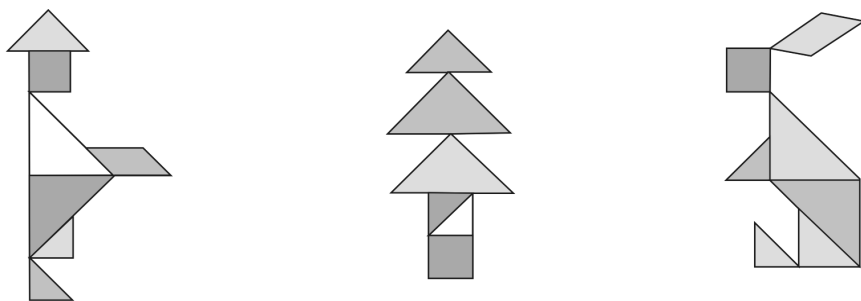
▬	■	●	▲
()个	()个	()个	()个

练习三

1. 找朋友。下面的图是从上面的哪个图形上剪下来的?连一连。




2. 请你数一数,再猜猜每幅图像什么。




△有()个,□有()个。

3. 想一想,请你接着画下去。



4. 涂一涂。



5. 数一数,填一填。



一、二单元能力训练

1. 比一比,看谁算得最认真。

$9 + 8 =$

$12 - 6 =$

$14 - 8 =$

$3 + 8 =$

$11 - 6 =$

$8 + 7 =$

$13 - 6 =$

$12 - 5 =$

$16 - 9 =$

$15 - 6 =$

$7 + 9 =$

$7 + 7 =$

$15 - 7 =$

$14 - 5 =$

$6 + 6 =$

$14 - 6 =$

2. 在○里填上“>”“<”或“=”。

$11 - 7 \bigcirc 3$

$12 - 3 \bigcirc 7$

$4 + 7 \bigcirc 12$

$14 - 8 \bigcirc 7$

$11 - 6 \bigcirc 6$

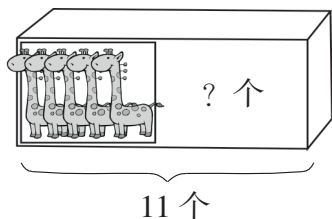
$6 + 9 \bigcirc 14$

$8 + 7 \bigcirc 15$

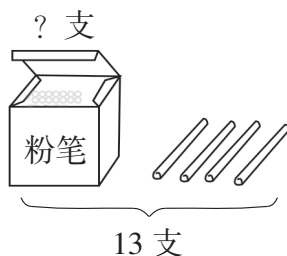
$15 - 7 \bigcirc 7$

$14 - 5 \bigcirc 9$

3. 看图列式计算。



$\square \bigcirc \square = \square \text{ (个)}$



$\square \bigcirc \square = \square \text{ (支)}$

4. 把下列算式按计算结果从大到小排一排。

$13 - 6$

$14 - 8$


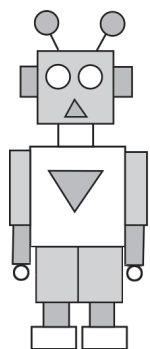
$13 - 8$

$11 - 7$

$13 - 5$

$14 - 5$

5. 数一数,算一算。



(1) ▲ 有()个 ■ 有()个

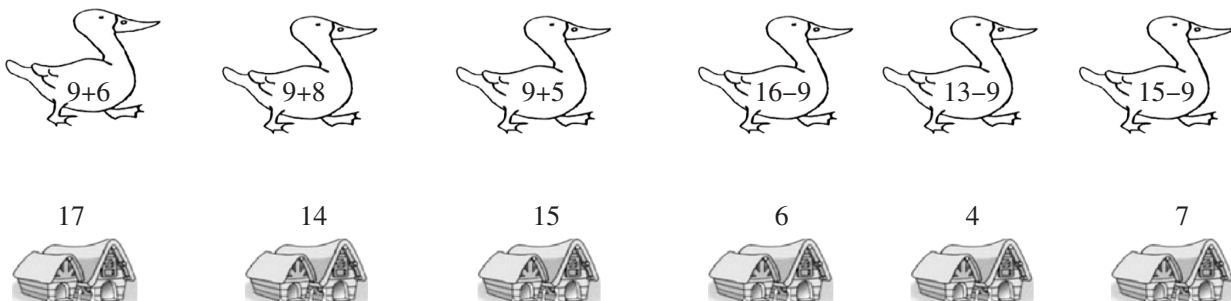
● 有()个 ▨ 有()个

(2) ■ 和 ▨ 共有多少个?

(3) 你还能提出哪些数学问题? 会解答吗?



6. 连一连,送小鸭子回家。



7. 一共有 15 只狗,其中小黄狗有 9 只,剩下的是小花狗。



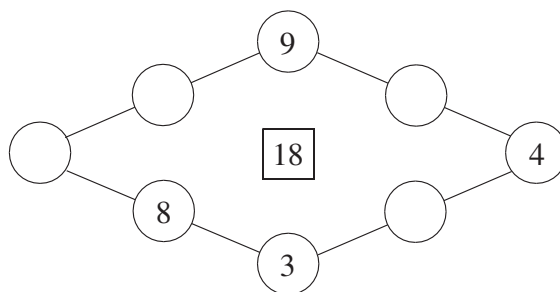
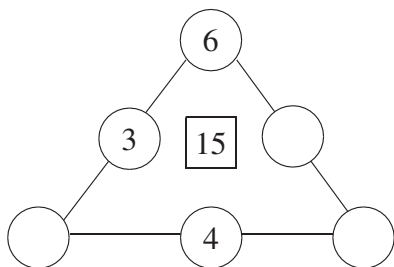
8. 先想想算算,再填表。

原有	15 箱	16 箱	() 箱
卖掉	8 箱	() 箱	7 箱
还剩	() 箱	6 箱	5 箱

9. 在点子图上画一个正方形和一个长方形。



10. 在○里填上适当的数,使每条边上三个数的和都得方框里的数。



三 认识100以内的数


练习一

1. 我会填。

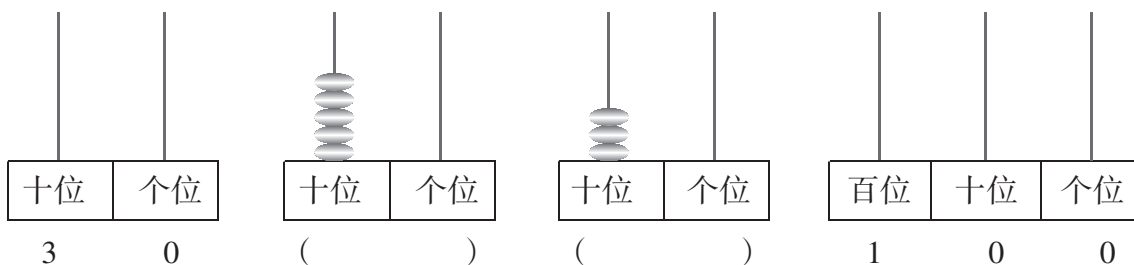
- (1) 十个十个地数,10个十是()。
- (2) 6个十是(),80是()个()。
- (3) 十个十个地数,比100少但比80多的数是()。

2. 我会猜。

- (1) 我比60小,比40大,我是()。
- (2) 我在80和60之间,我是()。



3. 我会写也会画。



4. 按顺序填数。

85			88			30			60		
22	24	26				55			52		
90			60			55	60	65			


5. 我们来做游戏。



这个数可能是: _____。

练习二

1. 小鸭吃鱼。(把得数写在算式上面)



2. 比一比,算一算。

$6 + 3 =$

$8 - 5 =$

$4 + 5 =$

$60 + 30 =$

$80 - 50 =$

$4 + 50 =$

3. 照样子写一写,写得越多越好。

例: $50 + 20 = 70$

$20 + 50 = 70$

$70 - 20 = 50$

$70 - 50 = 20$

4. 买蛋糕。选择你喜欢的两个蛋糕,算算共需要多少钱?



40元



20元



10元



50元



30元

我选()元和()元钱的蛋糕。共需要()元钱。

$$\square \bigcirc \square = \square \text{ (元)}$$

5. 你能帮小勇解决下面的问题吗?

(1) 小勇昨天算了 30 道题,今天算了 40 道题,两天一共算了多少道题?

$$\square \bigcirc \square = \square \text{ (道)}$$

(2) 小勇要写 50 个字,已经写了 20 个字,还要写多少个字?

$$\square \bigcirc \square = \square \text{ (个)}$$

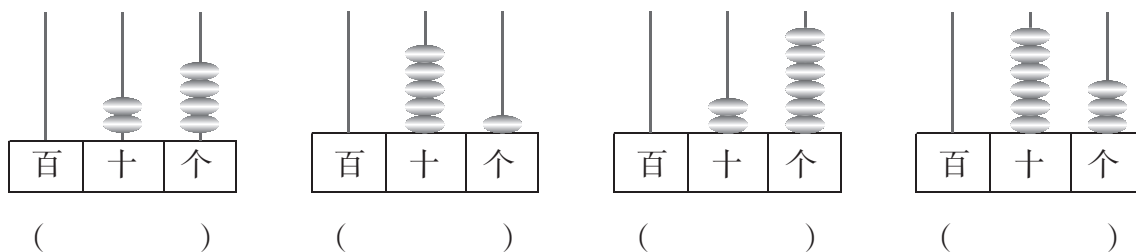
(3) 小勇把自己做的花送给小朋友 20 朵后还剩 30 朵,他一共做了多少朵花?

$$\square \bigcirc \square = \square \text{ (朵)}$$


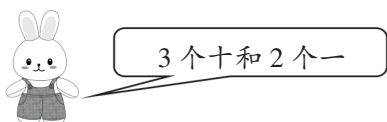


练习三

1. 看图写数,并且把它读出来。



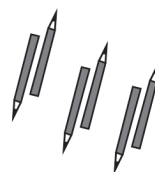

2. 给小动物找家。



3. 填空。

- (1) 73 里面有()个十和()个一。
- (2) 5 个一和 3 个十组成的数是()。10 个十是()。
- (3) 和 80 相邻的两个数是()和()。
- (4) 从 10 开始十个十个地数,90 前面的一个数是(),90 后面的一个数是()。

4.



()个十和()个一是 ()。 ()个十和()个一是 ()。

5. 按要求写数。

- (1) 写出十位和个位相同的数: _____、_____、_____、_____、_____。
- (2) 写出个位上是 4 的两位数: _____、_____、_____、_____、_____。
- (3) 写出十位上是 6 的两位数: _____、_____、_____、_____、_____。

练习四

1. 填一填。

- (1) 比 40 大 5 的数是()。
- (2) 比 68 少 8 的数是()。
- (3) 比 30 大, 比 50 小的整十数是()。

2. 我会算。

$$64 - 4 = \quad 37 - 30 = \quad 58 - 50 = \quad 40 + 4 =$$

$$8 + 60 = \quad 75 - 70 = \quad 27 - 7 = \quad 90 + 9 =$$

3. 爬楼梯。

真有趣!

我发现的规律是:

4. 找朋友。

5.



20 元



30 元



50 元



7 元

(1) 你喜欢哪两种玩具? 需要多少元钱?

○ = (元)

(2) 说一说 50 元钱可以买哪两种玩具?

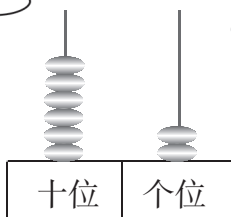


练习五

1. 拨一拨,说一说。



我拨出 62 啦!



十位上拨(),表示()个();
个位上拨(),表示()个()。



2. 算一算。

$56 - 50 =$

$96 - 90 =$

$30 + 7 =$

$40 + 30 =$

$80 + 8 =$

$72 - 2 =$

$72 - 70 =$

$50 + 40 =$

3. 填一填。

(1)

<p>()个十和()个一是()。</p>	<p>()个十和()个一是()。</p>
-------------------------	-------------------------

(2) 个位上是 0,十位上是 7 的数是()。

(3) 十位上是 6,个位上是 5 的数是()。

4. 算一算,填一填。

加数	加数	和
50	8	
40	9	
7	30	

被减数	减数	差
59	50	
48	8	
78	70	

5. 一天,松鼠爸爸、松鼠妈妈和小松鼠一起到森林去采松果。



你能提出哪些数学问题? 会解答吗?

$\square \bigcirc \square = \square \quad (\quad)$

$\square \bigcirc \square = \square \quad (\quad)$



练习六

1. 按一定的顺序把缺的数填上。

		75		
--	--	----	--	--

	69		73			
--	----	--	----	--	--	--

	37	
	47	48

23		
	34	

		61
	70	

2. 想一想, 填一填。

(1) 29 和 31 中间的数是()。

(2) 99 前面的一个数是(), 后面的一个数是()。

(3) 和 56 相邻的两个数是()和()。

3. 聪明的小法官。

(1) 在 56、36、65、68 这四个数中, 36 最小。 ()

(2) 5 个十和 4 个一组成的数是 45。 ()

(3) 30 与 4 的和是 34, 34 与 4 的差是 30。 ()

(4) 10 个一是 10, 1 个十也是 10。 ()

4. (1) 按顺序填数。

1									10
	12								19
		23					28		
			34			37			
				45	46				
				55	56				
			64			67			
		73					78		
	82							89	
91									100

(2) 根据左边表格, 把下图中缺少的数填上。

	32	

	45

	74	

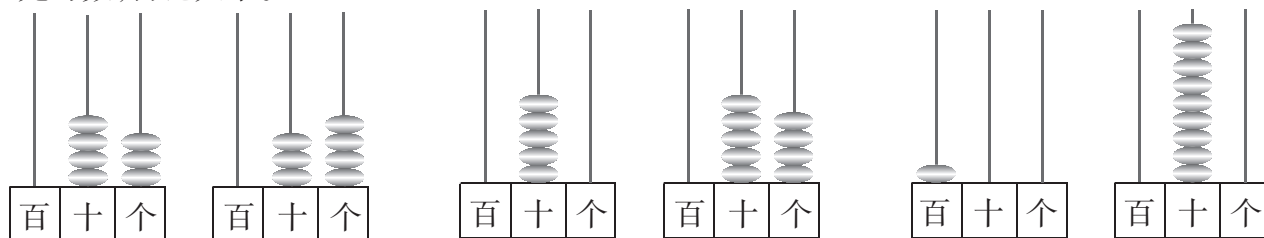
	56	

5. 小明从 8 月 1 日开始放假, 8 月 27 日开学, 小明一共放了多少天假?



练习七

1. 先写数,再比大小。





() ○ () () ○ () () ○ ()

2. 请按要求坐车。


大于 48 的请上这辆车。

小于 48 的请上这辆车。



3. 选择填空。

草莓有 54 个。 苹果有多少个呢?



在你认为合适的答案下面画“√”。

83 个	50 个	26 个

4. 写一写,填一填。

(1) 写出 3 个个位上是 6 的数: __、__、__, 其中()最大,()最小。

(2) 写出 3 个十位上是 8 的数: __、__、__, 其中()最大,()最小。

(3) 写出 3 个个位和十位相同的数: __、__、__, 其中()最大,()最小。

5. 给小动物排排队。(把每个算式的结果按从小到大的顺序排一排)



2 + 30

20 + 3

55 - 5

75 - 5

80 + 5

60 + 3

() < () < () < () < () < ()

练习八

1. 在○里填上“>”“<”或“=”。

54 ○ 45

60 ○ 60

72 ○ 74

88 ○ 78

100 ○ 99

48 ○ 57

2. 猴先生领 3 只小猴摘桃子。请你根据它们摘的桃子的个数,用“多一些”“多得多”“少一些”“少得多”填空。



猴先生 83 个



猴小明 39 个



猴小丽 45 个



猴小芳 21 个

猴先生比猴小芳()。猴小明比猴小芳()。

猴小明比猴小丽()。猴小芳比猴先生()。

3. 小林得了 30 朵红花,小玉得了 40 朵红花。小林再得几朵红花就和小玉得的一样多了?

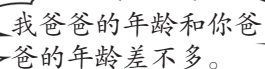
4. 右面是菠菜、萝卜和包心菜的生长天数。在生长期最长的下面画“√”,最短的下面画“○”。

 菠菜	 萝卜	 包心菜
60 天	80 天	98 天

5.  我爸爸今年 37 岁。



小欣

 我爸爸的年龄和你爸爸的年龄差不多。



小淘

小淘的爸爸今年可能是多少岁?(在你认为合适的答案下面画“√”)

39 岁	80 天	25 岁

6. 猜一猜,他们考试得了多少分?

(1) 这次数学考试小红的成绩比 80 多一些,比 90 少一些,个位上的数比十位上的数少 2。

小红的数学成绩是_____分。

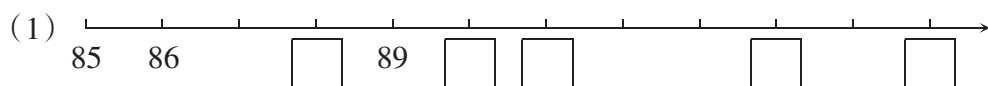
(2) 小明数学考试的成绩是两位数,其中十位上是最大的一位数,个位上的数比十位上的数少 1,

小明的数学成绩是()。



练习九

1. 写数。



(2) 六十() 三十五() 四十六() 一百()

2. 填空。

- (1) 6个一和8个十组成的数是()。
- (2) 74是()位数,它是由()个十和()个一组成的。
- (3) 57里的“5”在()位上,表示5个(),“7”在()位上,表示7个()。
- (4) 从小到大数,67前面一个数是(),后面一个数是()。
- (5) 最大的两位数是(),最小的三位数是()。
- (6) 把52、47、68、90、70、25、86这几个数从小到大排列,70是第()个数,最后的一个数是()。

3. 按要求把下面各数填入方框内。

45 35 67 18 71 90 82 29 56 59

大于60的数
小于60的数

4. 在○里填上“>”“<”或“=”。

$80 - 60$ ○ 60 59 ○ 60 $30 + 40$ ○ 63 $65 - 5$ ○ $65 - 60$
 $30 + 20$ ○ 50 89 ○ 98 $50 - 30$ ○ 80 $71 - 70$ ○ $81 - 80$

5. 我能填。

加数	加数	和
60	30	
5	70	
80	8	

被减数	减数	差
100	30	
46	6	
52	50	

6. 看图解决问题。



(1) 买一个足球和一个排球,需要多少元钱?

$$\square \bigcirc \square = \square \text{ (元)}$$

(2) 一个篮球比一个排球贵多少元钱?

$$\square \bigcirc \square = \square \text{ (元)}$$

三单元能力训练

1. 想一想, 填一填。

- (1) 40, 41, _____, _____, _____。
- (2) _____, _____, _____, 82, 84。
- (3) 65, 70, _____, _____, _____。
- (4) 90, 80, _____, _____, _____。
- (5) _____, _____, 55, _____, _____。

说一说, 你是按什么规律填的?



2. 在○里填上“>”“<”或“=”。

68 ○ 65

69 ○ 79

50 个一 ○ 5 个十

45 ○ 54

63 - 3 ○ 60

80 + 2 ○ 100 - 20

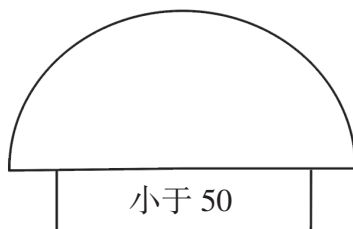
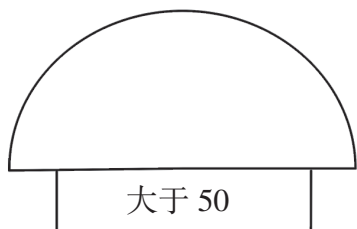
3. 小法官。(对的画“√”, 错的画“×”)

- (1) 49 后面的第一个数是 50, 它表示 50 个十。 ()
- (2) 一个数个位上是 5, 十位上是 2, 这个数是 52。 ()
- (3) 最大的两位数是 99, 最小的两位数是 11。 ()
- (4) 10 个一是 10, 10 个十是 100。 ()
- (5) 35 中的“3”在十位上, 表示 3 个一。 ()

4. 我知道。

写出 5 个大于 50 的数。

写出 5 个小于 50 的数。



5. 想一想, 填一填。

60 - () = 50 () + 20 = 70 70 + () = 90 40 + () = 40

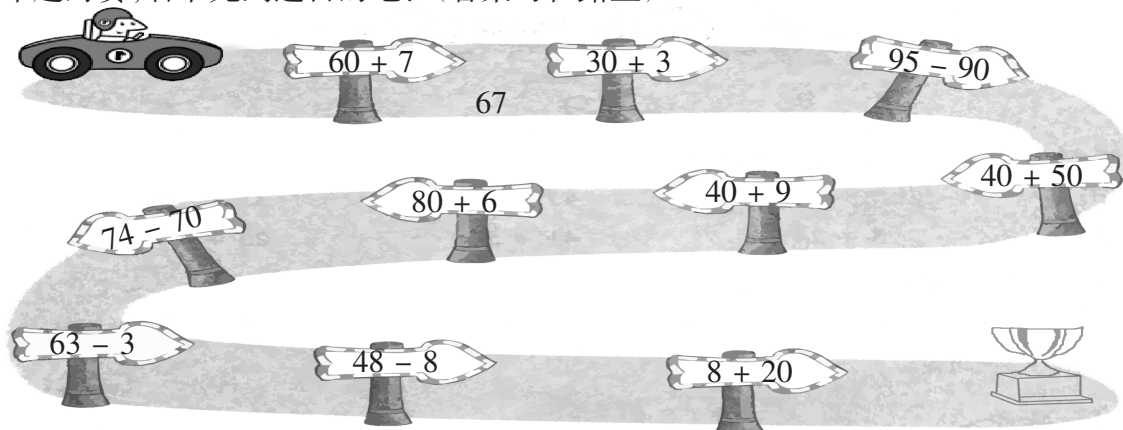
() + 30 = 60 () - 50 = 30 () - 20 = () () - () = ()

6. 比一比, 排一排。

用 2、5、7 可以组成哪些两位数? 请把这些数按从大到小的顺序排一排。



7. 汽车越野赛,看谁先到达目的地?(答案写在路上)



8. 猜一猜。

红旗有 20 面。



黄旗比红旗多一些。

绿旗比红旗少得多。



黄旗有多少面?(在你认为合适的答案下面画“√”)

18	28	45

绿旗有多少面?(在你认为合适的答案下面画“√”)

5	18	35

9. 解决问题。



30 元



8 元



10 元



20 元



38 元

(1) 你喜欢哪两种玩具? 共需要多少元钱?

(2) 说一说,花 40 元正好可以买哪两种玩具?

(3) 你还能提出哪些问题? 请列式解答。

10. 小明和小亮每人都有 50 张邮票,小明送给小亮 10 张后,小亮比小明多多少张?



四 100以内的加法和减法(一)

练习一

1. 先在计数器上拨一拨,再填出结果。

$32 + 20 =$

$50 + 24 =$

$41 + 50 =$

$25 + 40 =$

$32 + 2 =$

$5 + 24 =$

$41 + 5 =$

$25 + 4 =$

2. 比一比,谁先到家。



$32 + 40$

$6 + 33$

$50 + 31$

$4 + 25$



$62 + 7$

$23 + 70$

$92 + 6$

$85 + 10$



$71 + 20$

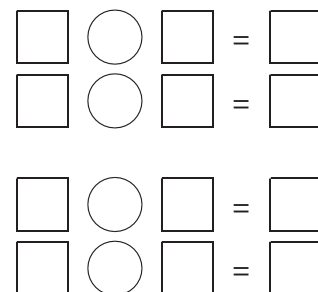
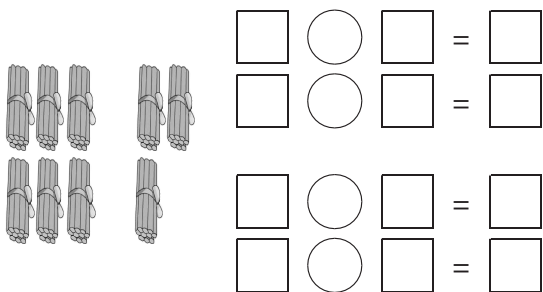
$38 + 40$

$41 + 8$


$20 + 45$



3. 看图列出两道加法和两道减法算式。



4.



两只青蛙一共吃了多少只害虫?

$\square \bigcirc \square = \square \text{ (只)}$



练习二

1. 填一填。

比较每组的两道题,你有什么发现?



$25 + 60 = \square$

$37 + 20 = \square$

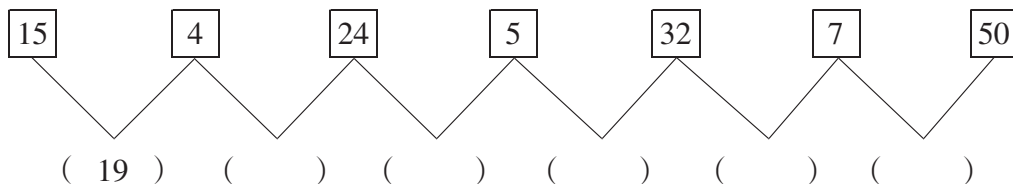
$4 + 53 = \square$

$60 + 25 = \square$

$20 + 37 = \square$

$53 + 4 = \square$

2. 算一算,填一填。



3. 比一比,看谁算得又对又快。

$5 + 74 =$

$28 + 60 =$

$46 + 50 =$

$55 + 20 =$

$4 + 65 =$

$50 + 37 =$

$63 + 6 =$

$38 + 40 =$

$52 + 40 =$

$7 + 92 =$

$57 + 30 =$

$36 + 3 =$

4. 在○里填上“>”“<”或“=”。

$24 + 60 \bigcirc 54$

$19 + 40 \bigcirc 39$

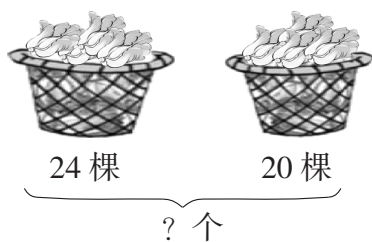
$55 + 3 \bigcirc 85$

$30 + 56 \bigcirc 86$

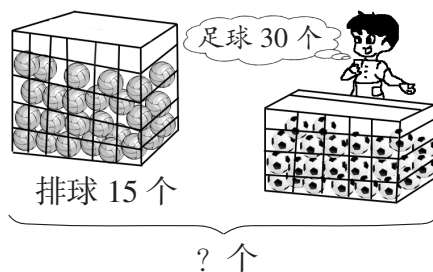
$85 + 4 \bigcirc 45$

$4 + 62 \bigcirc 66$

5. 看图列算式。



$\square \bigcirc \square = \square$



$\square \bigcirc \square = \square$

6.




小啄木鸟和大啄木鸟一共吃了多少条虫子?

$\square \bigcirc \square = \square \text{ (条)}$

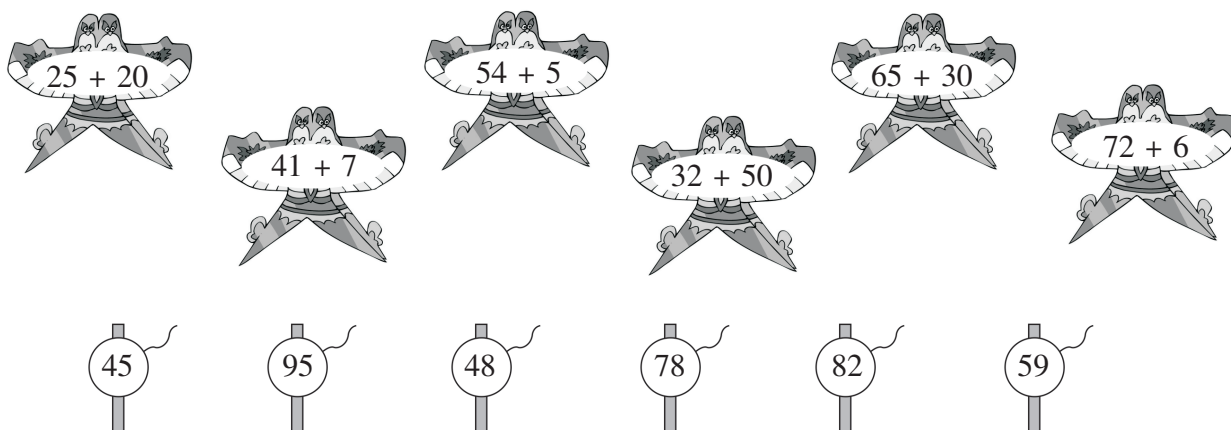


练习三

1. 比一比, 填一填。



2. 连一连。



3. 填一填。

			
学校原有	25 个	17 个	17 根
又买来	20 个	20 个	30 根
现在共有			

4. 想想做做。

(1) 小红做的花, 送给小朋友 16 朵后还剩 30 朵。小红做了多少朵花?

$$\square \bigcirc \square = \square \text{ (朵)}$$

(2) 公交车到动物园站下去了 5 人后车上还有 34 人。车上原来有多少人?

$$\square \bigcirc \square = \square \text{ (人)}$$

(3) 明明要写一些大字。写好了 19 个, 还要写 20 个。明明一共要写多少个大字?

$$\square \bigcirc \square = \square \text{ (个)}$$



练习四

1. 先在计数器上拨一拨,再填出结果。

$64 - 30 =$

$95 - 40 =$

$86 - 50 =$

$64 - 3 =$

$95 - 4 =$

$86 - 5 =$

2. 填一填。

$98 - 50 =$

$88 - 40 =$

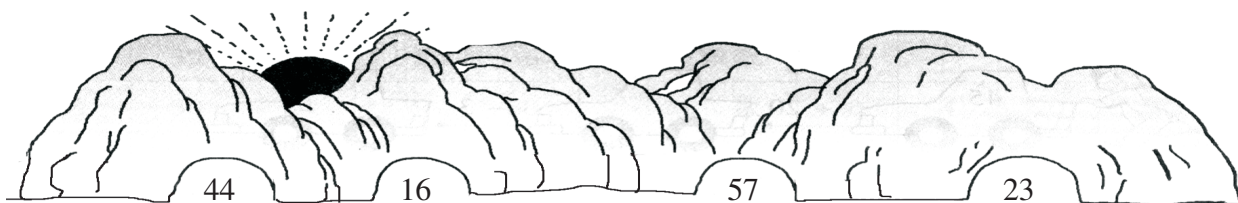
$79 - 50 =$

$98 - 5 =$

$88 - 4 =$

$79 - 5 =$

3. 请把小老虎送回家。



$40 + 17$

$56 - 40$

$63 - 40$

$74 - 30$

$76 - 60$



4. 算一算,填一填。



	儿童画报	故事书	连环画
原有	33本	25本	46本
借走	20本	4本	30本

(1) 儿童画报还剩多少本?

$33 - 20 = \square \text{ (本)}$

(2) 故事书还剩多少本?

$\square \bigcirc \square = \square \text{ (本)}$

(3) 连环画还剩多少本?

$\square \bigcirc \square = \square \text{ (本)}$

5. 解决问题。



$\square \bigcirc \square = \square \text{ (下)}$



练习五

1. 算一算。

$65 - 3 =$ $58 + 40 =$ $98 - 70 =$ $37 + 50 =$

$92 - 70 =$ $62 + 7 =$ $88 - 5 =$ $42 + 5 =$


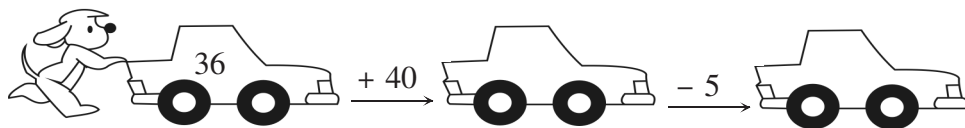

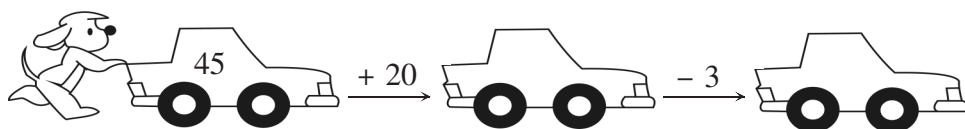
$89 - 7 =$ $45 + 30 =$ $28 + 70 =$ $39 - 20 =$

2. 在○里填上“>”“<”或“=”。

$87 - 40$ ○ $37 + 30$ $23 + 6$ ○ $96 - 80$

$97 - 30$ ○ $40 + 27$ $62 + 7$ ○ $58 - 30$

3. 谁得第一?



4. 解决问题。

(1) 学校有跳绳 45 根, 同学们借走了 30 根, 还剩多少根?


$\square \bigcirc \square = \square$ (根)

(2) 母鸡和小鸡共有 68 只, 母鸡有 5 只, 小鸡有多少只?

$\square \bigcirc \square = \square$ (只)

(3)

我今天 5 分钟做了 28 道加法口算题。



我如果再多做 6 道题就和你一样多了。

你知道我今天 5 分钟做了多少道加法口算题吗?



$\square \bigcirc \square = \square$ (道)



练习六

1. 我是几? 请在适当的空格里画“√”。

我比 34 大, 我不是 36。	<table border="1" style="width: 100%; text-align: center;"> <tr><td>33</td><td>34</td><td>35</td><td>36</td></tr> <tr><td> </td><td> </td><td> </td><td> </td></tr> </table>	33	34	35	36				
33	34	35	36						
我比 54 小, 我比 40 与 12 的和。	<table border="1" style="width: 100%; text-align: center;"> <tr><td>51</td><td>52</td><td>53</td><td>54</td></tr> <tr><td> </td><td> </td><td> </td><td> </td></tr> </table>	51	52	53	54				
51	52	53	54						
我比 96-30 的差小,我 不是 65。	<table border="1" style="width: 100%; text-align: center;"> <tr><td>64</td><td>65</td><td>66</td><td>67</td></tr> <tr><td> </td><td> </td><td> </td><td> </td></tr> </table>	64	65	66	67				
64	65	66	67						
我不是最大 的两位数, 我比 97 大。	<table border="1" style="width: 100%; text-align: center;"> <tr><td>96</td><td>97</td><td>98</td><td>99</td></tr> <tr><td> </td><td> </td><td> </td><td> </td></tr> </table>	96	97	98	99				
96	97	98	99						

2. 算一算, 填一填。

加数	39	5	92	36
加数	30	84	7	60
和				

被减数	92	87	35	77
减数	30	4	20	5
差				

3. 图书角有 38 本图书, 借走一些后还剩 20 本。借走多少本?

$$\square \bigcirc \square = \square \text{ (本)}$$

4. 学与用。




裙子: 20 元 短裤: 16 元 鞋: 12 元

(1) 我只有 8 元钱, 我想买(), 还差()元钱。_____

(2) 三样东西都买, 50 元钱够吗? 还差多少元钱? _____

5. 解决问题。



(1) 熊妈妈摘了多少个玉米?

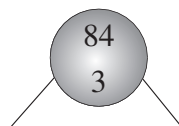
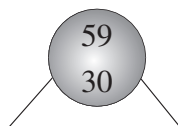
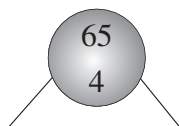
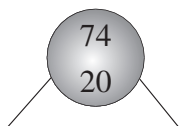
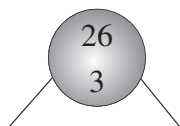
(2) 它们一共摘了多少个玉米?

$$\square \bigcirc \square = \square \text{ (个)}$$

$$\square \bigcirc \square = \square \text{ (个)}$$

练习七


1. 下面每两个数先算加法,后算减法。



和: _____

差: _____

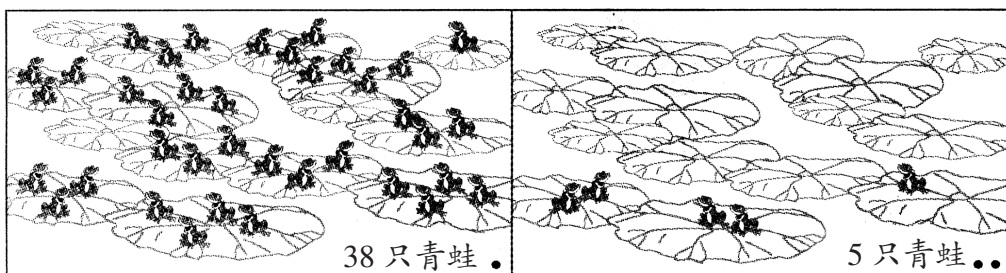
2. 送信。



3. 商店有 65 台洗衣机,卖出一些后,还剩 20 台。卖出多少台?

$$\square \bigcirc \square = \square \text{ (台)}$$

4.



跳下去多少只青蛙? $\square \bigcirc \square = \square \text{ (只)}$

5. 根据图中的信息提出问题并解答。

大猴有 10 只。



小猴有 35 只。



加法问题: _____

$$\square \bigcirc \square = \square \text{ (只)}$$

减法问题: _____

$$\square \bigcirc \square = \square \text{ (只)}$$



练习八

1. 先用计数器拨一拨,再算一算。

$53 + 26 =$

$78 - 35 =$

$45 + 33 =$

2. 用竖式计算。

$97 - 36 =$

$38 + 41 =$

$62 - 51 =$

$57 - 45 =$

3. 小小法官。(对的画“√”,错的画“×”,并改正)

$$\begin{array}{r} 72 \\ + 2 \\ \hline 92 \end{array}$$

()

$$\begin{array}{r} 36 \\ + 62 \\ \hline 98 \end{array}$$

()




$$\begin{array}{r} 93 \\ - 31 \\ \hline 64 \end{array}$$

()

$$\begin{array}{r} 71 \\ + 28 \\ \hline 59 \end{array}$$

()

4. 填一填。


			
玩具店原有	38 辆	() 辆	38 架
卖出	15 辆	16 辆	() 架
还剩	() 辆	23 辆	25 架

5. (1) 买 1 个羽毛球拍多少元?



$\square \bigcirc \square = \square \text{ (元)}$

(2) 同学们观看篮球比赛。请你根据所给信息提出两个数学问题,并试着解答。



一班	二班
20 人	23 人

问题① _____

$\square \bigcirc \square = \square \text{ (人)}$

问题② _____

$\square \bigcirc \square = \square \text{ (人)}$



练习九

1. 填一填。

○○○○○○○○○○○○○○○○○○○○






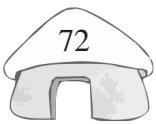
()比()多()个,

△△△△△△△△△

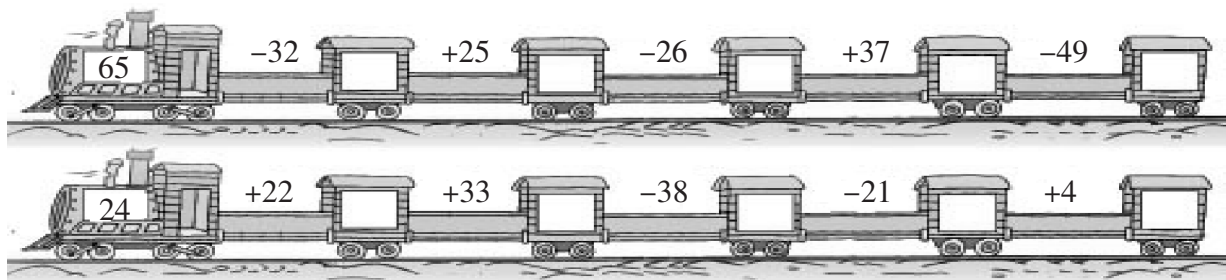
()比()少()个。

□□□□□□□□□□□□

2. 连线。




3. 算一算。



4. 解决问题。

(1) 大恐龙比小恐龙高多少米?

□ ○ □ = □ (米)



(2)



① 杨树和柳树一共有多少棵?

□ ○ □ = □ (棵)

② 杨树比柳树少多少棵?

□ ○ □ = □ (棵)



练习十

1. 先估一估得数是几十,再算一算。

$68 + 30 =$

$33 + 6 =$

$35 + 54 =$

$9 + 60 =$

$66 - 24 =$

$98 - 70 =$

$76 - 24 =$

$62 + 7 =$

$75 - 23 =$

$54 - 31 =$

$87 - 5 =$

$42 + 47 =$

2. 用竖式计算。

$35 + 24 =$


$83 - 42 =$

$64 + 5 =$

$68 - 46 =$

$29 - 8 =$

3. 算一算。



每人1把椅子,还有多少个同学没有座位?

$\square \bigcirc \square = \square \text{ (个)}$

4.



48 只



20 只



16 只

(1) 羊比鸡多多少只?

$\square \bigcirc \square = \square \text{ (只)}$

(2) 兔和鸡一共有多少只?

$\square \bigcirc \square = \square \text{ (只)}$

(3) 你还能提出什么问题? 请写下来,并列式解答。

5. 一年级(1)班的小朋友排成一排进行体检,小强从前数和从后数都是第 21 名。一年级(1)班共有多少名学生?



练习十一

1. 填一填。

$68 + 20 = \square$

$20 + 75 = \square$

$8 + 21 = \square$

$77 - 75 = \square$

$95 - 34 = \square$

$36 + 63 = \square$

$91 - 20 = \square$

$55 + 43 = \square$

2. 先说出每题的得数约是几十,再计算。

$$\begin{array}{r} 87 \\ - 36 \\ \hline \end{array}$$

$$\begin{array}{r} 68 \\ - 31 \\ \hline \end{array}$$

$$\begin{array}{r} 56 \\ + 30 \\ \hline \end{array}$$

$$\begin{array}{r} 39 \\ - 5 \\ \hline \end{array}$$

$$\begin{array}{r} 68 \\ + 11 \\ \hline \end{array}$$

$$\begin{array}{r} 7 \\ + 42 \\ \hline \end{array}$$

$$\begin{array}{r} 38 \\ + 60 \\ \hline \end{array}$$

$$\begin{array}{r} 8 \\ + 91 \\ \hline \end{array}$$

$$\begin{array}{r} 33 \\ + 65 \\ \hline \end{array}$$

$$\begin{array}{r} 78 \\ - 7 \\ \hline \end{array}$$

3. 在○里填上“>”“<”或“=”。

$3 + 54 \bigcirc 76 - 13$

$78 - 65 \bigcirc 13 + 40$

$8 + 51 \bigcirc 99 - 63$

$8 + 21 \bigcirc 49 - 20$

4. 解决实际问题。



我们体育组打篮球的有35人。



我们踢足球的有33人。


(1) 踢足球的比打篮球的少几人?

$\square \bigcirc \square = \square \text{ (人)}$

(2) 打篮球的和踢足球的一共有多少人?

$\square \bigcirc \square = \square \text{ (人)}$

5. 看图提出数学问题,并写出算式和得数。



练习十二

1. 算一算。

$41 + 6 =$

$16 + 50 =$

$85 + 10 =$

$96 - 35 =$

$38 - 5 =$

$50 + 36 =$

$47 - 15 =$

$25 + 52 =$

2. 计算。

$$\begin{array}{r} 78 \\ - 32 \\ \hline \end{array}$$

$$\begin{array}{r} 65 \\ + 34 \\ \hline \end{array}$$

$$\begin{array}{r} 56 \\ + 23 \\ \hline \end{array}$$

$$\begin{array}{r} 99 \\ - 35 \\ \hline \end{array}$$

3. (1) 钢琴一共有多少个键?

$\square \bigcirc \square = \square \text{ (个)}$

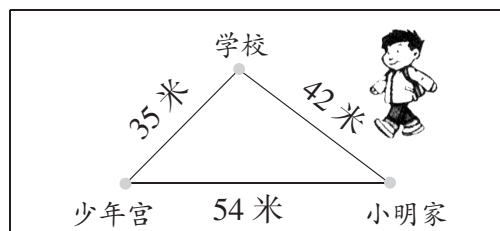


(2) 小明从家到学校,再到少年宫,共走了多少米?

$\square \bigcirc \square = \square \text{ (米)}$

小明从家到学校比从家到少年宫少走多少米?

$\square \bigcirc \square = \square \text{ (米)}$



(3) 小明和小红每人要浇 38 棵树。



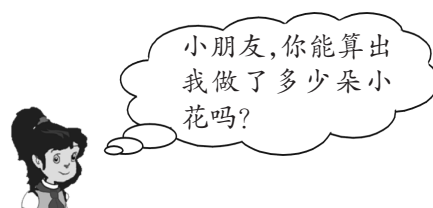

① 小明还要浇多少棵树?

$\square \bigcirc \square = \square \text{ (棵)}$

② 小红已经浇了多少棵树?

$\square \bigcirc \square = \square \text{ (棵)}$

4. 解决问题。



$\square \bigcirc \square = \square \text{ (朵)}$



四单元能力训练

1. 看谁算得又对又快。

$38 - 6 =$

$26 + 30 =$

$76 - 40 =$

$99 - 32 =$

$10 + 46 =$

$52 + 40 =$

$87 - 44 =$

$30 + 14 =$

2. 想一想, 填一填。

$63 + 30 > (\quad)$

$28 + (\quad) < 50$

$41 - (\quad) > 38$

$72 + 5 > (\quad)$

$6 + 23 < (\quad)$

$85 + (\quad) < 90$

3. 在○里填上“>”“<”或“=”。

$78 + 21 \bigcirc 45 + 54$

$38 - 22 \bigcirc 90 + 5$

$63 - 21 \bigcirc 66 + 20$

$8 + 51 \bigcirc 13 + 41$

4. 用竖式计算。

$42 + 35 =$

$87 - 26 =$

$8 + 31 =$

$98 - 7 =$


$33 + 50 =$

$75 - 34 =$


$7 + 92 =$

$88 - 80 =$

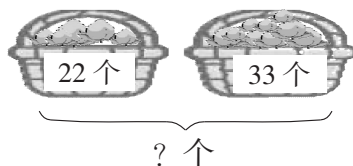
5. 接力赛。(在小动物身上的空白处填上得数)



6. 看图列算式。



$\square \bigcirc \square = \square \text{ (个)}$




$\square \bigcirc \square = \square \text{ (个)}$



7. 解决问题。

(1) 同学们踊跃为希望小学捐书。



① (1)班比(2)班多捐多少本书?

$$\square \bigcirc \square = \square \text{ (本)}$$

② (2)班和(3)班共捐多少本书?

$$\square \bigcirc \square = \square \text{ (本)}$$

③ 请你再提出一个数学问题,并试着解答。

(2) 校门口要摆放 36 盆花来美化校园,摆了一些后,还差 13 盆。已经摆了多少盆?

$$\square \bigcirc \square = \square \text{ (盆)}$$

(3) 兰兰和军军每人要写 47 个大字。



① 军军已经写好了多少个大字?

$$\square \bigcirc \square = \square \text{ (个)}$$

② 兰兰还要写多少个大字才能写完?

$$\square \bigcirc \square = \square \text{ (个)}$$

8. 星期天,大家买票去动物园。



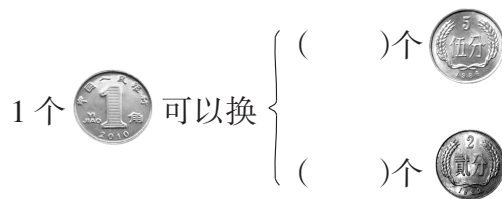
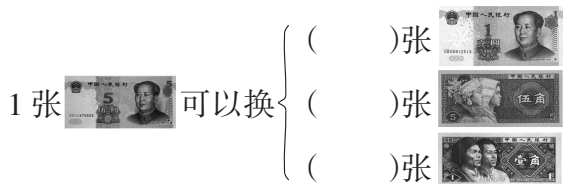
到目前为止,今天一共会有多少人买票去动物园?



五 元、角、分

练习一

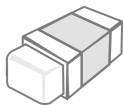
1. 我会换。



2. 我会填。



3. 我会算。



2 角



5 角



1 角

小明带了一元钱,可以买哪几件物品? 应找回多少钱?

4. 想一想,填一填。

1 角 = () 分

10 分 = () 角

7 角 = () 分

60 分 = () 角

3 元 = () 角

50 角 = () 元

1 角 7 分 = () 分

1 元 2 角 = () 角

1 元 = () 角 = () 分

25 分 = () 角 () 分

5. 上下连一连,凑成一元钱。



练习二

1. 我能行。

慧慧和红红准备去沙湖玩,需要采购些物品,请你数数她们的储蓄罐里有多少钱?



_____元 _____角 _____分



_____元 _____角 _____分

2. 试一试,把元、角、分送到该去的地方。



10 _____



3 _____



8 _____



20 _____

3. 看图填空。

买的物品	付出的钱	应找回的钱
3元		2元
1元8角		
4元		
2元		
9元		
9角 4角		

4. 算一算。

我买一个篮球,付给1张50元和1张5元的纸币,售货员给我找回3枚1元的硬币。



我买球用去了26元钱。



(1) 小军花了多少元钱买篮球?

$$\square \bigcirc \square = \square \text{ (元)}$$

(2) 两人买球一共用去了多少元钱?

$$\square \bigcirc \square = \square \text{ (元)}$$



练习三

1. 选一选。

- (1) 一支铅笔的价钱大约是()。
 ① 5元 ② 5角 ③ 5分
- (2) 一个书包的价钱大约是()。
 ① 38元 ② 3元8角 ③ 8分

2. 在○里填上“>”“<”或“=”。

- 4元 ○ 80角 1元 ○ 100分 23角 ○ 1元3角
 5分 ○ 5元 70分 ○ 8角 20角 ○ 2元



3. 慧慧和红红在购物中学会了找钱,你学会了吗?





- (1) 买一块蛋糕,付1元钱,应找回_____。
 买一块蛋糕,付2元钱,应找回_____。
- (2) 买一听牛肉罐头,付一张5元和一张1元,应找回_____。
 如果付10元呢? 应找回_____。
- (3) 买一个书包,说说你怎样付钱? 怎样找钱?
 付_____,应找回_____。
 付_____,应找回_____。

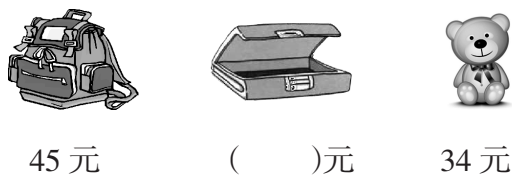
4. 想一想。



- (1) 买一本  和一块  共用多少钱? (3) 以上物品,各买一个共用多少钱? 付了5元,应找回多少钱?

- (2) 买一块  比买一把  便宜多少钱?

5. 想一想,解决问题。




- (1) 买一个书包和一只玩具小熊需要多少钱?
 $\square \bigcirc \square = \square$ (元)
- (2) 买一个铅笔盒付给15元,找回3元,一个铅笔盒多少钱?(把价格标在左边图中的括号里)
 $\square \bigcirc \square = \square$ (元)

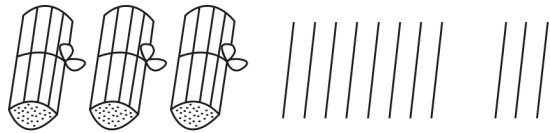
六 100以内的加法和减法(二)

练习一

1. 圈一圈,再计算。



$$24 + 8 = \square$$



$$38 + 3 = \square$$

2. 算一算。

$63 + 7 =$

$75 + 9 =$

$29 + 4 =$

$56 + 7 =$

$49 + 9 =$

$8 + 66 =$

$45 + 5 =$

$7 + 78 =$

3. 照样子,写一写。

$65 + 7 = \square$

$\square + \square = \square$

$\square + \square = \square$

$7 + 65 = \square$

$\square + \square = \square$

$\square + \square = \square$

4.



38个



5个

(1) 排球和毽子一共有多少个?

$\square \bigcirc \square = \square \text{ (个)}$



30个



20个

(2) 网球比羽毛球少多少个?

$\square \bigcirc \square = \square \text{ (个)}$

5.



(1) 如果 9 人都上车,那么车上一共会有多少人?

$\square \bigcirc \square = \square \text{ (人)}$

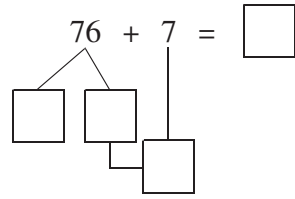
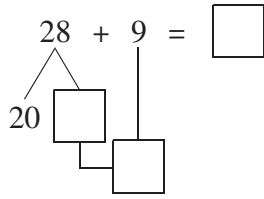
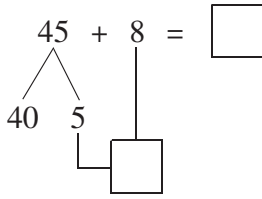
(2) 会不会超载呢?

超载	不超载



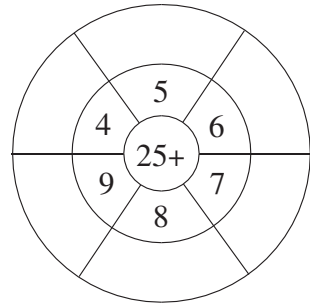
练习二

1. 填一填。






2. 填空。




加数	27	43	9	40	5	88
加数	6	7	32	34	64	8
和						





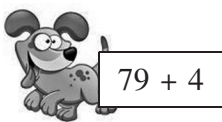
3. 森林医生。



4. 找朋友。



得数相同的是朋友,用线把它们连起来。



5.



你知道我一分钟跳了多少下吗?

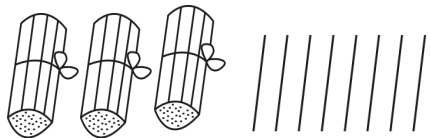
$$\square \quad \bigcirc \quad \square = \square \quad (\text{下})$$

6. 小朋友们站成一排等车去春游,小红前面有15人,后面有6人,这一排一共有()人。



练习三

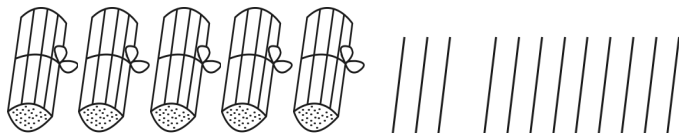
1. 圈一圈,再计算。



$$30 - 8 = \square$$

先算 $\square - \square = \square$

再算 $\square + \square = \square$



$$53 - 9 = \square$$

先算 $\square - \square = \square$

再算 $\square + \square = \square$

2. 用小棒摆一摆,算一算。

$81 - 5 =$

$45 - 9 =$

$52 - 6 =$

$47 - 8 =$

$54 - 7 =$

$30 - 9 =$

3. 接力赛,夺红旗。

$$24 \xrightarrow{-5} \square \xrightarrow{+4} \square \xrightarrow{-7} \square \xrightarrow{+6} \square \xrightarrow{-9} \square \longrightarrow \text{红旗}$$

$$48 \xrightarrow{+6} \square \xrightarrow{-7} \square \xrightarrow{+8} \square \xrightarrow{-9} \square \xrightarrow{-10} \square \longrightarrow \text{红旗}$$

4. 列式计算。


(1) 减数是 5,被减数是 50,差是多少? _____

(2) 差是 25,减数是 9,被减数是多少? _____

(3) 两个加数都是 9,和是几? _____

(4) 最大的一位数与 57 相加是多少? _____

5.



(1) 爷爷比小力大多少岁?

$$\square \bigcirc \square = \square \text{ (岁)}$$

(2) 爷爷和小力一共是多少岁?

$$\square \bigcirc \square = \square \text{ (岁)}$$



练习四

1. 算一算。



$$\begin{aligned} 32 - 8 &= \\ 73 - 5 &= \\ 40 - 2 &= \\ 54 - 5 &= \end{aligned}$$



$$\begin{aligned} 63 - 6 &= \\ 47 - 8 &= \\ 35 - 7 &= \\ 90 - 9 &= \end{aligned}$$

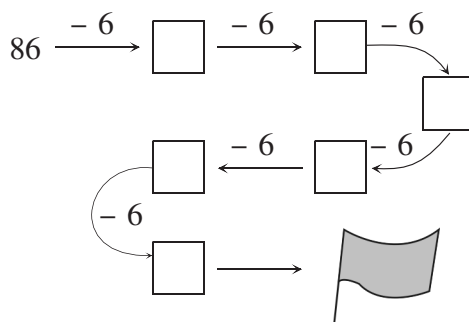
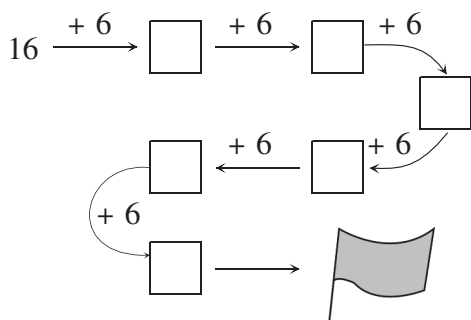


$$\begin{aligned} 48 - 9 &= \\ 71 - 8 &= \\ 84 - 8 &= \\ 70 - 3 &= \end{aligned}$$

看谁算得又对又快!



2. 夺红旗。



3. 连线。

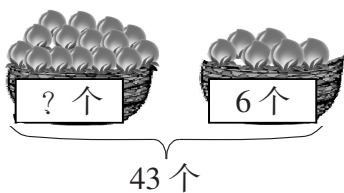
$$\begin{aligned} 26 - 7 \\ 87 - 9 \\ 32 - 5 \\ 73 - 8 \end{aligned}$$

$$\begin{aligned} 78 \\ 27 \\ 19 \\ 65 \end{aligned}$$

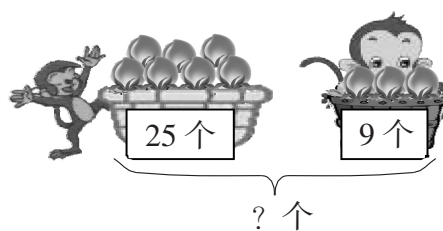
$$\begin{aligned} 32 - 6 \\ 42 - 3 \\ 53 - 6 \\ 20 - 4 \end{aligned}$$

$$\begin{aligned} 16 \\ 47 \\ 39 \\ 26 \end{aligned}$$

4. 看图列算式。



$$\square \bigcirc \square = \square \text{ (个)}$$



$$\square \bigcirc \square = \square \text{ (个)}$$

5. 解决问题。

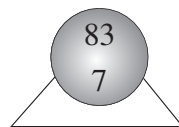
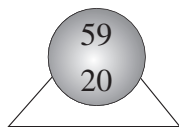
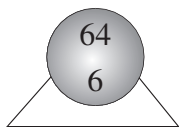
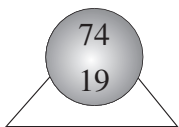
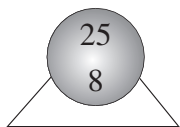
(1) 同学们要种 54 棵树,已经种了 7 棵,还要种多少棵?

(2) 妈妈买回一些苹果,吃了 8 个,还剩 22 个,妈妈共买回多少个苹果?



练习五


1. 下面每组的两个数先算加法,后算减法。



和: _____

差: _____

2. 连一连。



$$26 - 8$$

$$50 - 7$$

$$54 - 6$$

$$86 - 9$$

3. 小明买了一部计算器,他给了售货员阿姨 50 元钱,找回了 2 元,这个计算器多少元钱?

4. 算一算,水果店里各种水果还剩多少千克?

	原有	卖出	还剩
	72 千克	9 千克	() 千克
	26 千克	7 千克	() 千克
	45 千克	6 千克	() 千克

5. 根据图中所给的数据,你能提出哪些数学问题? 会解答吗?

问题(1): _____

$$\square \bigcirc \square = \square \text{ ()}$$

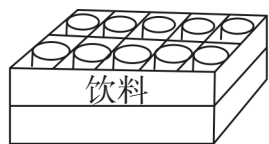
问题(2): _____

$$\square \bigcirc \square = \square \text{ ()}$$

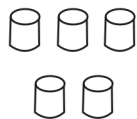
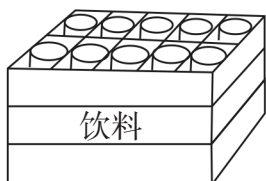


练习六

1. 算一算。



$$(\quad) + (\quad) = (\quad)$$



$$\begin{array}{r} (\quad) \\ + (\quad) \\ \hline (\quad) \end{array}$$

2. 算一算,想一想。

$34 + 8 =$

$26 + 27 =$

$5 + 39 =$

$8 + 56 =$

$34 + 18 =$

$26 + 47 =$

$15 + 39 =$

$18 + 56 =$

3. 列竖式计算。

$44 + 28 =$





$88 + 5 =$

$87 + 9 =$

$13 + 29 =$

4.



一件  65 元, 一条  比一件  贵 19 元, 一条  多少元钱?

$$\square \bigcirc \square = \square \text{ (元)}$$

5. 停车场有 47 辆 , 又开来了 39 辆 , 现在有多少辆  ?

$$\square \bigcirc \square = \square \text{ (辆)}$$

6. 一年级(1)班的同学在老师的组织下去春游。



一年级(1)班一共有多少个同学参加春游?



练习七

1. 帮小牛回家。

$$\begin{array}{r} 47 \\ + 14 \\ \hline \end{array}$$

$$\begin{array}{r} 5 \\ + 88 \\ \hline \end{array}$$

$$\begin{array}{r} 25 \\ + 36 \\ \hline \end{array}$$

$$23 + 32 =$$

$$\begin{array}{r} 25 \\ + 75 \\ \hline \end{array}$$

2. 用竖式计算。

$35 + 8 =$

$39 + 12 =$

$57 + 8 =$

$5 + 35 =$

$57 + 6 =$

$19 + 29 =$

$45 + 37 =$

$28 + 38 =$

3. 连一连。

$46 + 47$

75

$46 + 16$

46

$37 + 38$

93

$85 - 20$

56

$9 + 56$

43

$39 + 17$

62

$48 - 5$

65

$9 + 37$

65

4. 接力赛。

$27 \xrightarrow{+9} \square \xrightarrow{+16} \square \xrightarrow{-20} \square \xrightarrow{+9} \square \xrightarrow{+15} \square$

$46 \xrightarrow{-20} \square \xrightarrow{+9} \square \xrightarrow{+11} \square \xrightarrow{+27} \square \xrightarrow{-40} \square$

5. 为了庆祝“六一”儿童节,学校给各年级发小彩旗。

我们一年级领了 37 面小彩旗。

给你们二年级发 46 面小彩旗。

两个年级一共领走了多少面小彩旗? $\square \bigcirc \square = \square$ (面)

练习八

1. 我能算得又快又准,不信你瞧!

$51 + 19 =$

$35 + 24 =$

$39 + 9 =$

$29 + 20 =$

$9 + 58 =$

$25 + 15 =$

$28 + 57 =$

$38 - 10 =$

$73 + 18 =$

$95 - 20 =$

$46 - 16 =$

$52 + 40 =$

2. 我是小法官。(对的画“√”,错的画“×”,并改正)

$$\begin{array}{r} (1) \quad 61 \\ + 19 \\ \hline 70 \\ (\quad) \end{array}$$

$$\begin{array}{r} (2) \quad 19 \\ + 50 \\ \hline 79 \\ (\quad) \end{array}$$

$$\begin{array}{r} (3) \quad 39 \\ + 2 \\ \hline 59 \\ (\quad) \end{array}$$

$$\begin{array}{r} (4) \quad 78 \\ + 12 \\ \hline 90 \\ (\quad) \end{array}$$

3. 请把这些小鸭送回家。



$49 + 50$



$46 - 30$



$37 + 28$

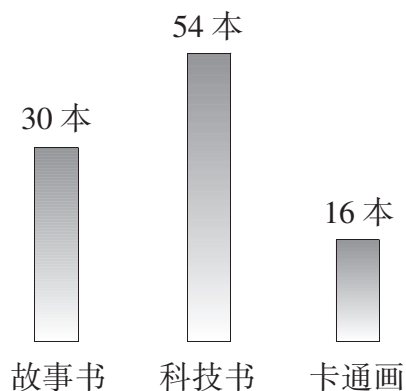


$59 + 6$



$43 + 28$

4. 我校一年级(2)班图书角藏书情况如下图。



看图提出问题并解答。





练习九

1. 先在计数器上拨一拨,再填出结果。

$42 - 19 =$

$81 - 77 =$

$58 - 50 =$

$33 - 25 =$

$94 - 49 =$

$76 - 28 =$

$60 - 38 =$

$72 - 56 =$

$40 - 28 =$

2. 用小棒摆一摆,再算一算。

$55 - 18 =$

$72 - 29 =$

$70 - 49 =$

3. 用竖式计算。

$73 - 37 =$

$54 - 26 =$

$90 - 58 =$

$63 - 25 =$

4. 我是小法官。(对的画“√”,错的画“×”,并改正)

$50 - 26 = 34$

$100 - 64 = 44$

$92 - 19 = 73$

$$\begin{array}{r} 50 \\ - 26 \\ \hline 34 \end{array}$$

$$\begin{array}{r} 100 \\ - 64 \\ \hline 44 \end{array}$$

$$\begin{array}{r} 92 \\ - 19 \\ \hline 73 \end{array}$$

()

()

()

5.



27 个糖果



45 个糖果

(1) 一大袋糖果比一小袋糖果多多少个糖果?

$\square \bigcirc \square = \square \text{ (个)}$

(2) 一小袋糖果和一大袋糖果一共有多少个糖果?

$\square \bigcirc \square = \square \text{ (个)}$

6.



20 只



33 只



8 只

提出数学问题,并解答。

7. 奶奶今年 63 岁,爸爸今年 39 岁,5 年后奶奶比爸爸大多少岁?

练习十

1. 用竖式计算下面各题。

$$\begin{array}{r} 42 \\ -17 \\ \hline \end{array}$$

$$\begin{array}{r} 40 \\ -19 \\ \hline \end{array}$$

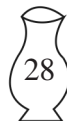
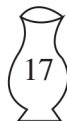
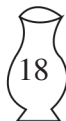
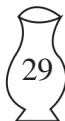
$$\begin{array}{r} 27 \\ -18 \\ \hline \end{array}$$

$$\begin{array}{r} 51 \\ -26 \\ \hline \end{array}$$

$$\begin{array}{r} 85 \\ -39 \\ \hline \end{array}$$

$$\begin{array}{r} 51 \\ -14 \\ \hline \end{array}$$

2. 把花儿插进花瓶中。



3. 解决问题。

(1)




车上共有 45 个座位, 还有()

个座位空着。

$$\square \bigcirc \square = \square \text{ (个)}$$

(2)



$$\square \bigcirc \square = \square \text{ (个)}$$

4. 小芳有 73 枚一元的硬币。



(1) 小芳还剩下多少元钱?


$$\square \bigcirc \square = \square \text{ (元)}$$

(2) 小芳剩下的钱最多能换()张 10 元的纸币, 还余下()元。



练习十一

1. 小动物找家。



2. 用竖式计算。

$70 - 36 =$

$54 - 28 =$

$35 + 47 =$

$62 - 37 =$

$28 + 28 =$

3. 填空。

				
原有	43 个	35 根	() 支	() 本
卖出	5 个	() 根	37 支	47 本
还剩	() 个	20 根	18 支	46 本

4. 提问题,并解答。



36 只



比羊多 7 只



比羊少 20 只

(1) _____

(2) _____

5. 猜一猜。







练习十二

1. 谁放的风筝, 连一连。



$9 + 24$



$75 - 9$



$98 - 40$



$56 + 20$



66



33



58



76

2. 算一算, 填一填。

$31 + 25$

$90 - 52$

$18 + 30$

$35 + 6$

$38 + 14$

$48 - 19$

$24 + 6$

$43 + 21$

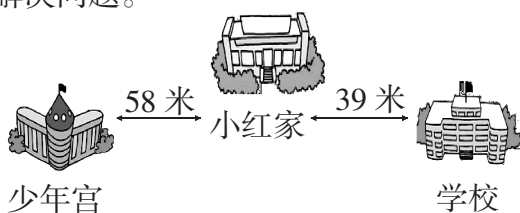
$91 - 31$

$39 + 4$

得数大于 50 的算式

得数小于 50 的算式

3. 解决问题。



(1) 从少年宫到学校有多少米?

$\square \bigcirc \square = \square \text{ (米)}$

(2) 小红从家到学校比从家到少年宫少多少米?

$\square \bigcirc \square = \square \text{ (米)}$

4. 我会买玩具。



19 元

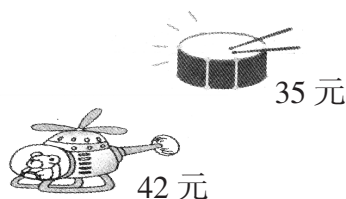
17 元



18 元



8 元



35 元

42 元

(1) 你喜欢哪两样玩具? 买这两样玩具需要多少元钱?

(2) 拿 60 元钱刚好可以买哪两样玩具?



练习十三

1. 送小狗回家。



$62 - 14 =$

$36 + 14 =$

$90 - 43 =$

$42 - 39 =$



$60 - 15 =$

$53 - 25 =$

$14 + 71 =$

$81 - 18 =$



$35 + 25 =$

$35 - 25 =$

$35 - 28 =$

$8 + 47 =$



2.

我捉了 42 只害虫。

我比你少捉 8 只。



小青蛙捉了多少只害虫？

$\square \bigcirc \square = \square \text{ (只)}$

3.

我们已经做了 57 个。

还要做 28 个
小灯笼。



(1) 他们一共要做多少个小灯笼？

$\square \bigcirc \square = \square \text{ (个)}$

(2) 全部做好后, 送给小朋友 48 个, 还剩下多少个小灯笼？

$\square \bigcirc \square = \square \text{ (个)}$

4. 跳绳比赛。



小东



小丽



小明

(1) 小东比小丽多跳()下。

$\square \bigcirc \square = \square \text{ (下)}$

(2) 小明比小丽少跳()下。

$\square \bigcirc \square = \square \text{ (下)}$

(3) 你还能提出什么问题？并解答。

问题: _____

$\square \bigcirc \square = \square \text{ (下)}$

小东	小丽	小明
跳了 63 下	跳了 57 下	跳了 48 下





五、六单元能力训练

1. 看谁算得又对又快。

$4 + 30 =$	$18 + 9 =$	$13 - 6 =$	$18 - 7 =$
$70 + 5 =$	$99 - 90 =$	$87 - 80 =$	$90 + 3 =$
$7 + 9 =$	$55 - 50 =$	$32 - 2 =$	$8 + 6 =$

2. 你会兑换人民币吗?

(1) 1张  可以换 _____ 张 , 或者换 _____ 张



(2) 1张  = _____ 张  = _____ 张 

= _____ 张  。

(3) 1张  = _____ 张  = _____ 张 

= _____ 张  。

(4) 一张5元纸币, 一张5角纸币, 一个5分硬币, 合起来是()。

3. 小蜗牛回家。



4. 用竖式计算。

$29 + 36 =$	$45 + 45 =$	$53 - 27 =$	$79 + 8 =$
$60 - 48 =$	$6 + 85 =$	$31 - 16 =$	$75 - 39 =$



5. 想一想,填一填。

加数	57		27	18	8
加数	30	28	3		22
和		68		58	

被减数	57	28	98		28
减数	30	8		20	
差			8	75	28

6. 解答问题。



17 元





35 元




28 元




46 元

(1) 买一件  和一条  要用多少元?

$$\square \bigcirc \square = \square \text{ (元)}$$

(2) 一顶  比一双  便宜多少元?

$$\square \bigcirc \square = \square \text{ (元)}$$

(3) 小红买了一顶 , 付了 50 元, 应找回多少元?

$$\square \bigcirc \square = \square \text{ (元)}$$

(4) 小刚付了 100 元, 找回 54 元, 他买的是什么?

$$\square \bigcirc \square = \square \text{ (元)}$$

答: 他买的是_____。

7. 解答问题。



(1) 学校舞蹈队有多少人?

$$\square \bigcirc \square = \square \text{ (人)}$$

(2) 合唱队和舞蹈队一共有多少人?

$$\square \bigcirc \square = \square \text{ (人)}$$



期末检测(A)

1. 直接写得数。

$13 - 5 =$

$88 - 60 =$

$89 + 9 =$

$16 - 8 =$

$90 - 40 =$

$8 + 46 =$

$54 + 20 =$

$68 - 30 =$

$36 + 8 =$

$76 - 9 =$

$12 - 7 =$

$69 - 9 =$

$45 - 9 =$

$8 + 50 =$

$26 + 4 =$

$78 + 2 =$

$78 - 70 =$

$37 + 4 =$

$24 + 30 =$

$70 + 30 =$

2. 填空。

(1) 我是5,在35里,我在()位上,表示()个()。在53里,我在()位上,表示()个()。

(2) 最大的一位数是(),最大的两位数是(),它们的差是()。

(3) 100里面有()个一;100里面有()个十。

(4) 5个十和8个一是()。

(5)

15	25			55				95
----	----	--	--	----	--	--	--	----

32	34		38		
----	----	--	----	--	--

(6) \triangle 有8个, \circ 有38个, \triangle 比 \circ (), \circ 比 \triangle ()。

(7) 百位上是1,十位和个位上都是0,这个数是()。

3. 对号入座。

(1) 3张1元,2张5角,5张1角组成的是()。

① 3元5角

② 4元5角

③ 3元15角

(2) 69和71之间有()个两位数。

① 1

② 2

③ 3

(3) ()和()的个位上是6。

① 63

② 16

③ 76

④ 65

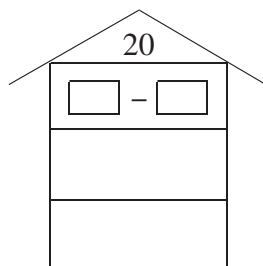
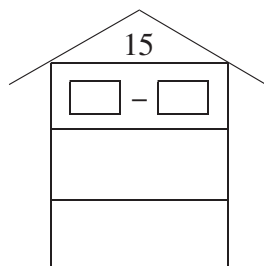
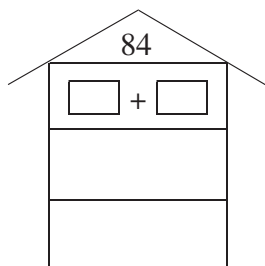
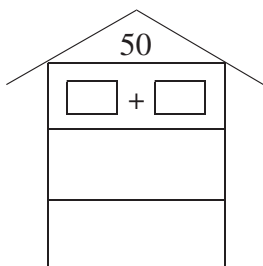
(4) 减数是30的算式是()。

① $78 - 30$

② $30 - 28$

③ $30 - 15$

4. 盖楼房,看谁盖的楼房高。(一种方法一层,方法多的可在下面空白处继续写)



5. 用竖式计算。

$46 + 18 =$

$67 - 29 =$

$70 - 26 =$

$9 + 47 =$

$95 - 19 =$

$35 + 49 =$

$24 + 48 =$

$71 - 17 =$

6. 解决问题。

(1)

今天口算测试的 35 道题我全做对了。



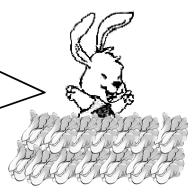


唉，我如果细心点，再做对 7 道就和你一样了。

小明 小华

- ①小华做对了多少道题？
 $\square \bigcirc \square = \square$ (道)
- ②两人一共做对了多少道题？
 $\square \bigcirc \square = \square$ (道)

(2)

我拔了 35 棵白菜。

我拔了 19 棵白菜。

兔妈妈 小兔子

- ①小兔子比兔妈妈少拔多少棵白菜？
 $\square \bigcirc \square = \square$ (棵)
- ②兔妈妈和小兔子一共拔了多少棵？
 $\square \bigcirc \square = \square$ (棵)

7. 小明攒了 33 元钱,其中 10 元 1 张,5 元 3 张,1 元 8 张。现在他要买一本 12 元钱的《伊索寓言》,他有几种付钱方法? 请你帮帮他。

	方法一	方法二	方法三
10 元			
5 元	2 张		
1 元	2 张		

8. 爸爸买了一些梨,吃了 36 个,还剩 28 个,爸爸共买来多少个梨?

$\square \bigcirc \square = \square$ (个)

9. 15 个小朋友捉迷藏,其中 4 个小朋友已经被捉住,还有几个小朋友没有被捉住?

期末检测(B)

1. 按要求填数。

(1) 按规律填。


	16		18
--	----	--	----

(2) 填最小的数。 $\square + 17 > 19$

(3) 填最大的数。 $\square - 20 < 8$

(4) 填整十数。 $26 + \square = \square - 4$

2. 小马过河。(在每道题的旁边写得数)



3. 小法官。(对的画“√”,错的画“×”)

- (1) 1个十和10个一组成的数不相等。 ()
- (2) 梨比苹果少8个,也就是苹果比梨多8个。 ()
- (3) 1张1元钱可以换10张1角,也可以换2张5角。 ()
- (4) 排队时,小明的前面有3个同学,后面有2个同学,这一队共有5个同学。 ()
- (5) 一年级数学兴趣小组有46人,语文兴趣小组的人数比数学组的人数多一些,语文兴趣小组可能有92人。 ()

(6)
$$\begin{array}{r} 37 \\ + 6 \\ \hline 97 \end{array} \quad ()$$

$$\begin{array}{r} 28 \\ + 36 \\ \hline 54 \end{array} \quad ()$$




$$\begin{array}{r} 41 \\ - 19 \\ \hline 22 \end{array} \quad ()$$

4. 列竖式计算。

$26 + 28 =$ $86 - 37 =$ $39 - 18 =$ $49 + 21 =$ $80 - 37 =$



5. 看谁填得又快又准。

	原有	走了	还剩
	18 只	9 只	() 只
	15 条	7 条	() 条
	14 只	() 只	6 只

6. 解决问题。

(1)




① 奶奶家养了多少只母鸡?

$$\square \bigcirc \square = \square \text{ (只)}$$

② 公鸡比母鸡少多少只?

$$\square \bigcirc \square = \square \text{ (只)}$$

(2)



① 你知道这本书一共有多少页吗?

$$\square \bigcirc \square = \square \text{ (页)}$$

② 没看的页数比已经看了的页数多多少页?

$$\square \bigcirc \square = \square \text{ (页)}$$

7. 根据下面的条件, 提出问题并解答。

小明有 19 本书

小英有 26 本书

小强有 40 本书

(1) 问题: _____

解答: _____

(2) 问题: _____

解答: _____

(3) 问题: _____

解答: _____

8. 算一算。



9 元 3 角



56 元



18 元

(1) 我要买衣服和闹钟, 付 70 元够吗? _____

(2) 我要买毛巾, 怎样付正好不用找钱? _____



防毒禁毒宣传语

- ★ 珍爱生命 拒绝毒品
- ★ 防毒反毒 人人有责
- ★ 禁绝毒品 功在当代 利在千秋
- ★ 远离毒品 亲近美好人生
- ★ 抵制毒品侵害 珍惜美好年华
- ★ 拒绝毒品 健康娱乐
- ★ 认识毒品危害 提高抵御能力
- ★ 贩毒就是谋财害命 吸毒就是自杀身亡
- ★ 无毒邻里称颂 有毒家破人亡
- ★ 毒品尝一口 阎王在招手
- ★ 珍爱生命 远离毒品 争做文明青少年
- ★ 莫沾毒品 莫交毒友
- ★ 敲开毒品的门 挖好自己的坟
- ★ 一次吸毒终生悔 莫拿生命赌明天
- ★ 远离白色粉末 拥抱七彩生活





语文 一年级
 语文 二年级
 语文 三年级
 语文 四年级
 语文 五年级
 语文 六年级

人教版

数学 一年级
 数学 二年级
 数学 三年级
 数学 四年级
 数学 五年级
 数学 六年级

英语 三年级
 英语 四年级
 英语 五年级
 英语 六年级

外研版

英语 三年级
 英语 四年级
 英语 五年级
 英语 六年级

北师大版

数学 一年级
 数学 二年级
 数学 三年级
 数学 四年级
 数学 五年级
 数学 六年级

苏教版

数学 一年级
 数学 二年级
 数学 三年级
 数学 四年级
 数学 五年级
 数学 六年级

责任编辑：王 慧
 封面设计：杭永鸿

